

**23 PROVAS DO ENEM**  
**ORGANIZADAS POR DISCIPLINA**

# FÍSICA

***CADERNO DE QUESTÕES***

**PROVAS 2009 a 2018**

**329 QUESTÕES**

**COM GABARITO**



## Sobre o Caderno Enem

Desde a mudança no formato da prova, em 2009, já ocorrerão **23 edições do ENEM**, considerando provas oficiais, anuladas e aplicadas em Unidades Prisionais.

Este material reúne todas estas provas, organizando suas questões segundo a respectiva disciplina abordada. No total, temos **12 cadernos**: Matemática, Biologia, Física, Química, História, Geografia, Filosofia/Sociologia, Inglês, Espanhol, Português, Redação e Literatura.

Na sequência apresentamos a relação das provas presentes no Caderno Enem. A sigla no início de cada questão é uma referência do ano e da ordem de aplicação da prova. Por exemplo, uma questão com a sigla ENEM 2014.2 foi aplicada nas Unidades Prisionais no ano de 2014, conforme explicamos:

- ENEM 2009.1 - Prova Anulada 2009
- ENEM 2009.2 - Prova Oficial 2009
- ENEM 2009.3 - Prova Unidades Prisionais 2009
  
- ENEM 2010.1 - Prova Oficial 2010
- ENEM 2010.2 - Prova Unidades Prisionais 2010
  
- ENEM 2011.1 - Prova Oficial 2011
- ENEM 2011.2 - Prova Unidades Prisionais 2011
  
- ENEM 2012.1 - Prova Oficial 2012
- ENEM 2012.2 - Prova Unidades Prisionais 2012
  
- ENEM 2013.1 - Prova Oficial 2013
- ENEM 2013.2 - Prova Unidades Prisionais 2013
  
- ENEM 2014.1 - Prova Oficial 2014 (1ª Aplicação)
- ENEM 2014.2 - Prova Unidades Prisionais 2014
- ENEM 2014.3 - Prova Oficial 2014 (2ª Aplicação)
  
- ENEM 2015.1 - Prova Oficial 2015
- ENEM 2015.2 - Prova Unidades Prisionais 2015
  
- ENEM 2016.1 - Prova Oficial 2016 (1ª Aplicação)
- ENEM 2016.2 - Prova Oficial 2016 (2ª Aplicação)
- ENEM 2016.3 - Prova Unidades Prisionais 2016
  
- ENEM 2017.1 - Prova Oficial 2017
- ENEM 2017.2 - Prova Unidades Prisionais 2017
  
- ENEM 2018.1 - Prova Oficial 2018
- ENEM 2018.2 - Prova Unidades Prisionais 2018



### Questão 01 (2009.1)

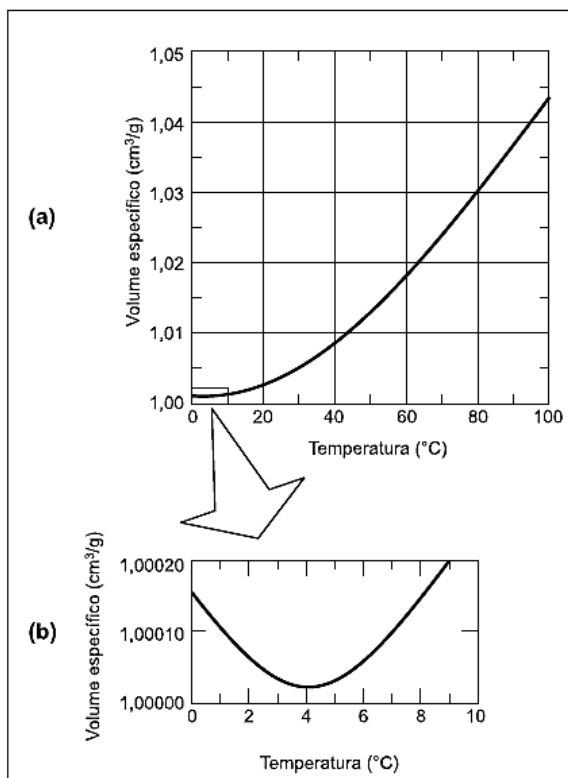
A água apresenta propriedades físico-químicas que a coloca em posição de destaque como substância essencial à vida. Dentre essas, destacam-se as propriedades térmicas biologicamente muito importantes, por exemplo, o elevado valor de calor latente de vaporização. Esse calor latente refere-se à quantidade de calor que deve ser adicionada a um líquido em seu ponto de ebulição, por unidade de massa, para convertê-lo em vapor na mesma temperatura, seu no caso da água é igual a 540 calorias por grama.

A propriedade físico-química mencionada no texto confere à água a capacidade de:

- A) servir como doador de elétrons no processo de fotossíntese.
- B) funcionar como regulador térmico para os organismos vivos.
- C) agir como solvente universal nos tecidos animais e vegetais.
- D) transportar os tons de ferro e magnésio nos tecidos vegetais.
- E) funcionar como mantenedora do metabolismo nos organismos vivos.

### Questão 02 (2009.1)

De maneira geral, se a temperatura de um líquido comum aumenta, ele sofre dilatação. O mesmo não ocorre com a água, se ela estiver a uma temperatura próxima a de seu ponto de congelamento.



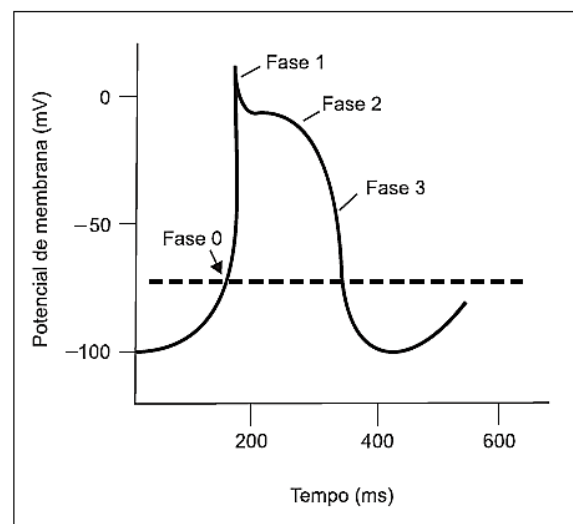
O gráfico mostra como o volume específico (inverso da densidade) da água varia em função da temperatura, com uma aproximação na região entre 0 °C e 10 °C, ou seja, nas proximidades do ponto de congelamento da água.

A partir do gráfico, é correto concluir que o volume ocupado por certa massa de água:

- A) diminui em menos de 3% ao se resfriar de 100°C a 0°C.
- B) aumenta em mais de 0,4% ao se resfriar de 4°C a 0°C.
- C) diminui em menos de 0,04% ao se aquecer de 0°C a 4°C.
- D) aumenta em mais de 4% ao se aquecer de 4°C a 9°C.
- E) aumenta em menos de 3% ao se aquecer de 0°C a 100°C.

### Questão 03 (2009.1)

As células possuem potencial de membrana, que pode ser classificado em repouso ou ação, e é uma estratégia eletrofisiológica interessante e simples do ponto de vista físico. Essa característica eletrofisiológica está presente na figura a seguir, que mostra um potencial de ação disparado por uma célula que compõe as fibras de Purkinje, responsáveis por conduzir os impulsos elétricos para o tecido cardíaco, possibilitando assim a contração cardíaca. Observa-se que existem quatro fases envolvidas nesse potencial de ação, sendo denominadas fases 0, 1, 2 e 3.



O potencial de repouso dessa célula é -100 mV, e quando ocorre influxo de íons  $\text{Na}^+$  e  $\text{Ca}^{2+}$ , a polaridade celular pode atingir valores de até +10 mV, o que se denomina despolarização celular. A modificação no potencial de repouso pode disparar um potencial de ação quando a voltagem da membrana atinge o limiar de disparo que está representado na figura pela linha pontilhada. Contudo, a célula não pode se man-



ter despolarizada, pois isso acarretaria a morte celular. Assim, ocorre a repolarização celular, mecanismo que reverte a despolarização e retorna a célula ao potencial de repouso. Para tanto, há o efluxo celular de íons  $K^+$ .

Qual das fases, presentes na figura, indica o processo de despolarização e repolarização celular, respectivamente?

- A) Fases 0 e 2.
- B) Fases 0 e 3.
- C) Fases 1 e 2.
- D) Fases 2 e 0.
- E) Fases 3 e 1.

---

**Questão 04 (2009.1)**

A energia geotérmica tem sua origem no núcleo derretido da Terra, onde as temperaturas atingem cerca de  $4000\text{ }^\circ\text{C}$ . Essa energia é primeiramente produzida pela decomposição (decaimento) de materiais radioativos dentro do planeta. Em fontes geotérmicas, a água, aprisionada em um reservatório subterrâneo, é aquecida pelas rochas ao redor e fica submetida a altas pressões, podendo atingir temperaturas de até  $370\text{ }^\circ\text{C}$  sem entrar em ebulição. Ao ser liberada na superfície, à pressão ambiente, ela se vaporiza e se resfria, formando fontes ou gêiseres. O vapor dos poços geotérmicos é separado da água e é utilizado no funcionamento de turbinas para gerar eletricidade. A água quente pode ser utilizada para aquecimento direto ou em usinas de dessalinização.

(HINRICHS, Roger A. Energia e Meio Ambiente. São Paulo: Pioneira Thomson Learning, 2003 - adaptado)

Sob o aspecto da conversão de energia, as usinas geotérmicas:

- A) funcionam com base na conversão de energia potencial gravitacional em energia térmica.
- B) transformam inicialmente a energia solar em energia cinética e, depois, em energia térmica.
- C) podem aproveitar a energia química transformada em térmica no processo de dessalinização.
- D) assemelham-se às usinas nucleares no que diz respeito à conversão de energia térmica em cinética e, depois, em elétrica.
- E) utilizam a mesma fonte primária de energia que as usinas nucleares, sendo, portanto, semelhantes aos riscos decorrentes de ambas.

---

**Questão 05 (2009.1)**

A ultrassonografia, também chamada de ecografia, é uma técnica de geração de imagens muito utilizada em medicina. Ela se baseia na reflexão que ocorre quando um pulso de ultras-

som, emitido pelo aparelho colocado em contato com a pele, atravessa a superfície que separa um órgão do outro, produzindo ecos que podem ser captados de volta pelo aparelho. Para a observação de detalhes no interior do corpo, os pulsos sonoros emitidos têm frequências altíssimas, de até  $30\text{ MHz}$ , ou seja,  $30$  milhões de oscilações a cada segundo.

A determinação de distâncias entre órgãos do corpo humano feita com esse aparelho fundamenta-se em duas variáveis imprescindíveis:

- A) a intensidade do som produzido pelo aparelho e a frequência desses sons.
- B) a quantidade de luz usada para gerar as imagens no aparelho e a velocidade do som nos tecidos.
- C) a quantidade de pulsos emitidos pelo aparelho a cada segundo e a frequência dos sons emitidos pelo aparelho.
- D) a velocidade do som no interior dos tecidos e o tempo entre os ecos produzidos pelas superfícies dos órgãos.
- E) o tempo entre os ecos produzidos pelos órgãos e a quantidade de pulsos emitidos a cada segundo pelo aparelho.

---

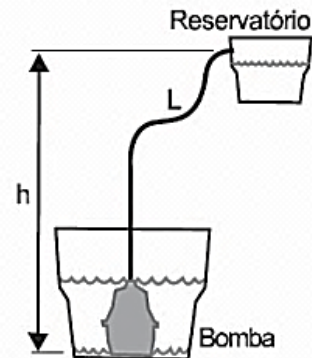
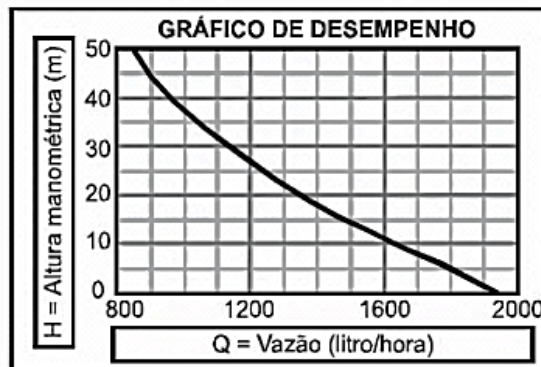
**Questão 06 (2009.1)**

O uso da água do subsolo requer o bombeamento para um reservatório elevado. A capacidade de bombeamento (litros/hora) de uma bomba hidráulica depende da pressão máxima de bombeio, conhecida como altura manométrica  $H$  (em metros), do comprimento  $L$  da tubulação que se estende da bomba até o reservatório (em metros), da altura de bombeio  $h$  (em metros) e do desempenho da bomba (exemplificado no gráfico). De acordo com os dados a seguir, obtidos de um fabricante de bombas, para se determinar a quantidade de litros bombeados por hora para o reservatório com uma determinada bomba, deve-se:

1. Fazer a escolha da linha apropriada na tabela correspondente à altura ( $h$ ), em metros, da entrada de água na bomba até o reservatório.
2. Fazer a escolha da coluna apropriada, correspondente ao comprimento total da tubulação ( $L$ ), em metros, da bomba até o reservatório.
3. Fazer a leitura da altura manométrica ( $H$ ) correspondente ao cruzamento das respectivas linha e coluna na tabela.
4. Usar a altura manométrica no gráfico de desempenho para ler a vazão correspondente.



h = Altura (em metro) da entrada da água na bomba até o reservatório.	L = Comprimento total da tubulação (em metro), da bomba até o reservatório												
	10	20	40	60	80	100	125	150	175	200	225	250	300
	H = Altura manométrica total, em metro												
5	6	7	8	10	11	13	14	16	18	20	22	24	28
10	11	12	13	15	16	18	19	21	23	25	27	29	33
15		17	18	20	21	23	24	26	28	30	32	34	38
20		22	23	25	26	28	29	31	33	35	37	39	43
25			28	30	31	33	34	36	38	40	42	44	48
30			33	35	36	38	39	41	43	45	47	50	50
35			38	40	41	43	44	46	48	50	50		
40			43	45	46	50	50	50	50				
50				50	50								



Considere que se deseja usar uma bomba, cujo desempenho é descrito pelos dados acima, para encher um reservatório de 1.200 L que se encontra 30 m acima da entrada da bomba. Para fazer a tubulação entre a bomba e o reservatório seriam usados 200 m de cano. Nessa situação, é de se esperar que a bomba consiga encher o reservatório:

- A) entre 30 e 40 minutos.  
 B) em menos de 30 minutos.  
 C) em mais de 1 h e 40 minutos.  
 D) entre 40 minutos e 1 h e 10 minutos.  
 E) entre 1 h e 10 minutos e 1 h e 40 minutos.

### Questão 07 (2009.1)

Os motores elétricos são dispositivos com diversas aplicações, dentre elas, destacam-se aquelas que proporcionam conforto e praticidade para as pessoas. É inegável a preferência pelo uso de elevadores quando o objetivo é o transporte de pessoas pelos andares de prédios elevados. Nesse caso, um dimensionamento preciso da potência dos motores utilizados nos elevadores é muito importante e deve levar em consideração fatores como economia de energia e segurança.

Considere que um elevador de 800 kg, quando lotado com oito pessoas ou 600 kg, precisa ser projetado. Para tanto, alguns parâmetros deverão ser dimensionados. O motor será ligado à rede elétrica que fornece 220 volts de tensão. O elevador deve subir 10 andares, em torno de 30 metros, a uma velocidade constante de 4 metros por segundo. Para fazer uma estimativa simples da potência necessária e da corrente que deve ser fornecida ao motor do elevador para ele operar com lotação máxima, considere

que a tensão seja contínua, que a aceleração da gravidade vale  $10 \text{ m/s}^2$  e que o atrito pode ser desprezado.

Nesse caso, para um elevador lotado, a potência média de saída do motor do elevador e a corrente elétrica máxima que passa no motor serão respectivamente de:

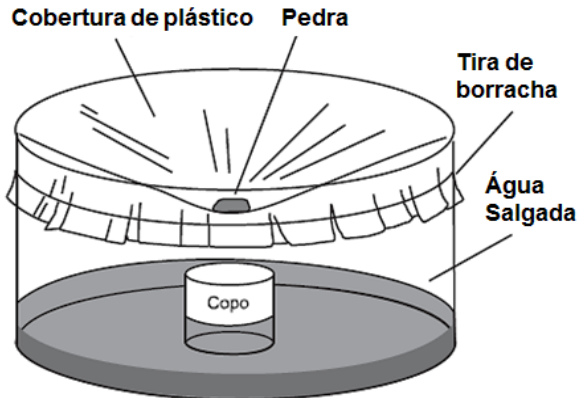
- A) 24kW e 109A.  
 B) 32kW e 145A.  
 C) 56kW e 255A.  
 D) 180kW e 818A.  
 E) 240kW e 1090A.

### Questão 08 (2009.1)

Além de ser capaz de gerar eletricidade, a energia solar é usada para muitas outras finalidades. A figura a seguir mostra o uso da energia solar para dessalinizar a água. Nela, um tanque contendo água salgada é coberto por um plástico transparente e tem a sua parte central abaixada pelo peso de uma pedra, sob a qual se coloca um recipiente (copo).



A água evaporada se condensa no plástico e escorre até o ponto mais baixo, caindo dentro do copo.



Nesse processo, a energia solar cedida à água salgada:

- A) fica retida na água doce que cai no copo, tornando-a, assim, altamente energizada.
- B) fica armazenada na forma de energia potencial gravitacional contida na água doce.
- C) é usada para provocar a reação química que transforma a água salgada em água doce.
- D) é cedida ao ambiente externo através do plástico, onde ocorre a condensação do vapor.
- E) é reemitida como calor para fora do tanque, no processo de evaporação da água salgada.

#### Questão 09 (2009.1)

##### O Super-homem e as leis do movimento



Uma das razões para pensar sobre a física dos super-heróis é, acima de tudo, uma forma divertida de explorar muitos fenômenos físicos interessantes, desde fenômenos corriqueiros até eventos considerados fantásticos. A figura seguinte mostra o Super-homem lançando-se no espaço para chegar ao topo de um prédio de altura  $H$ . Seria possível admitir que com seus superpoderes ele estaria voando com propulsão própria, mas considere que ele tenha dado um

forte salto. Neste caso, sua velocidade final no ponto mais alto do salto deve ser zero, caso contrário, ele continuaria subindo. Sendo  $g$  a aceleração da gravidade, a relação entre a velocidade inicial do Super-homem e a altura atingida é dada por:  $V^2 = 2gG$ .

A altura que o Super-homem alcança em seu salto depende do quadrado de sua velocidade inicial porque:

- A) a altura do seu pulo é proporcional à sua velocidade média multiplicada pelo tempo que ele permanece no ar ao quadrado.
- B) o tempo que ele permanece no ar é diretamente proporcional à aceleração da gravidade e essa é diretamente proporcional à velocidade.
- C) o tempo que ele permanece no ar é inversamente proporcional à aceleração da gravidade e essa é inversamente proporcional à velocidade média.
- D) a aceleração do movimento deve ser elevada ao quadrado, pois existem duas acelerações envolvidas: a aceleração da gravidade e a aceleração do salto.
- E) a altura do pulo é proporcional à sua velocidade média multiplicada pelo tempo que ele permanece no ar, e esse tempo também depende da sua velocidade inicial.

#### Questão 10 (2009.1)

A eficiência de um processo de conversão de energia, definida como sendo a razão entre a quantidade de energia ou trabalho útil e a quantidade de energia que entra no processo, é sempre menor que 100% devido a limitações impostas por leis físicas. A tabela a seguir, mostra a eficiência global de vários processos de conversão.

##### Eficiência de alguns sistemas de conversão de energia

Sistema	Eficiência
Geradores elétricos	70 - 99%
Motor elétrico	50 - 95%
Fornalha a gás	70 - 95%
Termelétrica a carvão	30 - 40%
Usina Nuclear	30 - 35%
Lâmpada fluorescente	20%
Lâmpada incandescente	5%
Célula solar	5 - 28%

(HINRICH, R. A.; KLEINBACH, M. Energia e meio ambiente. São Paulo: Pioneira Learning, 2003)



Se essas limitações não existissem, os sistemas mostrados na tabela, que mais se beneficiariam de investimentos em pesquisa para terem suas eficiências aumentadas, seriam aqueles que envolvem as transformações de energia:

- A) mecânica ↔ energia elétrica.
- B) nuclear → energia elétrica.
- C) química ↔ energia elétrica.
- D) química → energia térmica.
- E) radiante → energia elétrica.

---

**Questão 11 (2009.1)**

A Constelação Vulpécua (Raposa) encontra-se 63 anos-luz da Terra, fora do sistema solar. Ali, o planeta gigante HD 189733b, 15% maior que Júpiter, concentra vapor de água na atmosfera. A temperatura do vapor atinge 900 graus Celsius. “A água sempre está lá, de alguma forma, mas às vezes é possível que seja escondida por outros tipos de nuvens”, afirmaram os astrônomos do Spitzer Science Center (SSC), com sede em Pasadena, Califórnia, responsável pela descoberta. A água foi detectada pelo espectrógrafo infravermelho, um aparelho do telescópio espacial Spitzer.

(Correio Braziliense, 11 dez. 2008 - adaptado)

De acordo com o texto, o planeta concentra vapor de água em sua atmosfera a 900 graus Celsius. Sobre a vaporização infere-se que:

- A) se há vapor de água no planeta, é certo que existe água no estado líquido também.
- B) a temperatura de ebulição da água independe da pressão, em um local elevado ou ao nível do mar, ela ferve sempre a 100 graus Celsius.
- C) o calor de vaporização da água é o calor necessário para fazer 1 kg de água líquida se transformar em 1 kg de vapor de água a 100 graus Celsius.
- D) um líquido pode ser superaquecido acima de sua temperatura de ebulição normal, mas de forma nenhuma nesse líquido haverá formação de bolhas.
- E) a água em uma panela pode atingir a temperatura de ebulição em alguns minutos, e é necessário muito menos tempo para fazer a água vaporizar completamente.

---

**Questão 12 (2009.1)**

Em grandes metrópoles, devido a mudanças na superfície terrestre - asfalto e concreto em excesso, por exemplo - formam-se ilhas de calor. A resposta da atmosfera a esse fenômeno é a precipitação convectiva. Isso explica a violência das chuvas em São Paulo, onde as ilhas de calor chegam a ter 2 a 3 graus centígrados de diferença em relação ao seu entorno.

(Revista Terra da Gente. Ano 5, nº 60, 04/2009 - adp)

As características físicas, tanto do material como da estrutura projetada de uma edificação, são a base para compreensão de resposta daquela tecnologia construtiva em termos de conforto ambiental.

Nas mesmas condições ambientais (temperatura, umidade e pressão), uma quadra terá melhor conforto térmico se:

- A) pavimentada com material de baixo calor específico, pois quanto menor o calor específico de determinado material, menor será a variação térmica sofrida pelo mesmo ao receber determinada quantidade de calor.
- B) pavimentada com material de baixa capacidade térmica, pois quanto menor a capacidade térmica de determinada estrutura, menor será a variação térmica sofrida por ela ao receber determinada quantidade de calor.
- C) pavimentada com material de alta capacidade térmica, pois quanto maior a capacidade térmica de determinada estrutura, menor será a variação térmica sofrida por ela ao receber determinada quantidade de calor.
- D) possuir um sistema de vaporização, pois ambientes mais úmidos permitem uma mudança de temperatura lenta, já que o vapor d'água possui a capacidade de armazenar calor sem grandes alterações térmicas, devido ao baixo calor específico da água (em relação à madeira, por exemplo).
- E) possuir um sistema de sucção do vapor d'água, pois ambientes mais secos permitem uma mudança de temperatura lenta, já que o vapor d'água possui a capacidade de armazenar calor sem grandes alterações térmicas, devido ao baixo calor específico da água (em relação à madeira, por exemplo).

---

**Questão 13 (2009.1)**

Considere a ação de se ligar uma bomba hidráulica elétrica para captar água de um poço e armazená-la em uma caixa d'água localizada alguns metros acima do solo. As etapas seguidas pela energia entre a usina hidroelétrica e a residência do usuário podem ser divididas da seguinte forma:

- I. Na usina: água flui da represa até a turbina, que aciona o gerador para produzir energia elétrica.
- II. Na transmissão: no caminho entre a usina e a residência do usuário a energia elétrica flui por condutores elétricos.
- III. Na residência: a energia elétrica aciona um motor cujo eixo está acoplado ao de uma bomba hidráulica e, ao girar, cumpre a tarefa de transferir água do poço para a caixa.



As etapas I, II e III acima mostram, de forma resumida e simplificada, a cadeia de transformações de energia que se processam desde a fonte de energia primária até o seu uso final. A opção que detalha o que ocorre em cada etapa é:

A) Na etapa I, energia potencial gravitacional da água armazenada na represa transforma-se em energia potencial da água em movimento na tubulação, a qual lançada na turbina, causa a rotação do eixo do gerador elétrico e a correspondente energia cinética, dá lugar ao surgimento de corrente elétrica.

B) Na etapa I, parte do calor gerado na usina se transforma em energia potencial na tubulação, no eixo da turbina e Joule no circuito interno do gerador.

C) Na etapa II, elétrons movem-se nos condutores que formam o circuito entre o gerador e a residência: nessa etapa, parte da energia elétrica transforma-se em energia térmica por efeito Joule nos condutores e parte se transforma em energia potencial gravitacional.

D) Na etapa III, a corrente elétrica é convertida em energia térmica, necessária ao acionamento do eixo da bomba hidráulica, que faz a conversão em energia cinética ao fazer a água fluir do poço até a caixa, com ganho de energia potencial gravitacional pela água.

E) Na etapa III, parte da energia se transforma em calor devido a forças dissipativas (atrito). Na tubulação; e também por efeito Joule no circuito interno do motor; outra parte é transformada em energia cinética da água na tubulação e potencial gravitacional na caixa d'água.

---

#### Questão 14 (2009.1)

Os radares comuns transmitem microondas que refletem na água, gelo e outras partículas na atmosfera. Podem, assim, indicar apenas o tamanho e a distância das partículas, tais como gotas de chuva. O radar Doppler, além disso, é capaz de registrar a velocidade e a direção na qual as partículas se movimentam, fornecendo um quadro do fluxo de ventos em diferentes elevações.

Nos Estados Unidos, a Nexrad, uma rede de 158 radares Doppler, montada na década de 1990 pela Diretoria Nacional Oceânica e Atmosférica (NOAA), permite que o Serviço Meteorológico Nacional (NWS) emita alertas sobre situações do tempo potencialmente perigosas com um grau de certeza muito maior.

O pulso da onda do radar ao atingir uma gota de chuva, devolve uma pequena parte de sua energia numa onda de retorno, que chega ao disco do radar antes que ele emita a onda se-

guinte. Os radares da Nexrad transmitem entre 860 a 1300 pulsos por segundo, na frequência de 3000 MHz.

(FISCHETTI, M., Radar Meteorológico: Sinta o Vento. Scientific American Brasil. nº- 08, SP, jan. 2003)

No radar Doppler, a diferença entre as frequências emitidas e recebidas pelo radar é dado por  $f = (2U_r/c) F_0$  onde  $U_r$  é a velocidade relativa entre a fonte e o receptor,  $c = 3,0 \times 10^8$  m/s é a velocidade da onda eletromagnética, e  $F_0$  é a frequência emitida pela fonte.

Qual é a velocidade, em km/h, de uma chuva, para a qual se registra no radar Doppler uma diferença de frequência de 300 Hz?

- A) 1,5 km/h
- B) 5,4 km/h
- C) 15 km/h
- D) 54 km/h
- E) 108 km/h

---

#### Questão 15 (2009.2)

Na linha de uma tradição antiga, o astrônomo grego Ptolomeu (100-170 d.C.) afirmou a tese do geocentrismo, segundo a qual a Terra seria o centro do universo, sendo que o Sol, a Lua e os planetas girariam em seu redor em órbitas circulares. A teoria de Ptolomeu resolvia de modo razoável os problemas astronômicos da sua época. Vários séculos mais tarde, o clérigo e astrônomo polonês Nicolau Copérnico (1473-1543), ao encontrar inexactidões na teoria de Ptolomeu, formulou a teoria do heliocentrismo, segundo a qual o Sol deveria ser considerado o centro do universo, com a Terra, a Lua e os planetas girando circularmente em torno dele. Por fim, o astrônomo e matemático alemão Johannes Kepler (1571-1630), depois de estudar o planeta Marte por cerca de trinta anos, verificou que a sua órbita é elíptica. Esse resultado generalizou-se para os demais planetas.

A respeito dos estudiosos citados no texto, é correto afirmar que:

- A) Ptolomeu apresentou as ideias mais valiosas, por serem mais antigas e tradicionais.
- B) Copérnico desenvolveu a teoria do heliocentrismo inspirado no contexto político do Rei Sol.
- C) Copérnico viveu em uma época em que a pesquisa científica era livre e amplamente incentivada pelas autoridades.
- D) Kepler estudou o planeta Marte para atender às necessidades de expansão econômica e científica da Alemanha.
- E) Kepler apresentou uma teoria científica que, graças aos métodos aplicados, pôde ser testada e generalizada.





**Questão 16 (2009.1)**

Uma estudante que ingressou na universidade e, pela primeira vez, está morando longe de sua família, recebe sua primeira conta de luz:

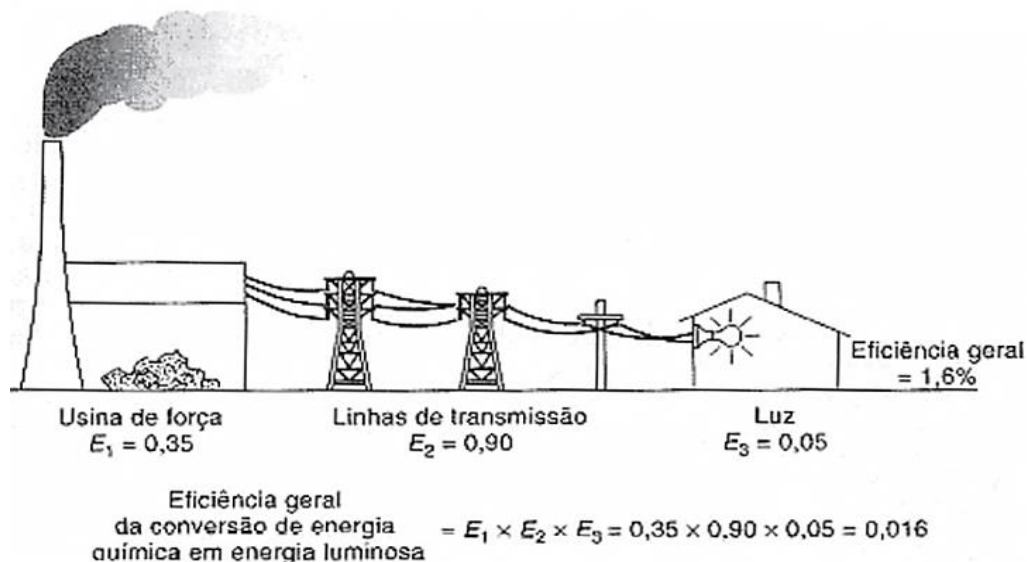
Medidor		Consumo	Leitura		Cód	Emissão	Id. Bancária			
Número 7131312	Consumidor 951672	Leitura 7295 kWh 260	Dia 31	Mês 03	21	01/04/2009	Banco 222	Agência 999-7	Município S. José das Moças	
Consumo dos últimos 12 meses em kWh							Descrição			
253 Mar/08	278 Jun/08	272 Set/08	265 Dez/08			Fornecimento ICMS				
247 Abr/08	280 Jul/08	270 Out/08	266 Jan/09							
255 Mai/08	275 Ago/08	260 Nov/08	268 Fev/09							
Base de Cálculo ICMS		Alíquota	Valor		Total					
R\$ 130,00		25%	R\$ 32,50		R\$ 162,50					

Se essa estudante comprar um secador de cabelos que consome 1000 W de potência e considerando que ela e sua 3 amigas utilizem esse aparelho por 15 minutos cada uma durante 20 dias no mês, qual será o acréscimo em reais na sua conta mensal?

- A) 10,00
- B) 12,50
- C) 13,00
- D) 13,50
- E) 14,00

**Questão 17 (2009.2)**

A eficiência de um processo de conversão de energia é definida como a razão entre a produção de energia ou trabalho útil e o total de entrada de energia no processo. A figura mostra um processo com diversas etapas. Nesse caso, a eficiência geral será igual ao produto das eficiências das etapas individuais. A entrada de energia que não se transforma em trabalho útil é perdida sob formas não utilizáveis (como resíduos de calor).



Aumentar a eficiência dos processos de conversão de energia implica economizar recursos e combustíveis. Das propostas seguintes, qual resultará em maior aumento da eficiência geral do processo?

- A) Aumentar a quantidade de combustível para queima na usina de força.
- B) Utilizar lâmpadas incandescentes, que geram pouco calor e muita luminosidade.
- C) Manter o menor número possível de aparelhos elétricos em funcionamento nas moradias.
- D) Utilizar cabos com menor diâmetro nas linhas de transmissão a fim de economizar o material condutor.
- E) Utilizar materiais com melhores propriedades condutoras nas linhas de transmissão e lâmpadas fluorescentes nas moradias.



**Questão 18 (2009.2)**

O Brasil pode se transformar no primeiro país das Américas a entrar no seleto grupo das nações que dispõem de trens-bala. O Ministério dos Transportes prevê o lançamento do edital de licitação internacional para a construção da ferrovia de alta velocidade Rio-São Paulo. A viagem ligará os 403 quilômetros entre a Central do Brasil, no Rio, e a Estação da Luz, no centro da capital paulista, em uma hora e 25 minutos.

Devido à alta velocidade, um dos problemas a ser enfrentado na escolha do trajeto que será percorrido pelo trem é o dimensionamento das curvas.

Considerando-se que uma aceleração lateral confortável para os passageiros e segura para o trem seja de  $0,1 g$ , em que  $g$  é a aceleração da gravidade (considerada igual a  $10 \text{ m/s}^2$ ), e que a velocidade do trem se mantenha constante em todo o percurso, seria correto prever que as curvas existentes no trajeto deveriam ter raio de curvatura mínimo de, aproximadamente,

- A) 80 m.
- B) 430 m.
- C) 800 m.
- D) 1.600 m.
- E) 6.400 m.

**Questão 19 (2009.2)**

O manual de instruções de um aparelho de ar-condicionado apresenta a seguinte tabela, com dados técnicos para diversos modelos:

Capacidade de refrigeração kW/(BTU/h)	Potência (W)	Corrente elétrica - ciclo frio (A)	Eficiência energética COP (W/W)	Vazão de ar ( $\text{m}^3/\text{h}$ )	Frequência (Hz)
3,52/(12.000)	1.193	5,8	2,95	550	60
5,42/(18.000)	1.790	8,7	2,95	800	60
5,42/(18.000)	1.790	8,7	2,95	800	60
6,45/(22.000)	2.188	10,2	2,95	960	60
6,45/(22.000)	2.188	10,2	2,95	960	60

Considere-se que um auditório possua capacidade para 40 pessoas, cada uma produzindo uma quantidade média de calor, e que praticamente todo o calor que flui para fora do auditório o faz por meio dos aparelhos de ar-condicionado. Nessa situação, entre as informações listadas, aquelas essenciais para se determinar quantos e/ou quais aparelhos de ar-condicionado são precisos para manter, com lotação máxima, a temperatura interna do auditório agradável e constante, bem como determinar a espessura da fiação do circuito elétrico para a ligação desses aparelhos, são:

- A) vazão de ar e potência.
- B) vazão de ar e corrente elétrica - ciclo frio.
- C) eficiência energética e potência.
- D) capacidade de refrigeração e frequência.
- E) capacidade de refrigeração e corrente elétrica - ciclo frio.

**Questão 20 (2009.2)**

A instalação elétrica de uma casa envolve várias etapas, desde a alocação dos dispositivos, instrumentos e aparelhos elétricos, até a escolha dos materiais que a compõem, passando pelo dimensionamento da potência requerida, da fiação necessária, dos eletrodutos\*, entre outras. Para cada aparelho elétrico existe um valor de potência associado. Valores típicos de potências para alguns aparelhos elétricos são apresentados no quadro seguinte:

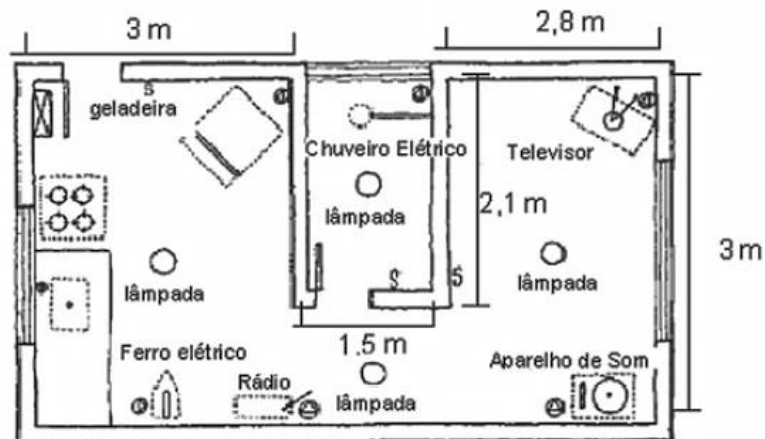
Aparelhos	Potência (W)
Aparelho de som	120
Chuveiro elétrico	3.000
Ferro elétrico	500
Televisor	200
Geladeira	200
Rádio	50

\*Eletrodutos são condutos por onde passa a fiação de uma instalação elétrica, com a finalidade de protegê-la.



A escolha das lâmpadas é essencial para obtenção de uma boa iluminação. A potência da lâmpada deverá estar de acordo com o tamanho do cômodo a ser iluminado. O quadro a seguir mostra a relação entre as áreas dos cômodos (em  $m^2$ ) e as potências das lâmpadas (em W), e foi utilizado como referência para o primeiro pavimento de uma residência.

Área do Cômodo ( $m^2$ )	Potência da Lâmpada (W)		
	Sala/copa /cozinha	Quarto, varanda e corredor	Banheiro
Até 6,0	60	60	60
6,0 a 7,5	100	100	60
7,5 a 10,5	100	100	100

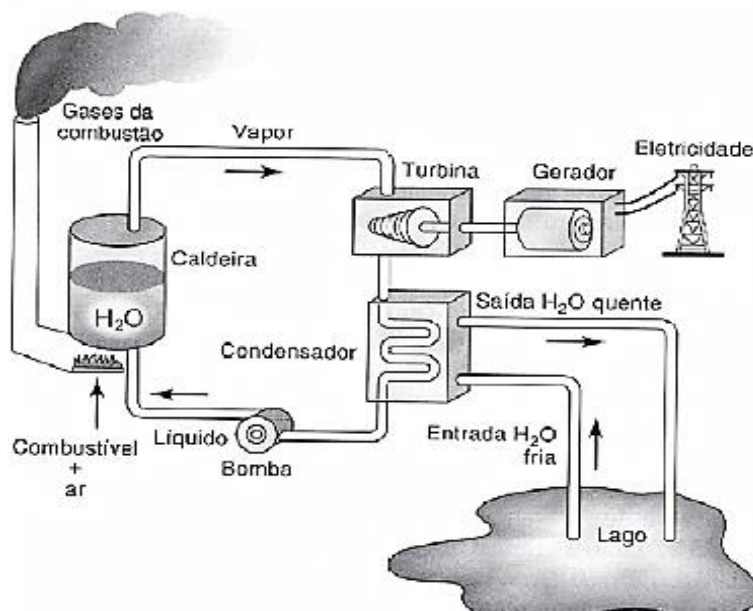


Considerando a planta baixa fornecida, com todos os aparelhos em funcionamento, a potência total, em watts, será de:

- A) 4.070.
- B) 4.270.
- C) 4.320.
- D) 4.390.
- E) 4.470.

**Questão 21 (2009.2)**

O esquema mostra um diagrama de bloco de uma estação geradora de eletricidade abastecida por combustível fóssil.





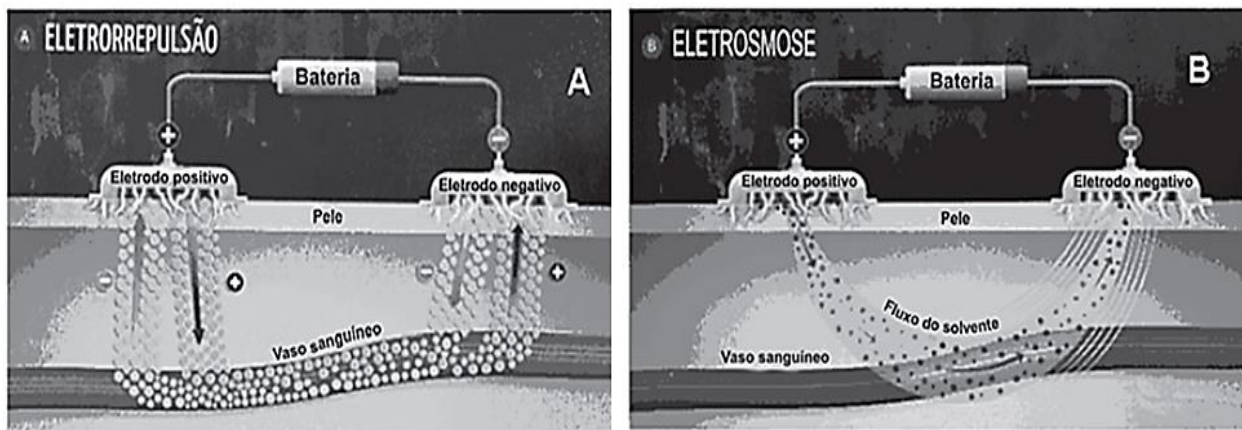
Se fosse necessário melhorar o rendimento dessa usina, que forneceria eletricidade para abastecer uma cidade, qual das seguintes ações poderia resultar em alguma economia de energia, sem afetar a capacidade de geração da usina?

- A) Reduzir a quantidade de combustível fornecido à usina para ser queimado.
- B) Reduzir o volume de água do lago que circula no condensador de vapor.
- C) Reduzir o tamanho da bomba usada para devolver a água líquida à caldeira.
- D) Melhorar a capacidade dos dutos com vapor conduzirem calor para o ambiente.
- E) Usar o calor liberado com os gases pela chaminé para mover um outro gerador.

**Questão 22 (2009.2)**

Um medicamento, após ser ingerido, atinge a corrente sanguínea e espalha-se pelo organismo, mas, como suas moléculas “não sabem” onde é que está o problema, podem atuar em locais diferentes do local “alvo” e desencadear efeitos além daqueles desejados. Não seria perfeito se as moléculas dos medicamentos soubessem exatamente onde está o problema e fossem apenas até aquele local exercer sua ação? A técnica conhecida como iontoforese, indolor e não invasiva, promete isso.

Como mostram as figuras, essa nova técnica baseia-se na aplicação de uma corrente elétrica de baixa intensidade sobre a pele do paciente, permitindo que fármacos permeiem membranas biológicas e alcancem a corrente sanguínea, sem passar pelo estômago. Muitos pacientes relatam apenas um formigamento no local de aplicação. O objetivo da corrente elétrica é formar poros que permitam a passagem do fármaco de interesse. A corrente elétrica é distribuída por eletrodos, positivo e negativo, por meio de uma solução aplicada sobre a pele. Se a molécula do medicamento tiver carga elétrica positiva ou negativa, ao entrar em contato com o eletrodo de carga de mesmo sinal, ela será repelida e forçada a entrar na pele (eletrorrepulsão - A). Se for neutra, a molécula será forçada a entrar na pele juntamente com o fluxo de solvente fisiológico que se forma entre os eletrodos (eletrosmose - B).

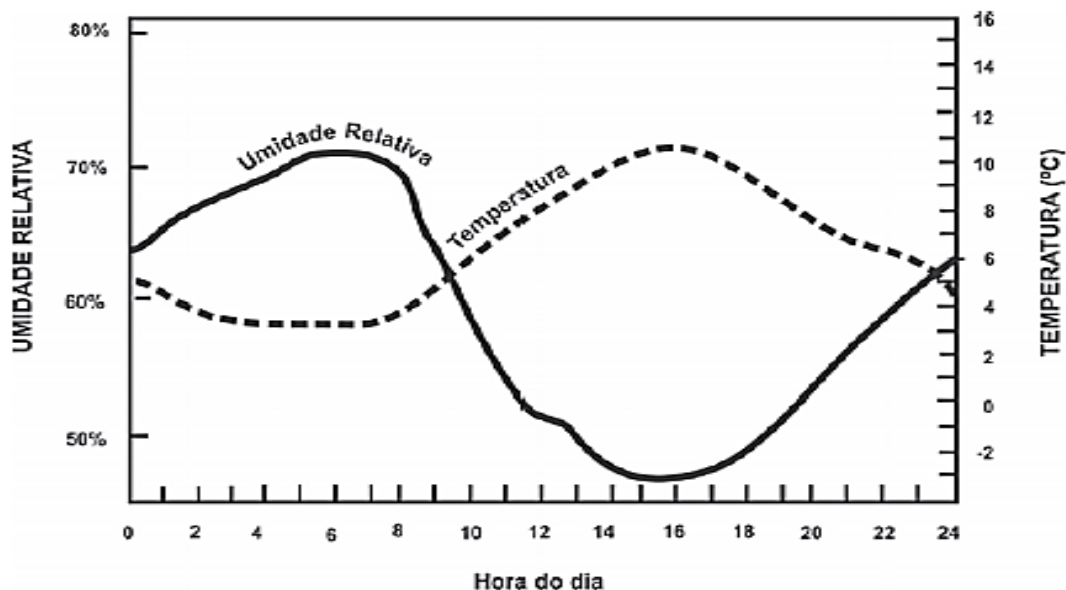


De acordo com as informações contidas no texto e nas figuras, o uso da iontoforese:

- A) provoca ferimento na pele do paciente ao serem introduzidos os eletrodos, rompendo o epitélio.
- B) aumenta o risco de estresse nos pacientes, causado pela aplicação da corrente elétrica.
- C) inibe o mecanismo de ação dos medicamentos no tecido-alvo, pois estes passam a entrar por meio da pele.
- D) diminui o efeito colateral dos medicamentos, se comparados com aqueles em que a ingestão se faz por via oral.
- E) deve ser eficaz para medicamentos constituídos de moléculas polares e ineficaz, se essas forem apolares.

**Questão 23 (2009.2)**

Umidade relativa do ar é o termo usado para descrever a quantidade de vapor de água contido na atmosfera. Ela é definida pela razão entre o conteúdo real de umidade de uma parcela de ar e a quantidade de umidade que a mesma parcela de ar pode armazenar na mesma temperatura e pressão quando está saturada de vapor, isto é, com 100% de umidade relativa. O gráfico representa a relação entre a umidade relativa do ar e sua temperatura ao longo de um período de 24 horas em um determinado local.



Considerando-se as informações do texto e do gráfico, conclui-se que:

- A) a insolação é um fator que provoca variação da umidade relativa do ar.
- B) o ar vai adquirindo maior quantidade de vapor de água à medida que se aquece.
- C) a presença de umidade relativa do ar é diretamente proporcional à temperatura do ar.
- D) a umidade relativa do ar indica, em termos absolutos, a quantidade de vapor de água existente na atmosfera.
- E) a variação da umidade do ar se verifica no verão, e não no inverno, quando as temperaturas permanecem baixas.

#### Questão 24 (2009.2)

O ônibus espacial *Atlantis* foi lançado ao espaço com cinco astronautas a bordo e uma câmera nova, que iria substituir uma outra danificada por um curto-circuito no telescópio *Hubble*. Depois de entrarem em órbita a 560 km de altura, os astronautas se aproximaram do *Hubble*. Dois astronautas saíram da *Atlantis* e se dirigiram ao telescópio. Ao abrir a porta de acesso, um deles exclamou: “Esse telescópio tem a massa grande, mas o peso é pequeno.”



Considerando o texto e as leis de Kepler, pode-se afirmar que a frase dita pelo astronauta:

- A) se justifica porque o tamanho do telescópio determina a sua massa, enquanto seu pequeno peso decorre da falta de ação da aceleração da gravidade.

B) se justifica ao verificar que a inércia do telescópio é grande comparada à dele próprio, e que o peso do telescópio é pequeno porque a atração gravitacional criada por sua massa era pequena.

C) não se justifica, porque a avaliação da massa e do peso de objetos em órbita tem por base as leis de Kepler, que não se aplicam a satélites artificiais.

D) não se justifica, porque a força-peso é a força exercida pela gravidade terrestre, neste caso, sobre o telescópio e é a responsável por manter o próprio telescópio em órbita.

E) não se justifica, pois a ação da força-peso implica a ação de uma força de reação contrária, que não existe naquele ambiente. A massa do telescópio poderia ser avaliada simplesmente pelo seu volume.

#### Questão 25 (2009.2)

É possível, com 1 litro de gasolina, usando todo o calor produzido por sua combustão direta, aquecer 200 litros de água de 20 °C a 55 °C. Pode-se efetuar esse mesmo aquecimento por um gerador de eletricidade, que consome 1 litro de gasolina por hora e fornece 110 V a um resistor de 11  $\Omega$ , imerso na água, durante um certo intervalo de tempo. Todo o calor liberado pelo resistor é transferido à água.



Considerando que o calor específico da água é igual a  $4,19 \text{ J g}^{-1} \text{ }^\circ\text{C}^{-1}$ , aproximadamente qual a quantidade de gasolina consumida para o aquecimento de água obtido pelo gerador, quando comparado ao obtido a partir da combustão?

- A) A quantidade de gasolina consumida é igual para os dois casos.
- B) A quantidade de gasolina consumida pelo gerador é duas vezes maior que a consumida na combustão.
- C) A quantidade de gasolina consumida pelo gerador é duas vezes menor que a consumida na combustão.
- D) A quantidade de gasolina consumida pelo gerador é sete vezes maior que a consumida na combustão.
- E) A quantidade de gasolina consumida pelo gerador é sete vezes menor que a consumida na combustão.

---

**Questão 26 (2009.2)**

O progresso da tecnologia introduziu diversos artefatos geradores de campos eletromagnéticos. Uma das mais empregadas invenções nessa área são os telefones celulares e *smartphones*. As tecnologias de transmissão de celular atualmente em uso no Brasil contemplam dois sistemas. O primeiro deles é operado entre as frequências de 800 MHz e 900 MHz e constitui os chamados sistemas TDMA/CDMA. Já a tecnologia GSM, ocupa a frequência de 1.800 MHz.

Considerando que a intensidade de transmissão e o nível de recepção “celular” sejam os mesmos para as tecnologias de transmissão TDMA/CDMA ou GSM, se um engenheiro tiver de escolher entre as duas tecnologias para obter a mesma cobertura, levando em consideração apenas o número de antenas em uma região, ele deverá escolher:

- A) a tecnologia GSM, pois é a que opera com ondas de maior comprimento de onda.
- B) a tecnologia TDMA/CDMA, pois é a que apresenta Efeito Doppler mais pronunciado.
- C) a tecnologia GSM, pois é a que utiliza ondas que se propagam com maior velocidade.
- D) qualquer uma das duas, pois as diferenças nas frequências são compensadas pelas diferenças nos comprimentos de onda.
- E) qualquer uma das duas, pois nesse caso as intensidades decaem igualmente da mesma forma, independentemente da frequência.

---

**Questão 27 (2009.2)**

O Sol representa uma fonte limpa e inesgotável de energia para o nosso planeta. Essa energia pode ser captada por aquecedores solares, armazenada e convertida posteriormente em

trabalho útil. Considere determinada região cuja insolação — potência solar incidente na superfície da Terra — seja de  $800 \text{ watts/m}^2$ . Uma usina termossolar utiliza concentradores solares parabólicos que chegam a dezenas de quilômetros de extensão. Nesses coletores solares parabólicos, a luz refletida pela superfície parabólica espelhada é focalizada em um receptor em forma de cano e aquece o óleo contido em seu interior a  $400 \text{ }^\circ\text{C}$ . O calor desse óleo é transferido para a água, vaporizando-a em uma caldeira. O vapor em alta pressão movimenta uma turbina acoplada a um gerador de energia elétrica.



Considerando que a distância entre a borda inferior e a borda superior da superfície refletora tenha 6 m de largura e que focaliza no receptor os  $800 \text{ watts/m}^2$  de radiação provenientes do Sol, e que o calor específico da água é  $1 \text{ cal g}^{-1} \text{ }^\circ\text{C}^{-1} = 4.200 \text{ J kg}^{-1} \text{ }^\circ\text{C}^{-1}$ , então o comprimento linear do refletor parabólico necessário para elevar a temperatura de  $1 \text{ m}^3$  (equivalente a  $1 \text{ t}$ ) de água de  $20 \text{ }^\circ\text{C}$  para  $100 \text{ }^\circ\text{C}$ , em uma hora, estará entre:

- A) 15 m e 21 m.
- B) 22 m e 30 m.
- C) 105 m e 125 m.
- D) 680 m e 710 m.
- E) 6.700 m e 7.150 m.

---

**Questão 28 (2009.2)**

Sabe-se que o olho humano não consegue diferenciar componentes de cores e vê apenas a cor resultante, diferentemente do ouvido, que consegue distinguir, por exemplo, dois instrumentos diferentes tocados simultaneamente. Os raios luminosos do espectro visível, que têm comprimento de onda entre 380 nm e 780 nm, incidem na córnea, passam pelo cristalino e são projetados na retina. Na retina, encontram-se dois tipos de fotorreceptores, os cones e os bastonetes, que convertem a cor e a intensidade da luz recebida em impulsos nervosos. Os cones distinguem as cores primárias: vermelho, verde e azul, e os bastonetes diferenciam ape-



nas níveis de intensidade, sem separar comprimentos de onda. Os impulsos nervosos produzidos são enviados ao cérebro por meio do nervo óptico, para que se dê a percepção da imagem.

Um indivíduo que, por alguma deficiência, não consegue captar as informações transmitidas pelos cones, perceberá um objeto branco, iluminado apenas por luz vermelha, como:

- A) um objeto indefinido, pois as células que captam a luz estão inativas.
- B) um objeto rosa, pois haverá mistura da luz vermelha com o branco do objeto.
- C) um objeto verde, pois o olho não consegue diferenciar componentes de cores.
- D) um objeto cinza, pois os bastonetes captam luminosidade, porém não diferenciam cor.
- E) um objeto vermelho, pois a retina capta a luz refletida pelo objeto, transformando-a em vermelho.

#### Questão 29 (2009.2)

Durante uma ação de fiscalização em postos de combustíveis, foi encontrado um mecanismo inusitado para enganar o consumidor. Durante o inverno, o responsável por um posto de combustível compra álcool por R\$ 0,50/litro, a uma temperatura de 5 °C. Para revender o líquido aos motoristas, instalou um mecanismo na bomba de combustível para aquecê-lo, para que atinja a temperatura de 35 °C, sendo o litro de álcool revendido a R\$ 1,60. Diariamente o posto compra 20 mil litros de álcool a 5 °C e os revende.

Com relação à situação hipotética descrita no texto e dado que o coeficiente de dilatação volumétrica do álcool é de  $1 \times 10^{-3} \text{ } ^\circ\text{C}^{-1}$ , desprezando-se o custo da energia gasta no aquecimento do combustível, o ganho financeiro que o dono do posto teria obtido devido ao aquecimento do álcool após uma semana de vendas estaria entre:

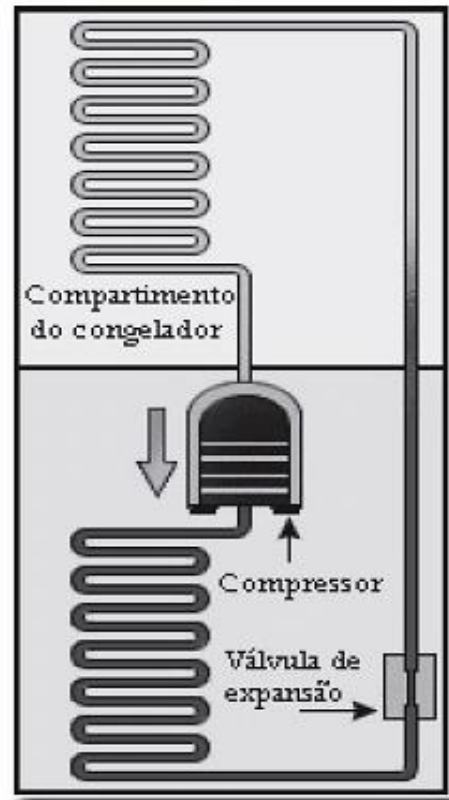
- A) R\$ 500,00 e R\$ 1.000,00.
- B) R\$ 1.050,00 e R\$ 1.250,00.
- C) R\$ 4.000,00 e R\$ 5.000,00.
- D) R\$ 6.000,00 e R\$ 6.900,00.
- E) R\$ 7.000,00 e R\$ 7.950,00.

#### Questão 30 (2009.2)

A invenção da geladeira proporcionou uma revolução no aproveitamento dos alimentos, ao permitir que fossem armazenados e transportados por longos períodos. A figura apresentada ilustra o processo cíclico de funcionamento de uma geladeira, em que um gás no interior de

uma tubulação é forçado a circular entre o congelador e a parte externa da geladeira. É por meio dos processos de compressão, que ocorre na parte externa, e de expansão, que ocorre na parte interna, que o gás proporciona a troca de calor entre o interior e o exterior da geladeira.

(Disponível em: <http://home.howstuffworks.com>. Acesso em: 19 out. 2008 - adaptado)



Nos processos de transformação de energia envolvidos no funcionamento da geladeira,

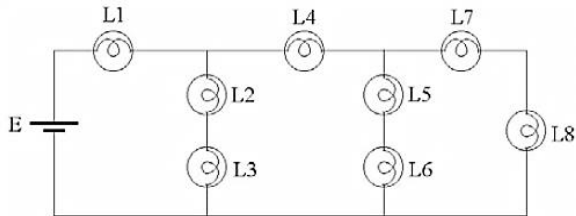
- A) a expansão do gás é um processo que cede a energia necessária ao resfriamento da parte interna da geladeira.
- B) o calor flui de forma não-espontânea da parte mais fria, no interior, para a mais quente, no exterior da geladeira.
- C) a quantidade de calor cedida ao meio externo é igual ao calor retirado da geladeira.
- D) a eficiência é tanto maior quanto menos isolado termicamente do ambiente externo for o seu compartimento interno.
- E) a energia retirada do interior pode ser devolvida à geladeira abrindo-se a sua porta, o que reduz seu consumo de energia.

#### Questão 31 (2009.2)

Considere a seguinte situação hipotética: ao preparar o palco para a apresentação de uma peça de teatro, o iluminador deveria colocar três atores sob luzes que tinham igual brilho e os



demais, sob luzes de menor brilho. O iluminador determinou, então, aos técnicos, que instalassem no palco oito lâmpadas incandescentes com a mesma especificação (L1 a L8), interligadas em um circuito com uma bateria, conforme mostra a figura.



Nessa situação, quais são as três lâmpadas que acendem com o mesmo brilho por apresentarem igual valor de corrente fluindo nelas, sob as quais devem se posicionar os três atores?

- A) L1, L2 e L3.
- B) L2, L3 e L4.
- C) L2, L5 e L7.
- D) L4, L5 e L6.
- E) L4, L7 e L8.

**Questão 32 (2009.3)**

Considere a forma de funcionamento de um equipamento que utiliza um ciclo de transferência de calor de um ambiente interno para um ambiente externo. Um fluido, normalmente um gás, circula por um sistema fechado dentro do ambiente interno, retirando o calor desse ambiente devido a um processo de evaporação. O calor absorvido pelo fluido é levado para o condensador, que dissipa o calor conduzido pelo fluido para o ambiente externo. Esse fluido é, então, forçado por um compressor a circular novamente pelo sistema fechado, dando continuidade ao processo de esfriamento do ambiente interno.

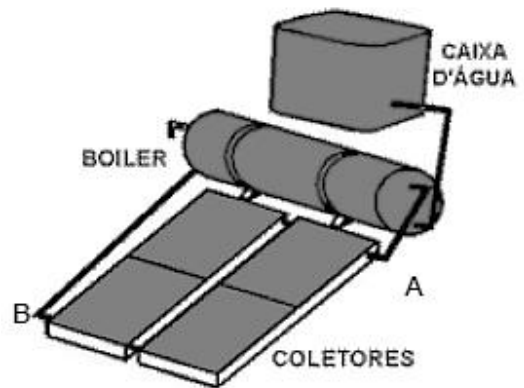
No texto acima, descreve-se o funcionamento básico de um:

- A) isqueiro.
- B) refrigerador.
- C) nebulizador.
- D) liquidificador.
- E) forno de micro-ondas.

**Questão 33 (2009.3)**

A luz solar que atinge a parte superior da atmosfera terrestre chega a uma taxa constante de  $135,2 \text{ mW/cm}^2$ . Dessa radiação, apenas 50% conseguem chegar à superfície, pois parte dela é refletida pelas nuvens e absorvida pela atmosfera. A radiação solar pode ser aproveitada para aquecer água de reservatórios, entre outras

aplicações. Um sistema básico para transformar energia solar em térmica é ilustrado na figura ao lado acima. Esse sistema é constituído de coletores solares e de um reservatório térmico, chamado *boiler*. Os coletores solares, geralmente, são feitos de materiais que absorvem bem a radiação solar, e o calor gerado nos coletores é transferido para a água que circula no interior de suas tubulações de cobre. A água aquecida é armazenada no *boiler*. Dessa forma, a água é mantida quente para consumo posterior. A caixa de água fria alimenta o *boiler*, mantendo-o sempre cheio.



É correto afirmar que os coletores solares permitem boa economia de energia, pois:

- A) se aplicam à produção tanto de energia térmica quanto elétrica.
- B) constituem fonte energética alternativa aos combustíveis fósseis usados no transporte.
- C) convertem energia radiante em energia térmica, que é usada no processo de aquecimento da água.
- D) permitem economizar até  $135,2 \text{ mWh}$  de energia elétrica, que seriam gastos com aquecimento elétrico.
- E) a energia luminosa coletada por eles pode ser usada para reduzir o número de lâmpadas usadas no ambiente.

**Questão 34 (2009.3)**

Na era do telefone celular, ainda é possível se comunicar com um sistema bem mais arcaico e talvez mais divertido: o “telefone com copos de plástico e barbante”.







A onda sonora produzida pelo menino faz vibrar o fundo de um copo plástico, em um movimento de vai e vem imperceptível, mas que cria uma perturbação ao longo do barbante esticado. O barbante, por sua vez, conduz o “som” até o outro copo. Essa perturbação faz vibrar o fundo do segundo copo plástico e a energia veiculada pelo barbante pode, assim, ser restituída sob a forma de uma onda sonora perceptível. Assim, se a menina colocar o ouvido próximo ao outro copo, ela poderá escutar a voz do menino de forma nítida.

Com relação ao assunto tratado no texto e na figura, conclui-se que:

- A) a antena de um telefone celular exerce a mesma função do barbante que une os dois copos de plástico.
- B) o telefone celular utiliza o mesmo princípio do “telefone de copos plásticos e barbante” para transmitir o som.
- C) as ondas do telefone “com copos de plástico e barbante” são ondas eletromagnéticas, portanto, elas não precisam de um meio material para se propagar.
- D) o segredo para o telefone “com copos de plástico e barbante” funcionar está no barbante que une os dois fundos dos copos e conduz ondas mecânicas de um copo para o outro.
- E) a voz é um sinal complexo constituído de ondas sonoras de mesma frequência.

Por esse motivo, o receptor pode ouvir o emissor através da onda se propagando no fio do telefone “com copos de plástico e barbante”.

### Questão 35 (2009.3)

O Inmetro procedeu à análise de garrafas térmicas com ampolas de vidro, para manter o consumidor informado sobre a adequação dos produtos aos Regulamentos e Normas Técnicas. Uma das análises é a de eficiência térmica. Nesse ensaio, verifica-se a capacidade da garrafa térmica de conservar o líquido aquecido em seu interior por determinado tempo. A garrafa é completada com água a  $90\text{ }^{\circ}\text{C}$  até o volume total. Após 3 horas, a temperatura do líquido é medida e deve ser, no mínimo, de  $81\text{ }^{\circ}\text{C}$  para garrafas com capacidade de 1 litro, pois o calor específico da água é igual a  $1\text{ cal/g }^{\circ}\text{C}$ .

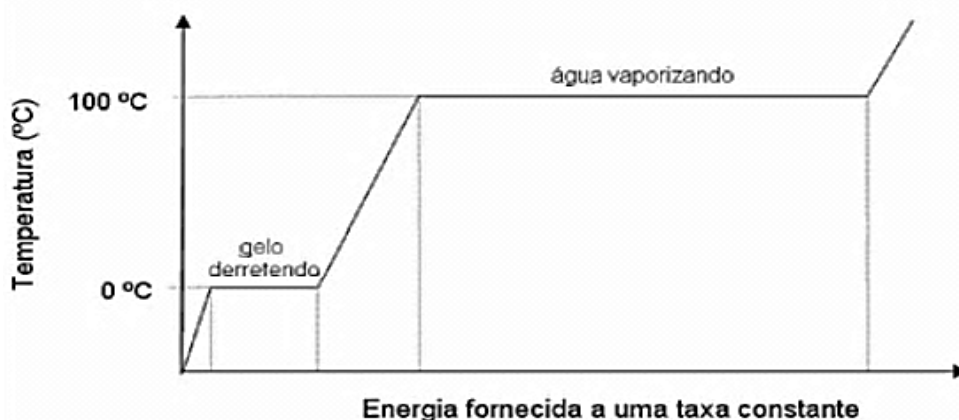
(Disponível em: <http://www.inmetro.gov.br>.  
Acesso em: 3 maio 2009 - adaptado)

Atingindo a água  $81\text{ }^{\circ}\text{C}$  nesse prazo, a energia interna do sistema e a quantidade de calor perdida para o meio são, respectivamente,

- A) menor e de 900 cal.
- B) maior e de 900 cal.
- C) menor e de 9.000 cal.
- D) maior e de 9.000 cal.
- E) constante e de 900 cal.

### Questão 36 (2009.3)

Na natureza, a água, por meio de processos físicos, passa pelas fases líquida, gasosa e sólida perfazendo o ciclo hidrológico. A distribuição da água na Terra é condicionada por esse ciclo, e as mudanças na temperatura do planeta poderão influenciar as proporções de água nas diferentes fases desse ciclo. O diagrama abaixo mostra as transformações de fase pelas quais a água passa, ao ser aquecida com o fornecimento de energia a uma taxa constante.



Considerando-se o diagrama de mudanças de fases da água e sabendo-se que os calores latentes de fusão e de vaporização da água valem, respectivamente,  $80\text{ cal/g}$  e  $540\text{ cal/g}$ , conclui-se que:

- A) a temperatura da água permanece constante durante os processos de mudança de fase.
- B) a energia necessária para fundir  $10\text{ g}$  de gelo é maior que a necessária para evaporar a mesma massa de água.



- C) a água, para mudar de fase, libera energia a uma taxa de 540 cal/g quando a temperatura aumenta de 0 °C até 100 °C.  
D) a temperatura da água varia proporcionalmente à energia que ela recebe, ou seja, 80 cal/g durante o processo de fusão.  
E) a temperatura da água varia durante o processo de vaporização porque ela está recebendo uma quantidade de energia constante.

**Questão 37 (2009.3)**

A evolução da luz: as lâmpadas LED já substituem com grandes vantagens a velha invenção de Thomas Edison.

A tecnologia do LED é bem diferente da das lâmpadas incandescentes e fluorescentes. A lâmpada LED é fabricada com material semicondutor que, semelhante ao usado nos chips de computador, quando percorrido por uma corrente elétrica, emite luz. O resultado é uma peça muito menor, que consome menos energia e tem uma durabilidade maior. Enquanto uma lâmpada comum tem vida útil de 1.000 horas e uma fluorescente, de 10.000 horas, a LED rende entre 20.000 e 100.000 horas de uso ininterrupto.

Há um problema, contudo: a lâmpada LED ainda custa mais caro, apesar de seu preço cair pela metade a cada dois anos. Essa tecnologia não está se tornando apenas mais barata. Está também mais eficiente, iluminando mais com a mesma quantidade de energia.

Uma lâmpada incandescente converte em luz apenas 5% da energia elétrica que consome. As lâmpadas LED convertem até 40%. Essa diminuição no desperdício de energia traz benefícios evidentes ao meio ambiente.

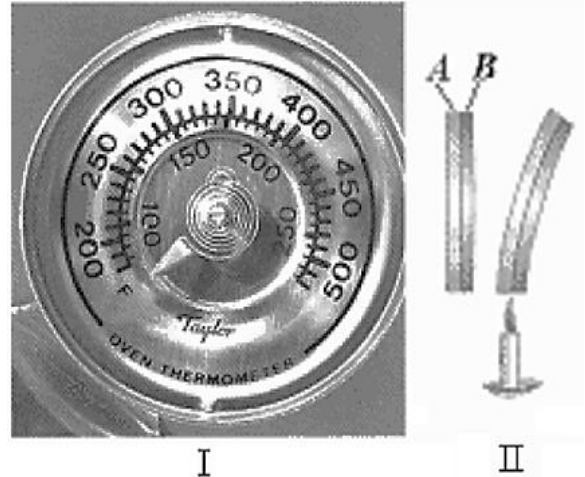
(A evolução da luz. Energia. In: Veja, 19 dez. 2007. Disponível em: <http://veja.abril.com.br/191207>)

Uma lâmpada LED que ofereça a mesma luminosidade que uma lâmpada incandescente de 100 W deverá ter uma potência mínima de:

- A) 12,5 W.  
B) 25 W.  
C) 40 W.  
D) 60 W.  
E) 80 W.

**Questão 38 (2009.3)**

A dilatação dos materiais em função da variação da temperatura é uma propriedade física bastante utilizada na construção de termômetros (como o ilustrado na figura I) construídos a partir de lâminas bimetálicas, como as ilustradas na figura II, na qual são indicados os materiais A e B — antes e após o seu aquecimento.



Com base nas leis da termodinâmica e na dilatação de sólidos sob a influência de temperatura variável, conclui-se que:

- A) a lâmina bimetálica se curvará para a direita, caso o coeficiente de dilatação linear do material B seja maior que o coeficiente de dilatação linear do material A.  
B) a substância utilizada na confecção do material A é a mesma usada na confecção do material B.  
C) a lâmina se curvará para a direita, independentemente do tipo de material usado em A e B.  
D) o coeficiente de dilatação dos materiais é uma função linear da variação da temperatura.  
E) o coeficiente de dilatação linear é uma grandeza negativa.

**Questão 39 (2009.3)**

Um chacareiro deseja instalar, em sua propriedade, uma turbina com um gerador de eletricidade de 2 HP em queda de água, de 20 metros de altura.

Sabendo que: 1HP =  $\frac{3}{4}$  kW;  $g=10\text{m/s}^2$ , e considerando que toda a energia potencial da queda é transformada em energia elétrica, é correto afirmar que a vazão de massa de água necessária para acionar o gerador é igual a:

- A) 0,01 kg/s.  
B) 20 kg/s.  
C) 7,5 kg/s.  
D) 10 kg/s.  
E) 75 kg/s.



**Questão 40 (2009.3)**

A eficiência de um coletor solar depende de uma série de variáveis. Na tabela abaixo, são mostradas diferenças na radiação solar incidente em diferentes capitais brasileiras localizadas em ordem crescente da latitude.

*Energia útil avaliada como média anual para um sistema de aquecimento de água via energia solar. (Coletores solares inclinados de um ângulo igual à latitude, acrescentados mais 10°)*

capital	temperatura média anual °C	radiação solar incidente média kWh/m <sup>2</sup> por dia	energia útil média* kWh/m <sup>2</sup> por dia
Natal	25,9	5,40	1,67
Salvador	25,1	4,95	1,52
Cuiabá	26,8	4,96	1,48
Curitiba	17,6	4,73	1,60
Florianópolis	20,8	4,24	1,32

\*Energia útil média: índice de aproveitamento da energia solar incidente.

Observação: o sistema de aquecimento conta com uma área de 4 m<sup>2</sup> de coletores solares.

Considerando os dados mostrados na tabela, na transformação da energia luminosa, observa-se que:

- A) a radiação solar média coletada independe do tamanho da superfície de captação do coletor solar.
- B) a energia útil média, um índice a ser considerado na comparação com outras opções energéticas, decresce com o aumento da latitude.
- C) a diferença de radiação solar incidente nas capitais listadas, apesar de ser maior que 20%, deixa de ser determinante em algumas situações.
- D) as temperaturas alcançadas independem da temperatura inicial da água no processo de aquecimento da água por meio de coletores solares.
- E) Curitiba, entre as capitais citadas, é inadequada para a utilização de energia solar porque é a capital onde ocorrem as maiores perdas de energia térmica para o ambiente.

**Questão 41 (2009.3)**

**Carros passarão a utilizar sistema elétrico de 42 volts**

*A maioria das pessoas já teve problemas com a bateria do carro. Ela tem uma vida útil e, de tempos em tempos, precisa ser substituída. O*

*que alguns não sabem é que essa bateria fornece energia a uma tensão de 12 volts. A indústria automobilística americana acaba de formalizar um grupo de estudos para padronizar a adoção de um sistema elétrico de 42 volts. As preocupações alegadas são de compatibilizar os sistemas e garantir a segurança dos usuários.*

*O sistema atualmente utilizado é, tecnicamente, o sistema de 14 volts. Essa é a tensão que o alternador deve suprir para manter carregada uma bateria de 12 volts. O novo sistema suprirá uma tensão de 42 volts, suficiente para manter carregada uma bateria de 36 volts.*

Um motorista, conduzindo à noite, percebe que o pneu do carro furou e, para iluminar o local, dispõe de uma lâmpada de 30 W e fiação para ligá-la à bateria do carro. A diferença, em módulo, da corrente elétrica que passa pela lâmpada, com o motor desligado, entre o sistema atualmente utilizado e o sistema novo, em ampère, é de:

- A) 0,80.
- B) 0,93.
- C) 1,43.
- D) 1,67.
- E) 3,50.

**Questão 42 (2009.3)**

A medida da velocidade de um veículo, utilizando radar, baseia-se no fato de que as ondas emitidas pelo radar e detectadas após serem refletidas pelo veículo em movimento têm frequências diferentes. Esse fenômeno é denominado Efeito Doppler.

A onda refletida pelo veículo citada no texto é uma:

- A) onda mecânica e se propaga com a velocidade do som.
- B) onda eletromagnética e se propaga com a velocidade da luz.
- C) onda mecânica e tem o mesmo comprimento de onda da onda incidente.
- D) onda eletromagnética que tem o mesmo comprimento de onda da onda incidente.
- E) onda eletromagnética que, devido à sua alta frequência, se propaga com velocidade maior que a velocidade da luz.

**Questão 43 (2010.1)**

As ondas eletromagnéticas, como a luz visível e as ondas de rádio, viajam em linha reta em um meio homogêneo. Então, as ondas de rádio emitidas na região litorânea do Brasil não alcançariam a região amazônica do Brasil por causa



da curvatura da Terra. Entretanto sabemos que é possível transmitir ondas de rádio entre essas localidades devido à ionosfera.

Com a ajuda da ionosfera, a transmissão de ondas planas entre o litoral do Brasil e a região amazônica é possível por meio da:

- A) reflexão.
- B) refração.
- C) difração.
- D) polarização.
- E) interferência.

**Questão 44 (2010.1)**

Todo carro possui uma caixa de fusíveis, que são utilizados para a proteção dos circuitos elétricos. Os fusíveis são constituídos de um material de baixo ponto de fusão, como o estanho, por exemplo, e se fundem quando percorridos por uma corrente elétrica igual ou maior do que aquela que são capazes de suportar. O quadro a seguir mostra uma série de fusíveis e os valores de corrente por eles suportados.

Fusível	Corrente Elétrica (A)
Azul	1,5
Amarelo	2,5
Laranja	5,0
Preto	7,5
Vermelho	10,0

Um farol usa uma lâmpada de gás halogênio de 55 W de potência que opera com 36 V. Os dois faróis são ligados separadamente, com um fusível para cada um, mas, após um mau funcionamento, o motorista passou a conectá-los em paralelo, usando apenas um fusível.

Dessa forma, admitindo-se que a fiação suporte a carga dos dois faróis, o menor valor de fusível adequado para a proteção desse novo circuito é o:

- A) azul.
- B) preto.
- C) laranja.
- D) amarelo.
- E) vermelho.

**Questão 45 (2010.1)**

Em nosso cotidiano, utilizamos as palavras "calor" e "temperatura" de forma diferente de como elas são usadas no meio científico. Na linguagem corrente, calor é identificado como "algo quente" e temperatura mede a "quantidade de calor de um corpo". Esses significados, no entanto, não conseguem explicar diversas situações que podem ser verificadas na prática.

Do ponto de vista científico, que situação prática mostra a limitação dos conceitos corriqueiros de calor e temperatura?

- A) A temperatura da água pode ficar constante durante o tempo em que estiver fervendo.
- B) Uma mãe coloca a mão na água da banheira do bebê para verificar a temperatura da água.
- C) A chama de um fogão pode ser usada para aumentar a temperatura da água em uma panela.
- D) A água quente que está em uma caneca é passada para outra caneca a fim de diminuir sua temperatura.
- E) Um forno pode fornecer calor para uma vasilha de água que está em seu interior com menor temperatura do que a dele.

**Questão 46 (2010.1)**


Com o objetivo de se testar a eficiência de fornos de micro-ondas, planejou-se o aquecimento em 10 °C de amostras de diferentes substâncias, cada uma com determinada massa, em cinco fornos de marcas distintas. Neste teste, cada forno operou à potência máxima.

O forno mais eficiente foi aquele que:

- A) forneceu a maior quantidade de energia às amostras.
- B) cedeu energia à amostra de maior massa em mais tempo.
- C) forneceu a maior quantidade de energia em menos tempo.
- D) cedeu energia à amostra de menor calor específico mais lentamente.
- E) forneceu a menor quantidade de energia às amostra em menos tempo.

Júpiter, conhecido como gigante gasoso, perdeu uma das suas listras mais proeminentes, deixando o seu hemisfério sul estranhamente vazio. Observe a região em que a faixa sumiu, destacada pela seta.

**Questão 47 (2010.1)**



A aparência de Júpiter é tipicamente marcada por duas faixas escuras em sua atmosfera - uma no hemisfério norte e outra no hemisfério



sul. Como o gás está constantemente em movimento, o desaparecimento da faixa no planeta relaciona-se ao movimento das diversas camadas de nuvens em sua atmosfera.

A luz do Sol, refletida nessas nuvens, gera a imagem que é captada pelos telescópios, no espaço ou na Terra.

O desaparecimento da faixa sul pode ter sido determinado por uma alteração:

- A) na temperatura da superfície do planeta.
- B) no formato da camada gasosa do planeta.
- C) no campo gravitacional gerado pelo planeta.
- D) na composição química das nuvens do planeta.
- E) na densidade das nuvens que compõem o planeta.

#### Questão 48 (2010.1)

Em visita a uma usina sucroalcooleira, um grupo de alunos pôde observar a série de processos de beneficiamento da cana-de-açúcar, entre os quais se destacam:

1. A cana chega cortada da lavoura por meio de caminhões e é despejada em mesas alimentadoras que a conduzem para as moendas. Antes de ser esmagada para a retirada do caldo açucarado, toda a cana é transportada por esteiras e passada por um eletroímã para a retirada de materiais metálicos.
2. Após se esmagar a cana, o bagaço segue para as caldeiras, que geram vapor e energia para toda a usina.
3. O caldo primário, resultante do esmagamento, é passado por filtros e sofre tratamento para transformar-se em açúcar refinado e etanol.

Com base nos destaques da observação dos alunos, quais operações físicas de separação de materiais foram realizadas nas etapas de beneficiamento da cana-de-açúcar?

- A) Separação mecânica, extração, decantação.
- B) Separação magnética, combustão, filtração.
- C) Separação magnética, extração, filtração.
- D) Imantação, combustão, peneiração.
- E) Imantação, destilação, filtração.

#### Questão 49 (2010.1)



A fonte de energia representada na figura, considerada uma das mais limpas e sustentáveis do mundo, é extraída do calor gerado:

- A) pela circulação do magma no subsolo.
- B) pelas erupções constantes dos vulcões.
- C) pelo sol que aquece as águas com radiação ultravioleta.
- D) pela queima do carvão e combustível fósseis.
- E) pelos detritos e cinzas vulcânicas.



**Questão 50 (2010.1)**

Sob pressão normal (ao nível do mar), a água entra em ebulição à temperatura de 100 °C. Tendo por base essa afirmação, um garoto residente em uma cidade litorânea fez a seguinte experiência:

- Colocou uma caneca metálica contendo água no fogareiro do fogão de sua casa.
- Quando a água começou a ferver, encostou, cuidadosamente, a extremidade mais estreita de uma seringa de injeção, desprovida de agulha, na superfície do líquido e, erguendo o êmbolo da seringa, aspirou certa quantidade de água para seu interior, tampando-a em seguida.
- Verificando após alguns instantes que a água da seringa havia parado de ferver, ele ergueu o êmbolo da seringa, constatando, intrigado, que a água voltou a ferver após um pequeno deslocamento do êmbolo.

Considerando o procedimento anterior, a água volta a ferver porque esse deslocamento:

- A) permite a entrada de calor do ambiente externo para o interior da seringa.
- B) provoca, por atrito, um aquecimento da água contida na seringa.
- C) produz um aumento de volume que aumenta o ponto de ebulição da água.
- D) proporciona uma queda de pressão no interior da seringa que diminui o ponto de ebulição da água.
- E) possibilita uma diminuição da densidade da água que facilita sua ebulição.

**Questão 51 (2010.1)**

As cidades industrializadas produzem grandes proporções de gases como o CO<sub>2</sub>, o principal gás causador de efeito estufa. Isso ocorre por causa da quantidade de combustíveis fósseis queimados, principalmente no transporte, mas também em caldeiras industriais. Além disso, nessas cidades concentram-se as maiores áreas com solos asfaltados e concretados, o que aumenta a retenção de calor, formando o que se conhece por "ilhas de calor". Tal fenômeno ocorre porque esses materiais absorvem o calor e o devolvem para o ar sob a forma de radiação térmica.

Em áreas urbanas, devido à atuação conjunta do efeito estufa e das "ilhas de calor", espera-se que o consumo de energia elétrica:

- A) diminua devido a utilização de caldeiras por indústrias metalúrgicas.

- B) aumente devido ao bloqueio da luz do sol pelos gases do efeito estufa.
- C) diminua devido à não necessidade de aquecer a água utilizada em indústrias.
- D) aumente devido à necessidade de maior refrigeração de indústrias e residências.
- E) diminua devido à grande quantidade de radiação térmica reutilizada.

**Questão 52 (2010.1)**

Para explicar a absorção de nutrientes, bem como a função das microvilosidades das membranas das células que revestem as paredes internas do intestino delgado, um estudante realizou o seguinte experimento:

Colocou 200 ml de água em dois recipientes. No primeiro recipiente, mergulhou, por 5 segundos, um pedaço de papel liso, como na FIGURA 1; no segundo recipiente, fez o mesmo com um pedaço de papel com dobras simulando as microvilosidades, conforme FIGURA 2. Os dados obtidos foram: a quantidade de água absorvida pelo papel liso foi de 8 ml, enquanto pelo papel dobrado foi de 12 ml.




FIGURA 1




FIGURA 2

Com base nos dados obtidos, infere-se que a função das microvilosidades intestinais com relação à absorção de nutrientes pelas células das paredes internas do intestino é a de:

- A) manter o volume de absorção.
- B) aumentar a superfície de absorção.
- C) diminuir a velocidade de absorção.
- D) aumentar o tempo da absorção.
- E) manter a seletividade na absorção.

**Questão 53 (2010.1)**

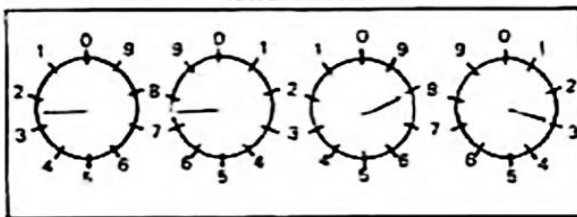
A energia elétrica consumida nas residências é medida, em quilowatt/hora, por meio de um relógio medidor de consumo. Nesse relógio, da direita para a esquerda, tem-se o ponteiro da unidade, da dezena, da centena e do milhar. Se



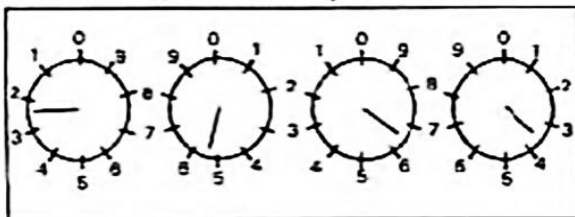
um ponteiro estiver entre dois números, considera-se o último número ultrapassado pelo ponteiro. Suponha que as medidas indicadas nos esquemas seguintes tenham sido feitas em uma cidade em que o preço do quilowatt/hora fosse de R\$ 0,20.



leitura atual



leitura do mês passado



O valor a ser pago pelo consumo de energia elétrica registrado seria de:

- A) R\$ 41,80.
- B) R\$ 42,00.
- C) R\$ 43,00.
- D) R\$ 43,80.
- E) R\$ 44,00.

**Questão 54 (2010.1)**

Duas irmãs que dividem o mesmo quarto de estudos combinaram de comprar duas caixas com tampas para guardarem seus pertences dentro de suas caixas, evitando, assim, a bagunça sobre a mesa de estudos.

Uma delas comprou uma metálica, e a outra, uma caixa de madeira de área e espessura lateral diferentes, para facilitar a identificação.

Um dia as meninas foram estudar para a prova de Física e, ao acomodarem na mesa de estudos, guardaram seus celulares ligados dentro de suas caixas.

Ao longo desse dia, uma delas recebeu ligações telefônicas, enquanto os amigos da outra tentavam ligar e recebiam a mensagem de que o celular estava fora da área de cobertura ou desligado.

Para explicar essa situação, um físico deveria afirmar que o material da caixa, cujo telefone celular não recebeu as ligações é de:

- A) madeira, e o telefone não funcionava porque a madeira não é um bom condutor de eletricidade.
- B) metal, e o telefone não funcionava devido à blindagem eletrostática que o metal proporcionava.
- C) metal, e o telefone não funcionava porque o metal refletia todo tipo de radiação que nele incidia.
- D) metal, e o telefone não funcionava porque a área lateral da caixa de metal era maior.
- E) madeira, e o telefone não funcionava porque a espessura desta caixa era maior que a espessura da caixa de metal.

**Questão 55 (2010.1)**

Observe a tabela seguinte. Ela traz especificações técnicas constantes no manual de instruções fornecido pelo fabricante de uma torneira elétrica.

**Especificações Técnicas**

Modelo	Torneira			
	127		220	
Tensão Nominal (Volts~)				
(Frio)	Desligado			
Potência Nominal (Watts) (Morno)	2 800	3 200	2 800	3 200
(Quente)	4 500	5 500	4 500	5 500
Corrente Nominal (Ampères)	35,4	43,3	20,4	25,0
Fiação Mínima (Até 30 m)	6 mm <sup>2</sup>	10 mm <sup>2</sup>	4 mm <sup>2</sup>	4 mm <sup>2</sup>
Fiação Mínima (Acima 30 m)	10 mm <sup>2</sup>	16 mm <sup>2</sup>	6 mm <sup>2</sup>	6 mm <sup>2</sup>
Disjuntor (Ampères)	40	50	25	30



Considerando que o modelo de maior potência da versão 220 V da torneira suprema foi inadvertidamente conectada a uma rede com tensão nominal de 127 V, e que o aparelho está configurado para trabalhar em sua máxima potência. Qual o valor aproximado da potência ao ligar a torneira?

- A) 1.830 W.
- B) 2.800 W.
- C) 3.200 W.
- D) 4.030 W.
- E) 5.500 W.

**Questão 56 (2010.1)**

Durante uma obra em um clube, um grupo de trabalhadores teve de remover uma escultura de ferro maciço colocada no fundo de uma piscina vazia. Cinco trabalhadores amarraram cordas à escultura e tentaram puxá-la para cima, sem sucesso.

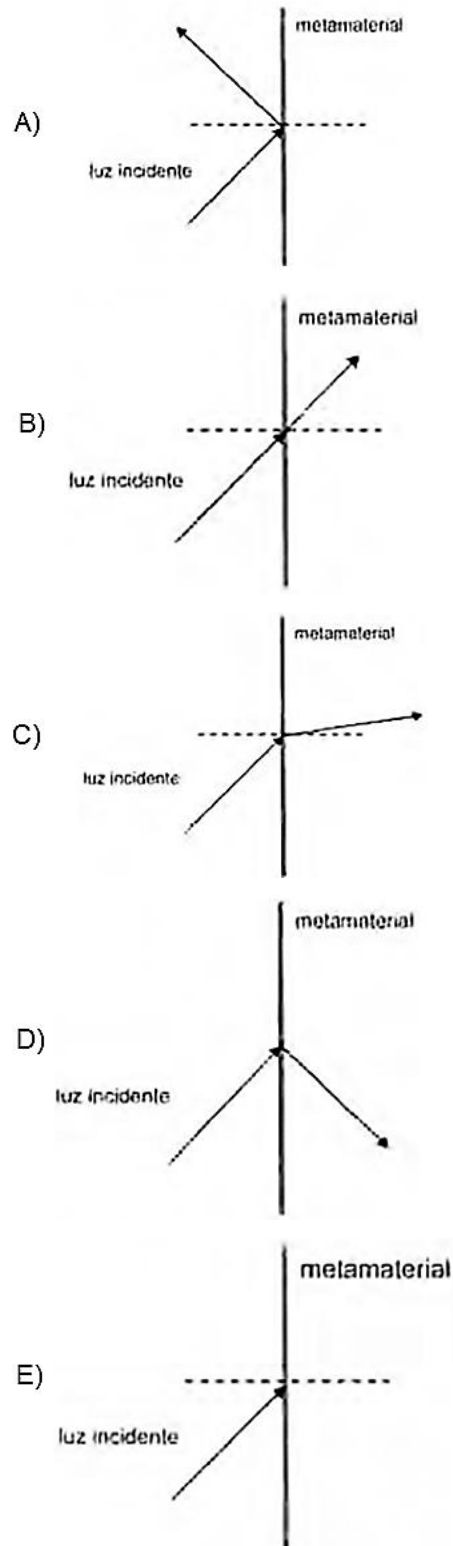
Se a piscina for preenchida com água, ficará mais fácil para os trabalhadores removerem a escultura, pois a:

- A) escultura flutuará, desta forma, os homens não precisarão fazer força para remover a escultura do fundo.
- B) escultura ficará como peso menor. Desta forma, a intensidade da força necessária para elevar a escultura será menor.
- C) água exercerá uma força na escultura proporcional a sua massa, e para cima. Esta força se somará à força que os trabalhadores fazem para anular a ação da força peso da escultura.
- D) água exercerá uma força na escultura para baixo, e esta passará a receber uma força ascendente do piso da piscina. Esta força ajudará a anular a ação da força peso na escultura.
- E) água exercerá uma força na escultura proporcional ao seu volume, e para cima. Esta força se somará à força que os trabalhadores fazem, podendo resultar em uma força ascendente maior que o peso da escultura.

**Questão 57 (2010.1)**

Um grupo de cientistas liderado por pesquisadores do instituto de Tecnologia da Califórnia (Caltech), nos Estados Unidos, construiu o primeiro metamaterial que apresenta valor negativo do índice de refração relativo para a luz visível. Denomina-se metamaterial um material óptico artificial, tridimensional, formado por pequenas estruturas menores do que o comprimento de onda da luz, o que lhe dá propriedades e comportamentos que não são encontrados em materiais naturais. Esse material tem sido chamado de "canhoto".

Considerando o comportamento atípico desse metamaterial, qual é a figura que representa a refração da luz ao passar do ar para esse meio?







**Questão 58 (2010.1)**

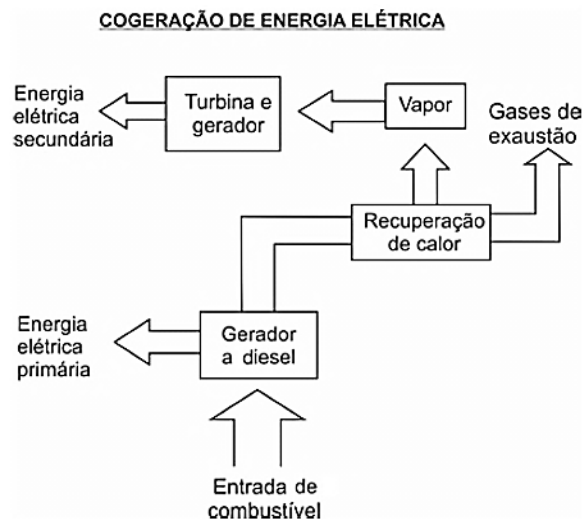
Deseja-se instalar uma estação de geração de energia elétrica em um município localizado no interior de um pequeno vale cercado de altas montanhas de difícil acesso. A cidade é cruzada por um rio, que é fonte de água para consumo, irrigação das lavouras de subsistência e pesca. Na região, que possui pequena extensão territorial, a incidência solar é alta o ano todo. A estação em questão irá abastecer apenas o município apresentado.

Qual forma de obtenção de energia, entre as apresentadas, é a mais indicada para ser implantada nesse município de modo a causar o menor impacto ambiental?

- A) Termoelétrica, pois é possível utilizar a água do rio no sistema de refrigeração.
- B) Eólica, pois a geografia do local é própria para a captação desse tipo de energia.
- C) Nuclear, pois o modo de resfriamento de seus sistemas não afetariam a população.
- D) Fotovoltaica, pois é possível aproveitar a energia solar que chega à superfície do local.
- E) Hidrelétrica, pois o rio que corta o município é suficiente para abastecer a usina construída.

**Questão 59 (2010.2)**


No nosso dia a dia deparamo-nos com muitas tarefas pequenas e problemas que demandam pouca energia para serem resolvidos e, por isso, não consideramos a eficiência energética de nossas ações. No global, isso significa desperdiçar muito calor que poderia ainda ser usado como fonte de energia para outros processos. Em ambientes industriais, esse reaproveitamento é feito por um processo chamado de cogeração. A figura a seguir ilustra um exemplo de cogeração na produção de energia elétrica.



Em relação ao processo secundário de aproveitamento de energia ilustrado na figura, a perda global de energia é reduzida por meio da transformação de energia:

- A) térmica em mecânica.
- B) mecânica em térmica.
- C) química em térmica.
- D) química em mecânica.
- E) elétrica em luminosa.

**Questão 60 (2010.2)**



Os quadrinhos mostram, por meio da projeção da sombra da árvore e do menino, a sequência de períodos do dia: matutino, meio-dia e vespertino, que é determinada:

- A) pela posição vertical da árvore e do menino.
- B) pela posição do menino em relação à árvore.
- C) pelo movimento aparente do Sol em torno da Terra.
- D) pelo fuso horário específico de cada ponto da superfície da Terra.
- E) pela estação do ano, sendo que no inverno os dias são mais curtos que no verão.

**Questão 61 (2010.2)**

Os espelhos retrovisores, que deveriam auxiliar os motoristas na hora de estacionar ou mudar de pista, muitas vezes causam problemas. É que o espelho retrovisor do lado direito, em alguns modelos, distorce a imagem, dando a impressão de que o veículo está a uma distância maior do que a real.

Este tipo de espelho, chamado convexo, é utilizado com o objetivo de ampliar o campo visual do motorista, já que no Brasil se adota a direção do lado esquerdo e, assim, o espelho da direita fica muito mais distante dos olhos do condutor.

(Disponível em: <http://noticias.vrum.com.br>. Acesso em: 3 nov. 2010 - adaptado)

Sabe-se que, em um espelho convexo, a imagem formada está mais próxima do espelho do que este está mais próxima do objeto, o que parece estar em conflito com a informação apresentada na reportagem. Essa aparente contradição é explicada pelo fato de:



- A) a imagem projetada na retina do motorista ser menor do que o objeto.
- B) a velocidade do automóvel afetar a percepção da distância.
- C) o cérebro humano interpretar como distante uma imagem pequena.
- D) o espelho convexo ser capaz de aumentar o campo visual do motorista.
- E) o motorista perceber a luz vinda do espelho com a parte lateral do olho.

**Questão 62 (2010.2)**

Atualmente, existem inúmeras opções de celulares com telas sensíveis ao toque (*touchscreen*). Para decidir qual escolher, é bom conhecer as diferenças entre os principais tipos de telas sensíveis ao toque existentes no mercado. Existem dois sistemas básicos usados para reconhecer o toque de uma pessoa:

- O primeiro sistema consiste de um painel de vidro normal, recoberto por duas camadas afastadas por espaçadores. Uma camada resistente a riscos é colocada por cima de todo o conjunto. Uma corrente elétrica passa através das duas camadas enquanto a tela está operacional. Quando um usuário toca a tela, as duas camadas fazem contato exatamente naquele ponto. A mudança no campo elétrico é percebida, e as coordenadas do ponto de contato são calculadas pelo computador.
- No segundo sistema, uma camada que armazena carga elétrica é colocada no painel de vidro do monitor. Quando um usuário toca o monitor com seu dedo, parte da carga elétrica é transferida para o usuário, de modo que a carga na camada que a armazena diminui. Esta redução é medida nos circuitos localizados em cada canto do monitor. Considerando as diferenças relativas de carga em cada canto, o computador calcula exatamente onde ocorreu o toque.

O elemento de armazenamento de carga análogo ao exposto no segundo sistema e a aplicação cotidiana correspondente são, respectivamente,

- A) receptores – televisor.
- B) resistores – chuveiro elétrico.
- C) geradores – telefone celular.
- D) fusíveis – caixa de força residencial.
- E) capacitores – *flash* de máquina fotográfica.

**Questão 63 (2010.2)**

Um garoto que passeia de carro com seu pai pela cidade, ao ouvir o rádio, percebe que a sua estação de rádio preferida, a 94,9 FM, que opera na banda de frequência de mega-hertz, tem

seu sinal de transmissão superposto pela transmissão de uma rádio pirata de mesma frequência que interfere no sinal da emissora do centro em algumas regiões da cidade.

Considerando a situação apresentada, a rádio pirata interfere no sinal da rádio do centro devido à:

- A) atenuação promovida pelo ar nas radiações emitidas.
- B) maior amplitude da radiação emitida pela estação do centro.
- C) diferença de intensidade entre as fontes emissoras de ondas.
- D) menor potência de transmissão das ondas da emissora pirata.
- E) semelhança dos comprimentos de onda das radiações emitidas.

**Questão 64 (2010.2)**

A resistência elétrica de um fio é determinada pelas suas dimensões e pelas propriedades estruturais do material. A condutividade ( $\sigma$ ) caracteriza a estrutura do material, de tal forma que a resistência de um fio pode ser determinada conhecendo-se  $L$ , o comprimento do fio e  $A$ , a área de seção reta. A tabela relaciona o material à sua respectiva resistividade em temperatura ambiente.

Tabela de condutividade

Material	Condutividade ( $S \cdot m/mm^2$ )
Alumínio	34,2
Cobre	61,7
Ferro	10,2
Prata	62,5
Tungstênio	18,8

Mantendo-se as mesmas dimensões geométricas, o fio que apresenta menor resistência elétrica é aquele feito de:

- A) tungstênio.
- B) alumínio.
- C) ferro.
- D) cobre.
- E) prata.

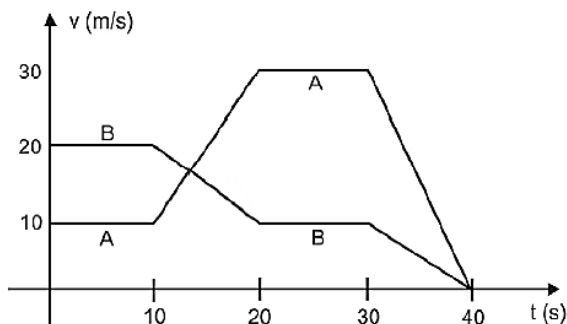
**Questão 65 (2010.2)**

**Rua da Passagem**

Os automóveis atrapalham o trânsito.  
Gentileza é fundamental.  
Não adianta esquentar a cabeça.  
Menos peso do pé no pedal.



O trecho da música, de Lenine e Arnaldo Antunes (1999), ilustra a preocupação com o trânsito nas cidades, motivo de uma campanha publicitária de uma seguradora brasileira. Considere dois automóveis, A e B, respectivamente conduzidos por um motorista imprudente e por um motorista consciente e adepto da campanha citada. Ambos se encontram lado a lado no instante  $t = 0s$ , quando avistam um semáforo amarelo (que indica atenção, parada obrigatória ao se tornar vermelho). O movimento de A e B pode ser analisado por meio do gráfico, que representa a velocidade de cada automóvel em função do tempo.



As velocidades dos veículos variam com o tempo em dois intervalos: (I) entre os instantes 10s e 20s; (II) entre os instantes 30s e 40s. De acordo com o gráfico, quais são os módulos das taxas de variação da velocidade do veículo conduzido pelo motorista imprudente, em  $m/s^2$ , nos intervalos (I) e (II), respectivamente?

- A) 1,0 e 3,0
- B) 2,0 e 1,0
- C) 2,0 e 1,5
- D) 2,0 e 3,0
- E) 10,0 e 30,0

#### Questão 66 (2010.2)

Um brinquedo chamado ludião consiste em um pequeno frasco de vidro, parcialmente preenchido com água, que é emborcado (virado com a boca para baixo) dentro de uma garrafa PET cheia de água e tampada.

Nessa situação, o frasco fica na parte superior da garrafa, conforme mostra a FIGURA 1. Quando a garrafa é pressionada, o frasco se desloca para baixo, como mostrado na FIGURA 2.



FIGURA 1



FIGURA 2

Ao apertar a garrafa, o movimento de descida do frasco ocorre porque:

- A) diminui a força para baixo que a água aplica no frasco.
- B) aumenta a pressão na parte pressionada da garrafa.
- C) aumenta a quantidade de água que fica dentro do frasco.
- D) diminui a força de resistência da água sobre o frasco.
- E) diminui a pressão que a água aplica na base do frasco.

#### Questão 67 (2010.2)

O efeito *Tyndall* é um efeito óptico de turbidez provocado pelas partículas de uma dispersão coloidal. Foi observado pela primeira vez por Michael Faraday em 1857 e, posteriormente, investigado pelo físico inglês John *Tyndall*. Este efeito é o que torna possível, por exemplo, observar as partículas de poeira suspensas no ar por meio de uma réstia de luz, observar gotículas de água que formam a neblina por meio do farol do carro ou, ainda, observar o feixe luminoso de uma lanterna por meio de um recipiente contendo gelatina.

(REIS, M. Completamente Química: Físico-Química. São Paulo: FTD, 2001- adaptado)

Ao passar por um meio contendo partículas dispersas, um feixe de luz sofre o efeito *Tyndall* devido:

- A) à absorção do feixe de luz por este meio.
- B) à interferência do feixe de luz neste meio.
- C) à transmissão do feixe de luz neste meio.
- D) à polarização do feixe de luz por este meio.
- E) ao espalhamento do feixe de luz neste meio.

#### Questão 68 (2010.2)

Há vários tipos de tratamentos de doenças cerebrais que requerem a estimulação de partes do cérebro por correntes elétricas. Os eletrodos são introduzidos no cérebro para gerar pequenas correntes em áreas específicas. Para se eliminar a necessidade de introduzir eletrodos no cérebro, uma alternativa é usar bobinas que, colocadas fora da cabeça, sejam capazes de induzir correntes elétricas no tecido cerebral.

Para que o tratamento de patologias cerebrais com bobinas seja realizado satisfatoriamente, é necessário que:

- A) haja um grande número de espiras nas bobinas, o que diminui a voltagem induzida.
- B) o campo magnético criado pelas bobinas seja constante, de forma a haver indução eletromagnética.




C) se observe que a intensidade das correntes induzidas depende da intensidade da corrente nas bobinas.

D) a corrente nas bobinas seja contínua, para que o campo magnético possa ser de grande intensidade.

E) o campo magnético dirija a corrente elétrica das bobinas para dentro do cérebro do paciente.

**Questão 69 (2010.2)**

Os dínamos são geradores de energia elétrica utilizados em bicicletas para acender uma pequena lâmpada. Para isso, é necessário que a parte móvel esteja em contato com o pneu da bicicleta e, quando ela entra em movimento, é gerada energia elétrica para acender a lâmpada. Dentro desse gerador, encontram-se um ímã e uma bobina.



O princípio de funcionamento desse equipamento é explicado pelo fato de que a:

- A) corrente elétrica no circuito fechado gera um campo magnético nessa região.
- B) bobina imersa no campo magnético em circuito fechado gera uma corrente elétrica.
- C) bobina em atrito com o campo magnético no circuito fechado gera uma corrente elétrica.
- D) corrente elétrica é gerada em circuito fechado por causa da presença do campo magnético.
- E) corrente elétrica é gerada em circuito fechado quando há variação do campo magnético.

**Questão 70 (2010.2)**

Quando ocorre um curto-circuito em uma instalação elétrica, como na figura, a resistência elétrica total do circuito diminui muito, estabelecendo-se nele uma corrente muito elevada.



O superaquecimento da fiação, devido a esse aumento da corrente elétrica, pode ocasionar incêndios, que seriam evitados instalando-se fusíveis e disjuntores que interrompem essa corrente, quando a mesma atinge um valor acima do especificado nesses dispositivos de proteção.

Suponha que um chuveiro instalado em uma rede elétrica de 110 V, em uma residência, possua três posições de regulação da temperatura da água. Na posição verão utiliza 2100 W, na posição primavera, 2400 W, e na posição inverno, 3200 W.

(GREF. Física 3: Eletromagnetismo. São Paulo: EDUSP, 1993 - adaptado)

Deseja-se que o chuveiro funcione em qualquer uma das três posições de regulação de temperatura, sem que haja riscos de incêndio. Qual deve ser o valor mínimo adequado do disjuntor a ser utilizado?

- A) 40 A
- B) 30 A
- C) 25 A
- D) 23 A
- E) 20 A

**Questão 71 (2010.2)**

Ao contrário dos rádios comuns (AM e FM), em que uma única antena transmissora é capaz de alcançar toda a cidade, os celulares necessitam de várias antenas para cobrir um vasto território. No caso dos rádios FM, a frequência de transmissão está na faixa dos MHz (ondas de rádio), enquanto, para os celulares, a frequência está na casa dos GHz (micro-ondas). Quando comparado aos rádios comuns, o alcance de um celular é muito menor.

Considerando-se as informações do texto, o fator que possibilita essa diferença entre propagação das ondas de rádio e as micro-ondas é que as ondas de rádio são:

- A) facilmente absorvidas na camada da atmosfera superior conhecida como ionosfera.
- B) capazes de contornar uma diversidade de obstáculos como árvores, edifícios e pequenas elevações.
- C) mais refratadas pela atmosfera terrestre, que apresenta maior índice de refração para as ondas de rádio.
- D) menos atenuadas por interferência, pois o número de aparelhos que utilizam ondas de rádio é menor.
- E) constituídas por pequenos comprimentos de onda que lhes conferem um alto poder de penetração em materiais de baixa densidade.



**Questão 72 (2010.2)**

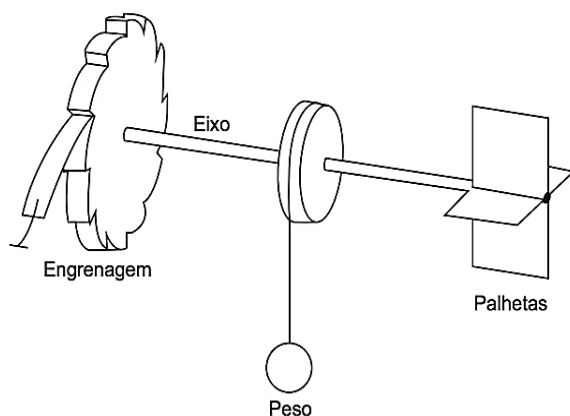
Usando pressões extremamente altas, equivalentes às encontradas nas profundezas da Terra ou em um planeta gigante, cientistas criaram um novo cristal capaz de armazenar quantidades enormes de energia. Utilizando-se um aparato chamado bigorna de diamante, um cristal de difluoreto de xenônio ( $\text{XeF}_2$ ) foi pressionado, gerando um novo cristal com estrutura supercompacta e enorme quantidade de energia acumulada.

Embora as condições citadas sejam diferentes do cotidiano, o processo de acumulação de energia descrito é análogo ao da energia:

- A) armazenada em um carrinho de montanha russa durante o trajeto.
- B) armazenada na água do reservatório de uma usina hidrelétrica.
- C) liberada na queima de um palito de fósforo.
- D) gerada nos reatores das usinas nucleares.
- E) acumulada em uma mola comprimida.

**Questão 73 (2011.1)**

Partículas suspensas em um fluido apresentam contínua movimentação aleatória, chamado movimento browniano, causado pelos choques das partículas que compõem o fluido. A ideia de um inventor era construir uma série de palhetas, montadas sobre um eixo, que seriam postas em movimento pela agitação das partículas ao seu redor. Como o movimento ocorreria igualmente em ambos os sentidos de rotação, o cientista concebeu um segundo elemento, um dente de engrenagem assimétrico. Assim, em escala muito pequena, este tipo de motor poderia executar trabalho, por exemplo, puxando um pequeno peso para cima. O esquema, que já foi testado, é mostrado a seguir.



A explicação para a necessidade do uso da engrenagem com trava é:

- A) O travamento do motor, para que ele não se solte aleatoriamente.

- B) A seleção da velocidade, controlada pela pressão nos dentes da engrenagem.
- C) O controle do sentido da velocidade tangencial, permitindo, inclusive, uma fácil leitura do seu valor.
- D) A determinação do movimento, devido ao caráter aleatório, cuja tendência é o equilíbrio.
- E) A escolha do ângulo a ser girado, sendo possível, inclusive, medi-lo pelo número de dentes da engrenagem.

**Questão 74 (2011.1)**

O manual de funcionamento de um captador de guitarra elétrica apresenta o seguinte texto:

Esse captador comum consiste de uma bobina, fios condutores enrolados em torno de um ímã permanente. O campo magnético do ímã induz o ordenamento dos pólos magnéticos na corda da guitarra, que está próxima a ele. Assim, quando a corda é tocada, as oscilações produzem variações, com o mesmo padrão, no fluxo magnético que atravessa a bobina. Isso induz uma corrente elétrica na bobina, que é transmitida até o amplificador, e daí, para o alto-falante.

Um guitarrista trocou as cordas originais de sua guitarra, que eram feitas de aço, por outras feitas de náilon. Com o uso dessas cordas, o amplificador ligado ao instrumento não emitia mais som, porque a corda de náilon:

- A) isola a passagem de corrente elétrica da bobina para o alto-falante
- B) varia seu comprimento mais intensamente do que ocorre com o aço.
- C) apresenta uma magnetização desprezível sob a ação do ímã permanente.
- D) induz correntes elétricas na bobina mais intensas que a capacidade do captador.
- E) oscila com uma frequência menor do que a que pode ser percebida pelo captador.

**Questão 75 (2011.1)**

CARACTERÍSTICAS TÉCNICAS				
Especificação				
Modelo		A	B	
Tensão (V ~)		127	220	
Potência (Watt)	Seletor de Temperatura Multitemperaturas	○	0	0
		●	2 440	2 540
		●●	4 400	4 400
		●●●	5 500	6 000
Disjuntor ou Fusível (Ampère)		50	30	
Seção dos condutores (mm <sup>2</sup> )		10	4	

Em um manual de um chuveiro elétrico são encontradas informações sobre algumas características técnicas, ilustradas no quadro, como a



tensão de alimentação, a potência dissipada, o dimensionamento do disjuntor ou fusível, e a área da seção transversal dos condutores utilizados.

Uma pessoa adquiriu um chuveiro do modelo A e, ao ler o manual I, verificou que precisava ligá-lo a um disjuntor de 50 amperes. No entanto, intrigou-se com o fato de que o disjuntor a ser utilizado para uma correta instalação de um chuveiro do modelo B devia possuir amperagem 40% menor.

Considerando-se os chuveiros de modelos A e B, funcionando à mesma potência de 4400 W, a razão entre as suas respectivas resistências elétricas,  $R_A$  e  $R_B$ , que justifica a diferença de dimensionamento dos disjuntores, é mais próxima de:

- A) 0,3.
- B) 0,6.
- C) 0,8.
- D) 1,7.
- E) 3,0.

### Questão 76 (2011.1)

Para que uma substância seja colorida ela deve absorver luz na região do visível. Quando uma amostra absorve luz visível, a cor que percebemos é a soma das cores restantes que são refletidas ou transmitidas pelo objeto. A Figura 1 mostra o espectro de absorção para uma substância e é possível observar que há um comprimento de onda em que a intensidade de absorção é máxima. Um observador pode prever a cor dessa substância pelo uso da roda de cores (Figura 2): o comprimento de onda correspondente à cor do objeto é encontrado no lado oposto ao comprimento de onda da absorção máxima.

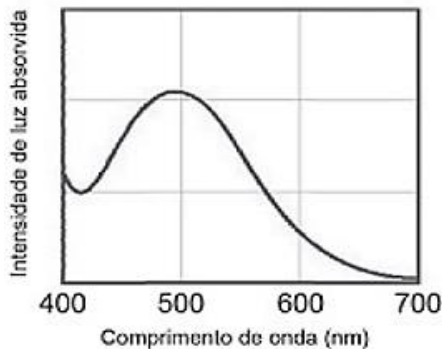


Figura 1

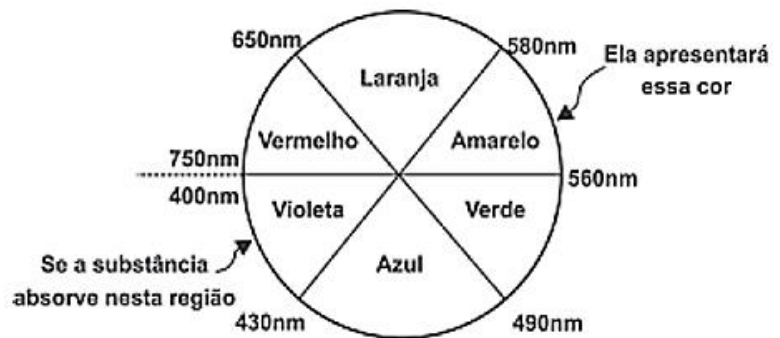


Figura 2

Qual a cor da substância que deu origem ao espectro da Figura 1?

- A) Azul.
- B) Verde.
- C) Violeta.
- D) Laranja.
- E) Vermelho.

### Questão 77 (2011.1)

Um motor só poderá realizar trabalho se receber uma quantidade de energia de outro sistema. No caso, a energia armazenada no combustível é, em parte, liberada durante a combustão para que o aparelho possa funcionar.

Quando o motor funciona, parte da energia convertida ou transformada na combustão não pode ser utilizada para a realização de trabalho. Isso significa dizer que há vazamento da energia em outra forma.

(CARVALHO, A. X. Z. Física Térmica. Belo Horizonte: Pax, 2009 - adaptado)

De acordo com o texto, as transformações de energia que ocorrem durante o funcionamento do motor são decorrentes de a:

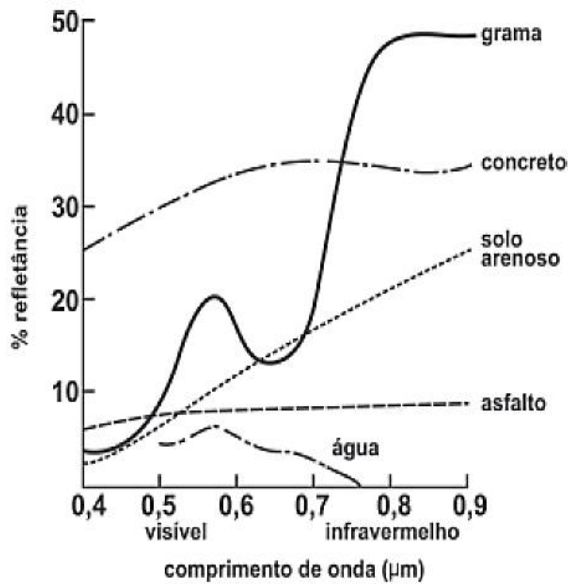
- A) liberação de calor dentro do motor ser impossível.
- B) realização de trabalho pelo motor ser incontrolável.
- C) conversão integral de calor em trabalho ser impossível.
- D) transformação de energia térmica em cinética ser impossível.
- E) utilização de energia potencial do combustível ser incontrolável.



**Questão 78 (2011.1)**

O processo de interpretação de imagens capturadas por sensores instalados a bordo de satélites que imageiam determinadas faixas ou bandas do espectro de radiação eletromagnética (REM) baseiam-se na interação dessa radiação com os objetos presentes sobre a superfície terrestre. Uma das formas de avaliar essa interação é por meio da quantidade de energia refletida pelos objetos.

A relação entre a refletância de um dado objeto e o comprimento de onda da REM é conhecida como curva de comportamento espectral ou assinatura espectral do objeto, como mostrado na figura, para objetos comuns na superfície terrestre.



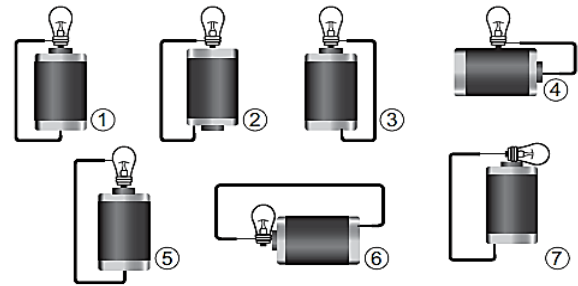
De acordo com as curvas de assinatura espectral apresentadas na figura, para que se obtenha a melhor discriminação dos alvos mostrados, convém selecionar a banda correspondente a que comprimento de onda em micrômetros ( $\mu\text{m}$ )?

- A) 0,4 a 0,5.
- B) 0,5 a 0,6.
- C) 0,6 a 0,7.
- D) 0,7 a 0,8.
- E) 0,8 a 0,9.

**Questão 79 (2011.1)**

Um curioso estudante, empolgado com a aula de circuito elétrico que assistiu na escola, resolve desmontar sua lanterna.

Utilizando-se da lâmpada e da pilha, retiradas do equipamento, e de um fio com as extremidades descascadas, faz as seguintes ligações com a intenção de acender a lâmpada:



Tendo por base os esquemas mostrados, em quais casos a lâmpada acendeu?

- A) (1), (3), (6)
- B) (3), (4), (5)
- C) (1), (3), (5)
- D) (1), (3), (7)
- E) (1), (2), (5)

**Questão 80 (2011.1)**

Em um experimento realizado para determinar a densidade da água de um lago, foram utilizados alguns materiais conforme ilustrado: um dinamômetro D com graduação de 0 N a 50 N e um cubo maciço e homogêneo de 10 cm de aresta e 3 kg de massa. Inicialmente, foi conferida a calibração do dinamômetro, constatando-se a leitura de 30 N quando o cubo era preso ao dinamômetro e suspenso no ar. Ao mergulhar o cubo na água do lago, até que metade do seu volume ficasse submersa, foi registrada a leitura de 24 N no dinamômetro.



Considerando que a aceleração da gravidade local é de  $10 \text{ m/s}^2$ , a densidade da água do lago, em  $\text{g/cm}^3$ , é:

- A) 0,6.
- B) 1,2.
- C) 1,5.
- D) 2,4.
- E) 4,8.

**Questão 81 (2011.1)**

Uma equipe de cientistas lançará uma expedição ao Titanic para criar um detalhado mapa 3D que “vai tirar, virtualmente, o Titanic do fundo do mar para o público”. A expedição ao local, a 4 quilômetros de profundidade no Oceano Atlântico



co, está sendo apresentada como a mais sofisticada expedição científica ao Titanic. Ela utilizará tecnologias de imagem e sonar que nunca tinham sido aplicadas ao navio, para obter o mais completo inventário de seu conteúdo. Esta complementação é necessária em razão das condições do navio, naufragado há um século.

(O Estado de São Paulo.  
Disponível em: <http://www.estadao.com.br>.  
Acesso em: 27 jul. 2010 - adaptado)

No problema apresentado para gerar imagens através de camadas de sedimentos depositados no navio, o sonar é mais adequado, pois a:

- A) propagação da luz na água ocorre a uma velocidade maior que a do som neste meio.
- B) absorção da luz ao longo de uma camada de água é facilitada enquanto a absorção do som não.
- C) refração da luz a uma grande profundidade acontece com uma intensidade menor que a do som.
- D) atenuação da luz nos materiais analisados é distinta da atenuação de som nestes mesmos materiais.
- E) reflexão da luz nas camadas de sedimentos é menos intensa do que a reflexão do som neste material.

### Questão 82 (2011.1)

Para medir o tempo de reação de uma pessoa, pode-se realizar a seguinte experiência:

- I. Mantenha uma régua (com cerca de 30 cm) suspensa verticalmente, segurando-a pela extremidade superior, de modo que o zero da régua esteja situado na extremidade inferior.
- II. A pessoa deve colocar os dedos de sua mão, em forma de pinça, próximos do zero da régua, sem tocá-la.
- III. Sem aviso prévio, a pessoa que estiver segurando a régua deve soltá-la. A outra pessoa deve procurar segurá-la o mais rapidamente possível e observar a posição onde conseguiu segurar a régua, isto é, a distância que ela percorre durante a queda.

O quadro seguinte mostra a posição em que três pessoas conseguiram segurar a régua e os respectivos tempos de reação.

Distância percorrida pela régua durante a queda (metro)	Tempo de reação (segundo)
0,30	0,24
0,15	0,17
0,10	0,14

A distância percorrida pela régua aumenta mais rapidamente que o tempo de reação porque a:

- A) energia mecânica da régua aumenta, o que a faz cair mais rápido.
- B) resistência do ar aumenta, o que faz a régua cair com menor velocidade.
- C) aceleração de queda da régua varia, o que provoca um movimento acelerado.
- D) força peso da régua tem valor constante, o que gera um movimento acelerado.
- E) velocidade da régua é constante, o que provoca uma passagem linear de tempo.

### Questão 83 (2011.1)

Um tipo de vaso sanitário que vem substituindo as válvulas de descarga está esquematizado na figura. Ao acionar a alavanca, toda a água do tanque é escoada e aumenta o nível no vaso, até cobrir o sifão. De acordo com o Teorema de Stevin, quanto maior a profundidade, maior a pressão. Assim, a água desce levando os rejeitos até o sistema de esgoto. A válvula da caixa de descarga se fecha e ocorre o seu enchimento. Em relação às válvulas de descarga, esse tipo de sistema proporciona maior economia de água.



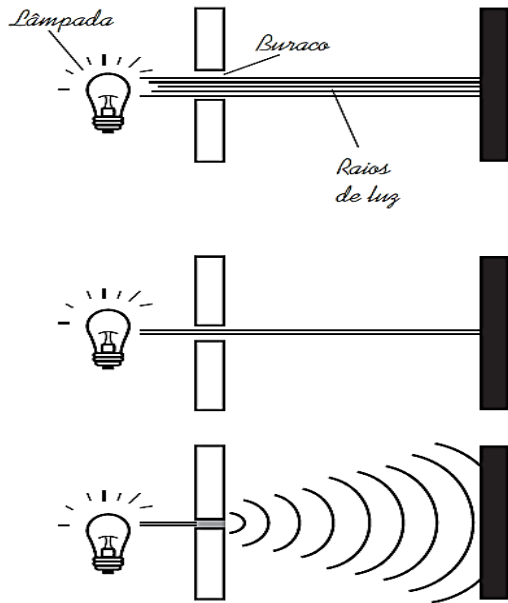
A característica de funcionamento que garante essa economia é:

- A) à altura do sifão de água.
- B) ao volume do tanque de água.
- C) à altura do nível de água no vaso.
- D) ao diâmetro do distribuidor de água.
- E) à eficiência da válvula de enchimento do tanque.

### Questão 84 (2011.1)

Ao diminuir o tamanho de um orifício atravessado por um feixe de luz, passa menos luz por intervalo de tempo, e próximo da situação de completo fechamento do orifício, verifica-se que a luz apresenta um comportamento como o ilustrado nas figuras. Sabe-se que o som, dentro de suas particularidades, também pode se comportar dessa forma.





Em qual das situações a seguir está representado o fenômeno descrito no texto?

- A) Ao se esconder atrás de um muro, um menino ouve a conversa de seus colegas.
- B) Ao gritar diante de um desfiladeiro, uma pessoa ouve a repetição do seu próprio grito.
- C) Ao encostar o ouvido no chão, um homem percebe o som de uma locomotiva antes de ouvi-lo pelo ar.
- D) Ao ouvir uma ambulância se aproximando, uma pessoa percebe o som mais agudo do que quando aquela se afasta.
- E) Ao emitir uma nota musical muito aguda, uma cantora de ópera faz com que uma taça de cristal se despedace.

**Questão 85 (2011.1)**

Uma das modalidades presentes nas olimpíadas é o salto com vara. As etapas de um dos saltos de um atleta estão representadas na figura:



Desprezando-se as forças dissipativas (resistência do ar e atrito), para que o salto atinja a maior altura possível, ou seja, o máximo de energia seja conservada, é necessário que:

- A) a energia cinética, representada na etapa I, seja totalmente convertida em energia potencial elástica representada na etapa IV.
- B) a energia cinética, representada na etapa II, seja totalmente convertida em energia potencial gravitacional, representada na etapa IV.
- C) a energia cinética, representada na etapa I, seja totalmente convertida em energia potencial gravitacional, representada na etapa III.
- D) a energia potencial gravitacional, representada na etapa II, seja totalmente convertida em energia potencial elástica, representada na etapa IV.
- E) a energia potencial gravitacional, representada na etapa I, seja totalmente convertida em energia potencial elástica, representada na etapa III.

**Questão 86 (2011.2)**





A tirinha faz referência a uma propriedade de uma grandeza Física, em que a função do jornal utilizado pelo homem é a de:

- A) restringir a perda de calor para o ambiente.
- B) absorver a umidade que dissipa calor.
- C) bloquear o vento que sopra trazendo frio.
- D) impedir que o frio do ambiente penetre.
- E) manter o calor do homem concentrado.

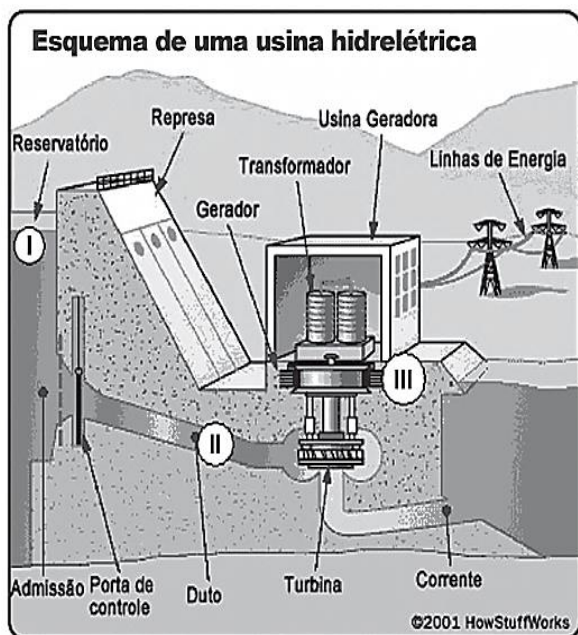
**Questão 87 (2011.2)**

Uma opção não usual, para o cozimento do feijão, é o uso de uma garrafa térmica. Em uma panela, coloca-se uma parte de feijão e três partes de água e deixa-se ferver o conjunto por cerca de 5 minutos, logo após transfere-se todo o material para uma garrafa térmica. Aproximadamente 8 horas depois, o feijão estará cozido.

O cozimento do feijão ocorre dentro da garrafa térmica, pois:

- A) a energia envolvida na reação aquece a água, que mantém constante a temperatura, por ser um processo exotérmico.
- B) o sistema considerado é praticamente isolado, não permitindo que o feijão ganhe ou perca energia.
- C) o feijão continua absorvendo calor da água que o envolve, por ser um processo endotérmico.
- D) a garrafa térmica fornece energia suficiente para o cozimento do feijão, uma vez iniciada a reação.
- E) a água reage com o feijão, e essa reação é exotérmica.

**Questão 88 (2011.2)**

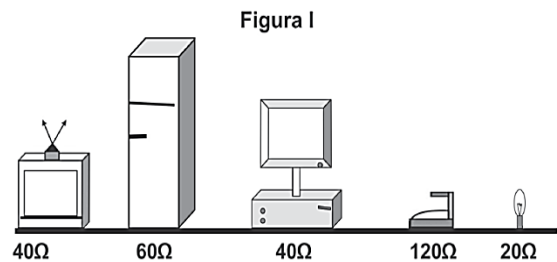


A figura representa o processo mais usado nas hidrelétricas para obtenção de energia elétrica no Brasil. As transformações de energia nas posições I→II e II→III da figura são, respectivamente,

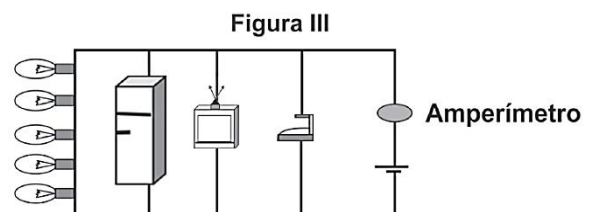
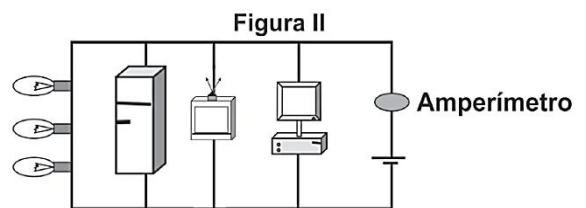
- A) energia cinética → energia potencial e energia cinética → energia elétrica.
- B) energia potencial → energia cinética e energia cinética → energia elétrica.
- C) energia potencial → energia elétrica e energia cinética → energia elétrica.
- D) energia potencial → energia elétrica e energia potencial → energia cinética.
- E) energia cinética → energia elétrica e energia potencial → energia cinética.

**Questão 89 (2011.2)**

Uma residência possui dois aparelhos de TV, duas geladeiras, um computador, um ferro elétrico e oito lâmpadas incandescentes. A resistência elétrica de cada equipamento está representada pela figura I. A tensão elétrica que alimenta a rede da residência é de 120 V.



Um eletricitista fez duas ligações, que se encontram representadas pelas figuras II e III.



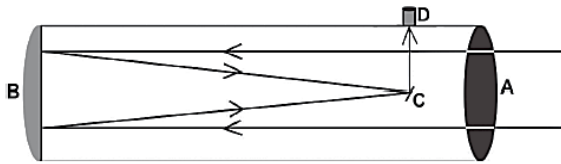
Com base nas informações, verifica-se que a corrente indicada pelo amperímetro da figura:

- A) II registrará uma corrente de 12 A.
- B) II registrará uma corrente de 10 A.
- C) III registrará uma corrente de 0,14 A.
- D) III registrará uma corrente de 16,6 A.
- E) II registrará uma corrente de 0,10 A.



**Questão 90 (2011.2)**

A figura seguinte representa, esquematicamente, um telescópio refletor:




A luz emitida por um astro penetra no telescópio pelo orifício na posição A, reflete no espelho parabólico localizado na posição B, é novamente refletida pelo espelho C em direção às lentes localizadas na ocular do telescópio (local onde o observador aproxima o olho) na posição D. Essa lente forma uma imagem real e maior do objeto observado, um pouco à frente de D. Por isso, o observador não deve encostar seus olhos na lente para enxergar essa imagem.

Considerando uma situação em que apenas uma lente é colocada na posição D, qual o tipo de espelho utilizado e qual o tipo de lente utilizada nas posições B e D respectivamente?

- A) Plano e convergente.
- B) Convexo e bifocal.
- C) Convexo e divergente.
- D) Côncavo e divergente.
- E) Côncavo e convergente.

**Questão 91 (2011.2)**

A figura mostra uma superfície refletora de formato parabólico, que tem sido utilizada como um fogão solar. Esse dispositivo é montado de tal forma que a superfície fique posicionada sempre voltada para o Sol. Neste, a panela deve ser colocada em um ponto determinado para maior eficiência do fogão.



Considerando que a panela esteja posicionada no ponto citado, a maior eficiência ocorre porque os raios solares:

- A) incidentes se concentram nesse ponto, definido como ponto de incidência.

- B) incidentes passam por esse ponto, definido como vértice da parábola.
- C) refletidos se concentram nesse ponto, definido como foco da parábola.
- D) incidentes e refletidos se interceptam nesse ponto, definido como centro de curvatura.
- E) refletidos passam por esse ponto, definido como ponto de reflexão.

**Questão 92 (2011.2)**

O manual de instruções de um computador apresenta as seguintes recomendações para evitar que o cabo de alimentação de energia elétrica se rompa:

- Ao utilizar a fonte de alimentação, acomode adequadamente o cabo que vai conectado à tomada, evitando dobrá-lo.
- Ao conectar ou desconectar o computador da tomada elétrica, segure o cabo de alimentação pelo plugue e não pelo fio.

Caso o usuário não siga essas recomendações e ocorra o dano previsto, a consequência para o funcionamento do computador será a de que:

- A) os seus componentes serão danificados por uma descarga elétrica.
- B) a velocidade de processamento de dados diminuirá sensivelmente.
- C) a sua fiação interna passará a sofrer um aquecimento excessivo.
- D) os seus circuitos elétricos ficarão sem circulação de corrente.
- E) o monitor utilizado passará a apresentar um brilho muito fraco.

**Questão 93 (2011.2)**

Indivíduos míopes têm dificuldade de enxergar objetos distantes. Para correção desse problema com lentes, o oftalmologista deve medir a distância máxima que o indivíduo pode enxergar nitidamente, que corresponde à distância focal da lente. A vergência ( $V$ ) de uma lente é numericamente igual ao inverso da distância focal ( $f$ ), dada em metros ( $V = 1/f$ ). A vergência é medida em dioptria (di), comumente denominada de grau de uma lente.

Se a distância máxima a que o indivíduo míope enxerga nitidamente for 50 cm, para corrigir o problema, o oftalmologista receitará lentes de vergência:

- A) -2,00 di.
- B) 2,00 di.
- C) -0,02 di.
- D) 0,02 di.
- E) 0,20 di.



**Questão 94 (2011.2)**

O quadro seguinte foi extraído da seção de solução de problemas de um manual de fogão a gás.

Problemas	Causas	Correções
O forno não funciona (não liga)	Botões de comando não foram selecionados corretamente para o cozimento. Na instalação elétrica da residência o disjuntor está desligado ou falta energia elétrica. O registro do gás está fechado. Chama amarela/vermelha.	Verifique os botões e repita as operações indicadas no item "Como Usar". Ligue o disjuntor ou chame um electricista de sua confiança. Abra o registro. Verifique se o gás não está no fim.
O forno solta fumaça	Forno sujo de gordura ou molho.	Limpe o forno após cada utilização conforme item "Limpeza e Manutenção".
Há formação de umidade nos alimentos no interior do forno	Os alimentos são deixados muito tempo no interior do forno após o término do cozimento.	Não deixe os alimentos no forno por mais de 15 minutos após a finalização do cozimento.
Assa muito lento / assa muito rápido	Os tempos de cozimento e a temperatura selecionada não estão corretos.	Consulte o item tempo na Tabela de Tempos e Temperaturas. Verifique se o gás não está no fim.
Queimador não permanece aceso	O sistema bloqueia gás não foi desativado corretamente.	Após acender o queimador, permaneça com o botão de controle pressionado por 10 segundos até desativar o sistema bloqueia gás.

Ao saborear um alimento preparado no fogão a gás, o consumidor observa que, embora devidamente assado, o alimento contém mais água que o esperado. Sabendo que a receita foi preparada de forma correta, então, de acordo com o fabricante do fogão, o problema é que o:

- A) forno estava sujo de gordura ou molho, necessitando de limpeza.
- B) gás estava no final, o que reduziu a temperatura da chama, deixando-a amarela.
- C) botão de comando não foi selecionado corretamente para o cozimento.
- D) cozinheiro demorou muito para retirar o alimento do forno após o cozimento.
- E) tempo de cozimento e a temperatura selecionada estavam incorretos.

**Questão 95 (2011.2)**

Na câmara de cozimento de um forno de micro-ondas, a flutuação do campo elétrico é adequada para o aquecimento da água. Esse tipo de forno utiliza micro-ondas com frequência de 2,45 GHz para alterar a orientação das moléculas de água bilhões de vezes a cada segundo. Essa foi a frequência escolhida, porque ela não é usada em comunicações e também porque dá às moléculas de água o tempo necessário para completar uma rotação. Dessa forma, um forno de micro-ondas funciona através do processo de ressonância, transferindo energia para os alimentos.

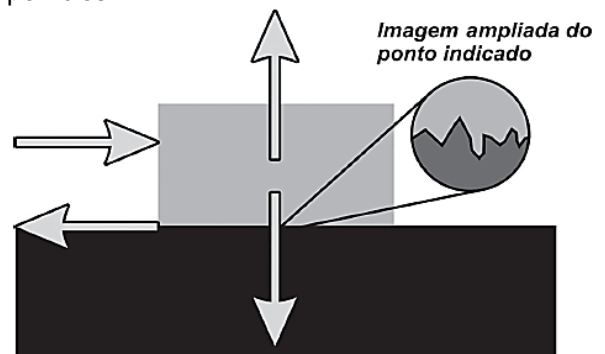
Sabendo que a velocidade de propagação das ondas eletromagnéticas no meio é de cerca de  $3 \times 10^8$  m/s, qual é, aproximadamente, o comprimento de onda da micro-onda presente no forno, em cm?

- A) 817
- B) 0,12
- C) 12,2
- D) 1,22
- E) 8,17

**Questão 96 (2011.2)**

A força de atrito é uma força que depende do contato entre corpos. Pode ser definida como uma força de oposição à tendência de deslocamento dos corpos e é gerada devido a irregularidades entre duas superfícies em contato.

Na figura, as setas representam forças que atuam no corpo e o ponto ampliado representa as irregularidades que existem entre as duas superfícies.



Na figura, os vetores que representam as forças que provocam o deslocamento e o atrito são, respectivamente:

- A)  $\rightarrow$  e  $\leftarrow$
- B)  $\downarrow$  e  $\uparrow$
- C)  $\rightarrow$  e  $\downarrow$
- D)  $\uparrow$  e  $\leftarrow$
- E)  $\downarrow$  e  $\leftarrow$



**Questão 97 (2011.2)**

Um detector de mentiras consiste em um circuito elétrico simples do qual faz parte o corpo humano. A inserção do corpo humano no circuito se dá do dedo indicador da mão direita até o dedo indicador da mão esquerda. Dessa forma, certa corrente elétrica pode passar por uma parte do corpo. Um medidor sensível (amperímetro) revela um fluxo de corrente quando uma tensão é aplicada no circuito. No entanto, a pessoa que se submete ao detector não sente a passagem da corrente. Se a pessoa mente, há uma ligeira alteração na condutividade de seu corpo, o que altera a intensidade da corrente detectada pelo medidor.

No dimensionamento do detector de mentiras, devem ser levados em conta os parâmetros: a resistência elétrica dos fios de ligação, a tensão aplicada no circuito e a resistência elétrica do medidor. Para que o detector funcione adequadamente como indicado no texto, quais devem ser as características desses parâmetros?

- A) Alta resistência dos fios de ligação, alta tensão aplicada e resistência interna desprezível no medidor.
- B) Alta resistência dos fios de ligação, pequena tensão aplicada e alta resistência interna no medidor.
- C) Pequena resistência dos fios de ligação, pequena tensão aplicada e resistência interna desprezível no medidor.
- D) Pequena resistência dos fios de ligação, alta tensão aplicada e resistência interna desprezível no medidor.
- E) Pequena resistência dos fios de ligação, alta tensão aplicada e alta resistência interna no medidor.

**Questão 98 (2011.2)**

Segundo Aristóteles, uma vez deslocados de seu local natural, os elementos tendem espontaneamente a retornar a ele, realizando movimentos chamados de naturais.

Já em um movimento denominado forçado, um corpo só permaneceria em movimento enquanto houvesse uma causa para que ele ocorresse. Cessada essa causa, o referido elemento entraria em repouso ou adquiriria um movimento natural.

(PORTO, C. M. A física de Aristóteles: uma construção ingênua? Revista Brasileira de Ensino de Física)

Posteriormente, Newton confrontou a ideia de Aristóteles sobre o movimento forçado através da lei da:

- A) ação e reação.
- B) conservação da massa.

- C) gravitação universal.
- D) conservação da energia.
- E) inércia.

**Questão 99 (2011.2)**

Um dos problemas ambientais vivenciados pela agricultura hoje em dia é a compactação do solo, devida ao intenso tráfego de máquinas cada vez mais pesadas, reduzindo a produtividade das culturas.

Uma das formas de prevenir o problema de compactação do solo é substituir os pneus dos tratores por pneus mais:

- A) largos, reduzindo a pressão sobre o solo.
- B) estreitos, reduzindo a pressão sobre o solo.
- C) largos, aumentando a pressão sobre o solo.
- D) estreitos, aumentando a pressão sobre o solo.
- E) altos, reduzindo a pressão sobre o solo.

**Questão 100 (2012.1)**

Os carrinhos de brinquedo podem ser de vários tipos. Dentre eles, há os movidos a corda, em que uma mola em seu interior é comprimida quando a criança puxa o carrinho para trás. Ao ser solto, o carrinho entra em movimento enquanto a mola volta à sua forma inicial.

O processo de conversão de energia que ocorre no carrinho descrito também é verificado em:

- A) um dínamo.
- B) um freio de automóvel.
- C) um motor a combustão.
- D) uma usina hidroelétrica.
- E) uma atiradeira (estilingue).

**Questão 101 (2012.1)**

Em um dia de chuva muito forte, constatou-se uma goteira sobre o centro de uma piscina coberta, formando um padrão de ondas circulares. Nessa situação, observou-se que caíam duas gotas a cada segundo. A distância entre duas cristas consecutivas era de 25 cm e cada uma delas se aproximava da borda da piscina com velocidade de 1,0 m/s. Após algum tempo a chuva diminuiu e a goteira passou a cair uma vez por segundo.

Com a diminuição da chuva, a distância entre as cristas e a velocidade de propagação da onda se tornaram, respectivamente,

- A) maior que 25 cm e maior que 1,0 m/s.
- B) maior que 25 cm e igual a 1,0 m/s.
- C) menor que 25 cm e menor que 1,0 m/s.
- D) menor que 25 cm e igual a 1,0 m/s.
- E) igual a 25 cm e igual a 1,0 m/s.

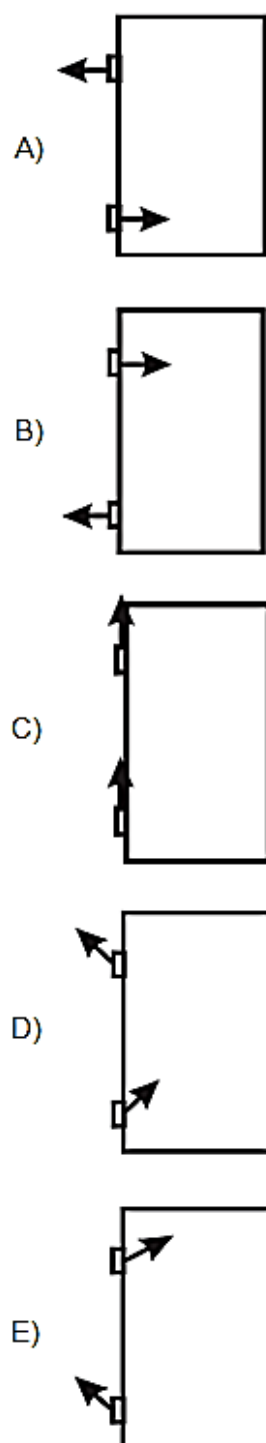


**Questão 102 (2012.1)**

O mecanismo que permite articular uma porta (de um móvel ou de acesso) é a dobradiça.

Normalmente, são necessárias duas ou mais dobradiças para que a porta seja fixada no móvel ou no portal, permanecendo em equilíbrio e podendo ser articulada com facilidade.

No plano, o diagrama vetorial das forças que as dobradiças exercem na porta está representado em:

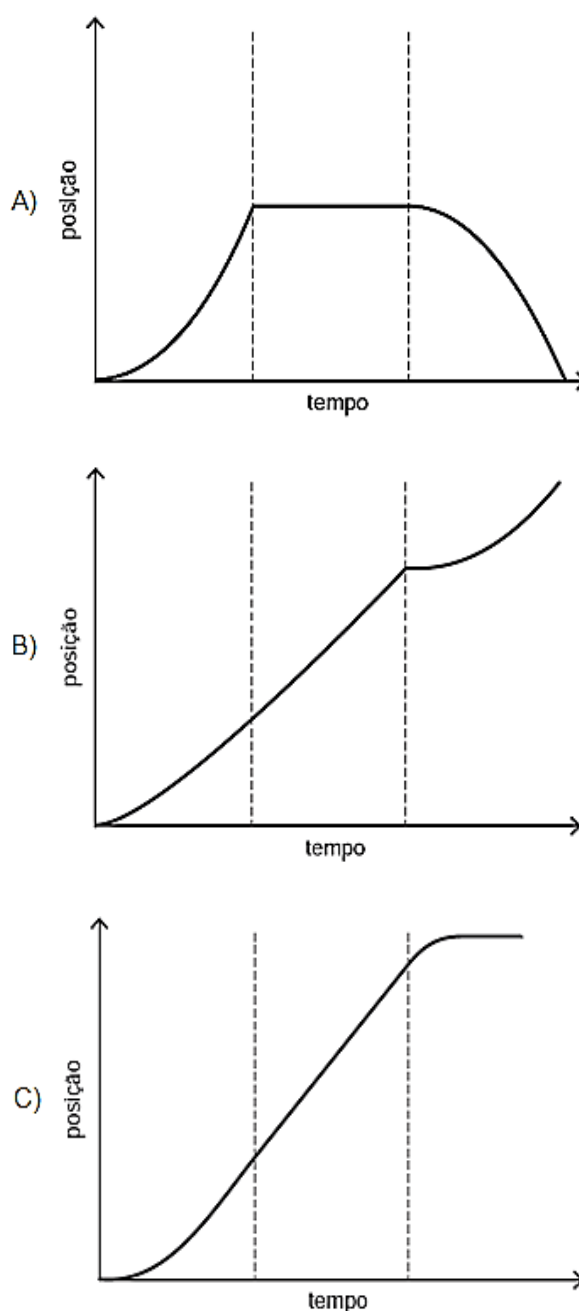


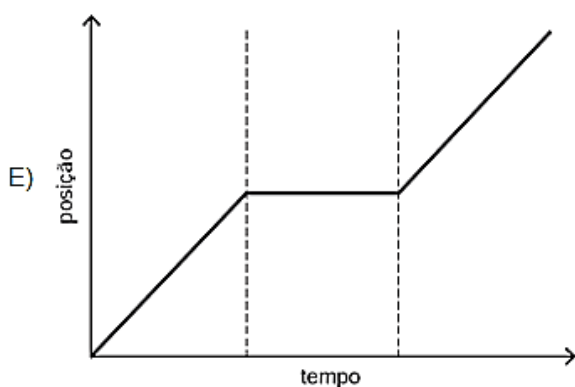
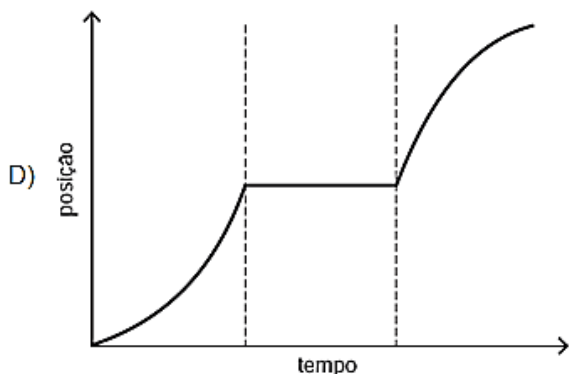
**Questão 103 (2012.1)**

Para melhorar a mobilidade urbana na rede metroviária é necessário minimizar o tempo entre estações.

Para isso a administração do metrô de uma grande cidade adotou o seguinte procedimento entre duas estações: a locomotiva parte do repouso com aceleração constante por um terço do tempo de percurso, mantém a velocidade constante por outro terço e reduz sua velocidade com desaceleração constante no trecho final, até parar.

Qual é o gráfico de posição (eixo vertical) em função do tempo (eixo horizontal) que representa o movimento desse trem?





**Questão 104 (2012.1)**

A eficiência das lâmpadas pode ser comparada utilizando a razão, considerada linear, entre a quantidade de luz produzida e o consumo. A quantidade de luz é medida pelo fluxo luminoso, cuja unidade é o lúmen (lm). O consumo está relacionado à potência elétrica da lâmpada que é medida em watt (W). Por exemplo, uma lâmpada incandescente de 40 W emite cerca de 600 lm, enquanto uma lâmpada fluorescente de 40 W emite cerca de 3 000 lm.

A eficiência de uma lâmpada incandescente de 40 W é:

- A) maior que a de uma lâmpada fluorescente de 8 W, que produz menor quantidade de luz
- B) maior que a de uma lâmpada fluorescente de 40 W, que produz menor quantidade de luz.
- C) menor que a de uma lâmpada fluorescente de 8 W, que produz a mesma quantidade de luz.
- D) menor que a de uma lâmpada fluorescente de 40 W, pois consome maior quantidade de energia.
- E) igual a de uma lâmpada fluorescente de 40 W, que consome a mesma quantidade de energia.

**Questão 105 (2012.1)**

Alguns povos indígenas ainda preservam suas tradições realizando a pesca com lanças, demonstrando uma notável habilidade. Para fisgar um peixe em um lago com águas tranquilas o

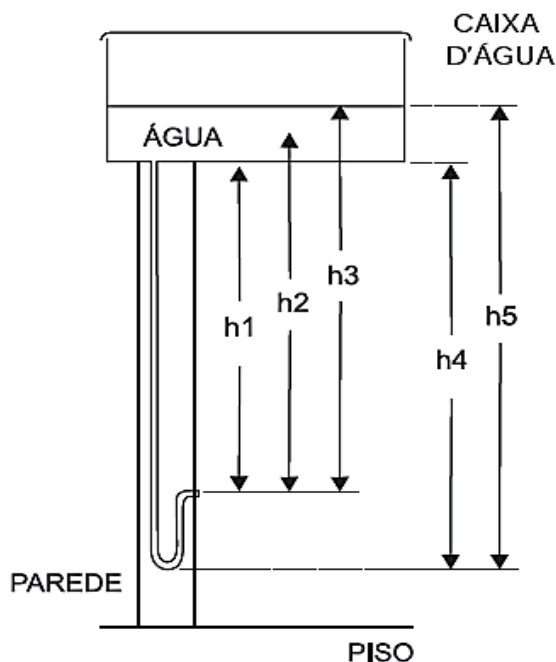
índio deve mirar abaixo da posição em que enxerga o peixe.

Ele deve proceder dessa forma porque os raios de luz:

- A) refletidos pelo peixe não descrevem uma trajetória retilínea no interior da água.
- B) emitidos pelos olhos do índio desviam sua trajetória quando passam do ar para a água.
- C) espalhados pelo peixe são refletidos pela superfície da água.
- D) emitidos pelos olhos do índio são espalhados pela superfície da água.
- E) refletidos pelo peixe desviam sua trajetória quando passam da água para o ar.

**Questão 106 (2012.1)**

O manual que acompanha uma ducha higiênica informa que a pressão mínima da água para o seu funcionamento apropriado é de 20 kPa. A figura mostra a instalação hidráulica com a caixa d'água e o cano ao qual deve ser conectada a ducha.



O valor da pressão da água na ducha está associado à altura:

- A) h1.
- B) h2.
- C) h3.
- D) h4.
- E) h5.

**Questão 107 (2012.1)**

Uma empresa de transportes precisa efetuar a entrega de uma encomenda o mais breve possível. Para tanto, a equipe de logística analisa o trajeto desde a empresa até o local da entrega.



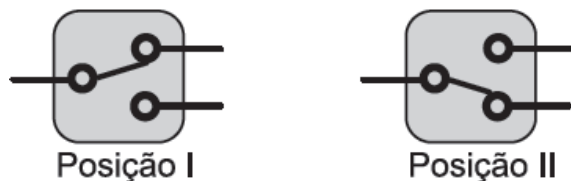
Ela verifica que o trajeto apresenta dois trechos de distâncias diferentes e velocidades máximas permitidas diferentes. No primeiro trecho, a velocidade máxima permitida é de 80 km/h e a distância a ser percorrida é de 80 km. No segundo trecho, cujo comprimento vale 60 km, a velocidade máxima permitida é 120 km/h.

Supondo que as condições de trânsito sejam favoráveis para que o veículo da empresa ande continuamente na velocidade máxima permitida, qual será o tempo necessário, em horas, para a realização da entrega?

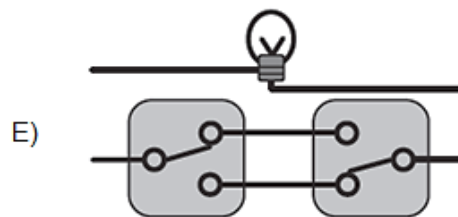
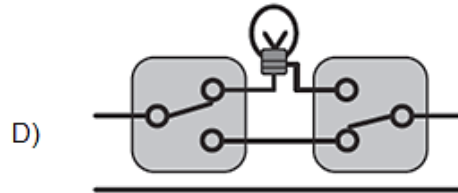
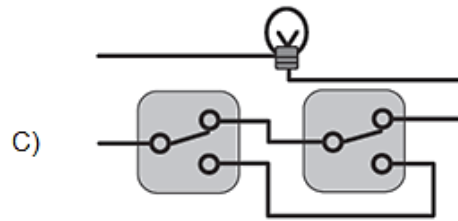
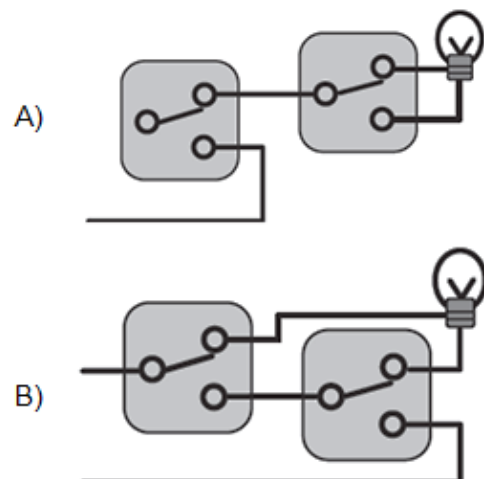
- A) 0,7
- B) 1,4
- C) 1,5
- D) 2,0
- E) 3,0

**Questão 108 (2012.1)**

Para ligar ou desligar uma mesma lâmpada a partir de dois interruptores, conectam-se os interruptores para que a mudança de posição de um deles faça ligar ou desligar a lâmpada, não importando qual a posição do outro. Esta ligação é conhecida como interruptores paralelos. Este interruptor é uma chave de duas posições constituída por um polo e dois terminais, conforme mostrado nas figuras de um mesmo interruptor. Na Posição I a chave conecta o polo ao terminal superior, e na Posição II a chave o conecta ao terminal inferior.

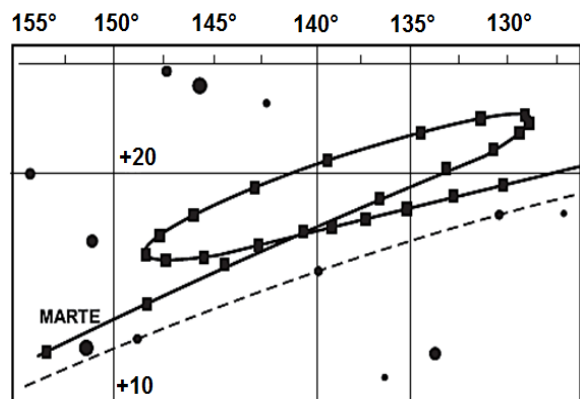


O circuito que cumpre a finalidade de funcionamento descrita no texto é:



**Questão 109 (2012.1)**

A característica que permite identificar um planeta no céu é o seu movimento relativo às estrelas fixas. Se observarmos a posição de um planeta por vários dias, verificaremos que sua posição em relação às estrelas fixas se modifica regularmente. A figura destaca o movimento de Marte observado em intervalos de 10 dias, registrado da Terra.



Qual a causa da forma da trajetória do planeta Marte registrada na figura?

- A) A maior velocidade orbital da Terra faz com que, em certas épocas, ela ultrapasse Marte.
- B) A presença de outras estrelas faz com que sua trajetória seja desviada por meio da atração gravitacional.
- C) A órbita de Marte, em torno do Sol, possui uma forma elíptica mais acentuada que a dos demais planetas.





D) A atração gravitacional entre a Terra e Marte faz com que este planeta apresente uma órbita irregular em torno do Sol.

E) A proximidade de Marte com Júpiter, em algumas épocas do ano, faz com que a atração gravitacional de Júpiter interfira em seu movimento.

### Questão 110 (2012.1)

Um consumidor desconfia que a balança do supermercado não está aferindo corretamente a massa dos produtos. Ao chegar a casa resolve conferir se a balança estava descalibrada.

Para isso, utiliza um recipiente provido de escala volumétrica, contendo 1,0 litro d'água.

Ele coloca uma porção dos legumes que comprou dentro do recipiente e observa que a água atinge a marca de 1,5 litro e também que a porção não ficara totalmente submersa, com 1/3 de seu volume fora d'água.

Para concluir o teste, o consumidor, com ajuda da internet, verifica que a densidade dos legumes, em questão, é a metade da densidade da água, onde,  $\rho_{\text{água}} = 1 \frac{\text{g}}{\text{cm}^3}$ .

No supermercado a balança registrou a massa da porção de legumes igual a 0,500 kg (meio quilograma).

Considerando que o método adotado tenha boa precisão, o consumidor concluiu que a balança estava descalibrada e deveria ter registrado a massa da porção de legumes igual a:

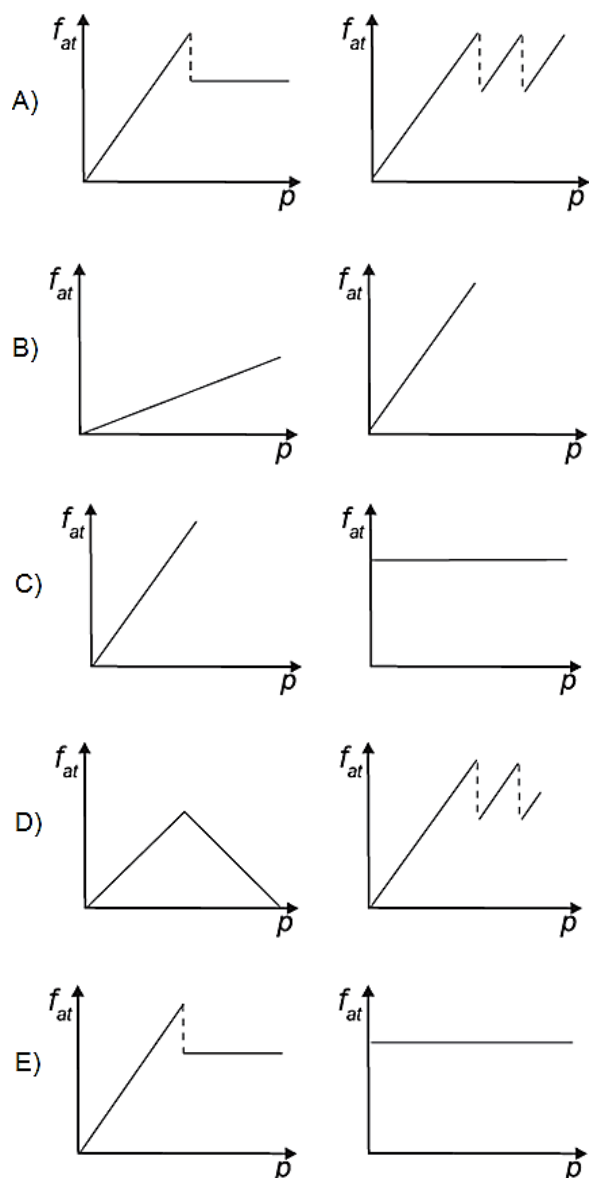
- A) 0,073 kg.
- B) 0,167 kg.
- C) 0,250 kg.
- D) 0,375 kg.
- E) 0,750 kg.

### Questão 111 (2012.1)

Os freios ABS são uma importante medida de segurança no trânsito, os quais funcionam para impedir o travamento das rodas do carro quando o sistema de freios é acionado, liberando as rodas quando estão no limiar do deslizamento.

Quando as rodas travam, a força de frenagem é governada pelo atrito cinético.

As representações esquemáticas da força de atrito  $f_{\text{at}}$  entre os pneus e a pista, em função da pressão  $p$  aplicada no pedal de freio, para carros sem ABS e com ABS, respectivamente, são:



### Questão 112 (2012.1)

Aumentar a eficiência na queima de combustível dos motores a combustão e reduzir suas emissões de poluentes é a meta de qualquer fabricante de motores.

É também o foco de uma pesquisa brasileira que envolve experimentos com plasma, o quarto estado da matéria e que está presente no processo de ignição.

A interação da faísca emitida pela vela de ignição com as moléculas de combustível gera o plasma que provoca a explosão liberadora de energia que, por sua vez, faz o motor funcionar.

No entanto, a busca da eficiência referenciada no texto apresenta como fator limitante:

- A) o tipo de combustível, fóssil, que utilizam. Sendo um insumo não renovável, em algum momento estará esgotado.



B) um dos princípios da termodinâmica, segundo o qual o rendimento de uma máquina térmica nunca atinge o ideal.

C) o funcionamento cíclico de todos os motores. A repetição contínua dos movimentos exige que parte da energia seja transferida ao próximo ciclo.

D) as forças de atrito inevitável entre as peças. Tais forças provocam desgastes contínuos que com o tempo levam qualquer material à fadiga e ruptura.

E) a temperatura em que eles trabalham. Para atingir o plasma, é necessária uma temperatura maior que a de fusão do aço com que se fazem os motores.

**Questão 113 (2012.1)**

Nossa pele possui células que reagem à incidência de luz ultravioleta e produzem uma substância chamada melanina, responsável pela pigmentação da pele. Pensando em se bronzear, uma garota vestiu um biquíni, acendeu a luz de seu quarto e deitou-se exatamente abaixo da lâmpada incandescente. Após várias horas ela percebeu que não conseguiu resultado algum.

O bronzeamento não ocorreu porque a luz emitida pela lâmpada incandescente é de:

- A) baixa intensidade.
- B) baixa frequência.
- C) um espectro contínuo.
- D) amplitude inadequada.
- E) curto comprimento de onda.

**Questão 114 (2012.2)**

No manual de uma máquina de lavar, o usuário vê o símbolo:



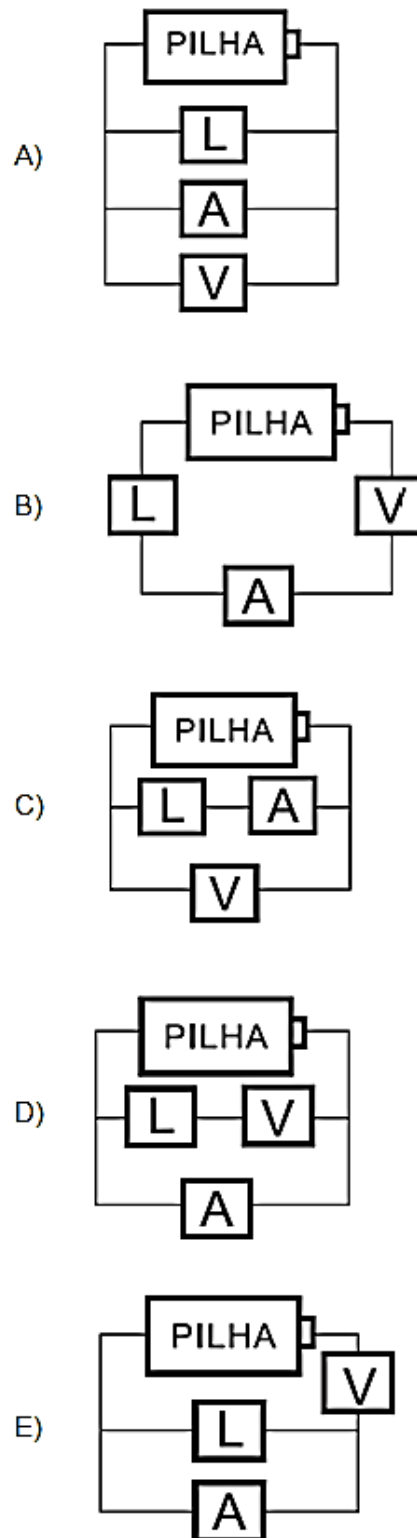
Este símbolo orienta o consumidor sobre a necessidade de a máquina ser ligada a:

- A) uma rede de coleta de água da chuva.
- B) um fio neutro para evitar sobrecarga elétrica.
- C) um fio terra para aproveitar as cargas elétricas do solo.
- D) um fio terra para evitar sobrecarga elétrica.
- E) uma rede de coleta de esgoto doméstico.

**Questão 115 (2012.2)**

Um eletricitista precisa medir a resistência elétrica de uma lâmpada. Ele dispõe de uma pilha, de uma lâmpada (L), de alguns fios e de dois aparelhos: um voltímetro (V), para medir a diferença de potencial entre dois pontos, e um amperímetro (A), para medir a corrente elétrica.

O circuito elétrico montado pelo eletricitista para medir essa resistência é:





### Questão 116 (2012.2)

Em dias com baixas temperaturas, as pessoas utilizam casacos ou blusas de lã com o intuito de minimizar a sensação de frio. Fisicamente, esta sensação ocorre pelo fato de o corpo humano liberar calor, que é a energia transferida de um corpo para outro em virtude da diferença de temperatura entre eles.

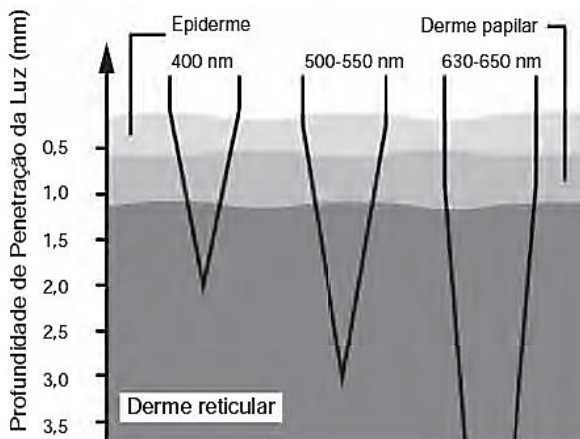
A utilização de vestimenta de lã diminui a sensação de frio, porque:

- A) possui a propriedade de gerar calor.
- B) tem como principal característica a absorção de calor, facilitando o equilíbrio térmico.
- C) diminui a taxa de transferência de calor do corpo humano para o meio externo.
- D) é constituída de material denso, o que não permite a entrada do ar frio.
- E) está em contato direto com o corpo humano, facilitando a transferência de calor por condução.

### Questão 117 (2012.2)

A terapia fotodinâmica é um tratamento que utiliza luz para cura de câncer através da excitação de moléculas medicamentosas, que promovem a desestruturação das células tumorais.

Para a eficácia do tratamento, é necessária a iluminação na região do tecido a ser tratado. Em geral, as moléculas medicamentosas absorvem as frequências mais altas. Por isso, as intervenções cutâneas são limitadas pela penetração da luz visível, conforme a figura:



A profundidade de até 2 mm em que o tratamento cutâneo é eficiente se justifica porque a luz de:

- A) cada comprimento de onda percebe um índice de refração diferente.
- B) todos os comprimentos de onda terão alta intensidade.
- C) menor energia é absorvida nas regiões mais profundas.

- D) curto comprimento de onda é mais refletida pela pele.
- E) maior energia é mais absorvida pelo tecido orgânico.

### Questão 118 (2012.2)

Chuveiros elétricos possuem uma chave para regulagem da temperatura verão/inverno e para desligar o chuveiro. Além disso, é possível regular a temperatura da água, abrindo ou fechando o registro. Abrindo, diminui-se a temperatura e fechando, aumenta-se.

Aumentando-se o fluxo da água há uma redução na sua temperatura, pois:

- A) diminui-se a capacidade térmica do conjunto água/ chuveiro, diminuindo também a capacidade do conjunto de se aquecer.
- B) diminui-se o tempo de contato entre a água e a resistência do chuveiro, diminuindo a transferência de calor de uma para a outra.
- C) diminui-se o contato entre a corrente elétrica do chuveiro e a água, diminuindo também a sua capacidade de aquecê-la.
- D) aumenta-se a área da superfície da água dentro do chuveiro, aumentando a perda de calor por radiação.
- E) aumenta-se o calor específico da água, aumentando a dificuldade com que a massa de água se aquece no chuveiro.

### Questão 119 (2012.2)

O freio ABS é um sistema que evita que as rodas de um automóvel sejam bloqueadas durante uma frenagem forte e entrem em derrapagem. Testes demonstram que, a partir de uma dada velocidade, a distância de frenagem será menor se for evitado o bloqueio das rodas.

O ganho na eficiência da frenagem na ausência de bloqueio das rodas resulta do fato de:

- A) a superfície de contato entre os pneus e o pavimento ser maior com as rodas desbloqueadas, independentemente do coeficiente de atrito.
- B) o coeficiente de atrito estático ser maior que o dinâmico, independentemente da superfície de contato entre os pneus e o pavimento.
- C) o coeficiente de atrito estático tornar-se igual ao dinâmico momentos antes da derrapagem.
- D) o coeficiente de atrito estático ser menor que o dinâmico, independentemente da superfície de contato entre os pneus e o pavimento.
- E) a superfície de contato entre os pneus e o pavimento ser maior com as rodas desbloqueadas e o coeficiente de atrito estático ser maior que o dinâmico.



Questão 120 (2012.2)



O quadro oferece os coeficientes de dilatação linear de alguns metais e ligas metálicas:

Substância	Aço	Alumínio	Bronze	Chumbo	Níquel	Latão	Ouro	Platina	Prata	Cobre
Coefficiente de dilatação linear ( $\times 10^{-6} \text{ } ^\circ\text{C}^{-1}$ )	1,2	2,4	1,8	2,9	1,3	1,8	1,4	0,9	2,4	1,7

Para permitir a ocorrência do fato observado na tirinha, a partir do menor aquecimento do conjunto, o parafuso e a porca devem ser feitos, respectivamente, de:

- A) alumínio e chumbo.
- B) aço e níquel.
- C) platina e chumbo.
- D) cobre e bronze.
- E) ouro e latão.

Questão 121 (2012.2)

Em 1543, Nicolau Copérnico publicou um livro revolucionário em que propunha a Terra girando em torno do seu próprio eixo e rodando em torno do Sol. Isso contraria a concepção aristotélica, que acredita que a Terra é o centro do universo.

Para os aristotélicos, se a Terra gira do oeste para o leste, coisas como nuvens e pássaros, que não estão presas à Terra, pareceriam estar sempre se movendo do leste para o oeste, justamente como o Sol. Mas foi Galileu Galilei que, em 1632, baseando-se em experiências, rebateu a crítica aristotélica, confirmando assim o sistema de Copérnico. Seu argumento, adaptado para a nossa época, é: se uma pessoa, dentro de um vagão de trem em repouso, solta uma bola, ela cai junto a seus pés. Mas se o vagão estiver se movendo com velocidade constante, a bola também cai junto a seus pés. Isto porque a bola, enquanto cai, continua a compartilhar do movimento do vagão.

O princípio físico usado por Galileu para rebater o argumento aristotélico foi:

- A) ação e reação.
- B) a segunda lei de Newton.
- C) a lei da inércia.
- D) a conservação da energia.
- E) o princípio da equivalência.

Questão 122 (2012.2)

A usina termelétrica a carvão é um dos tipos de unidades geradoras de energia elétrica no Brasil. Essas usinas transformam a energia contida no combustível (carvão mineral) em energia elétrica.

Em que sequência ocorrem os processos para realizar essa transformação?

- A) A queima do carvão produz energia térmica, que é usada para aquecer água, transformando-se novamente em energia química, quando a água é decomposta em hidrogênio e oxigênio, gerando energia elétrica.
- B) A usina transforma diretamente toda a energia química contida no carvão em energia elétrica, usando reações de fissão em uma célula combustível.
- C) A queima do carvão produz energia térmica, que é transformada em energia potencial na torre da usina. Essa energia é então transformada em energia elétrica nas células eletrolíticas.
- D) A queima do carvão produz energia térmica, que é usada para transformar água em vapor. A energia contida no vapor é transformada em energia mecânica na turbina e, então, transformada em energia elétrica no gerador.
- E) A usina queima o carvão, produzindo energia térmica, que é transformada em energia elétrica por dispositivos denominados transformadores.



**Questão 123 (2012.2)**

Os fornos domésticos de microondas trabalham com uma frequência de ondas eletromagnéticas que atuam fazendo rotacionar as moléculas de água, gordura e açúcar e, conseqüentemente, fazendo com que os alimentos sejam aquecidos. Os telefones sem fio também usam ondas eletromagnéticas na transmissão do sinal. As especificações técnicas desses aparelhos são informadas nos quadros 1 e 2, retirados de seus manuais.

Quadro 1 - Especificações técnicas do telefone	
Frequência de operação	2 409,60 MHz a 2 420,70 MHz
Modulação	FM
Frequência	60 Hz
Potência máxima	1,35 W

Quadro 2 - Especificações técnicas do forno de micro-ondas	
Capacidade	31 litros
Frequência	60 Hz
Potência de saída	1 000 W
Frequência das micro-ondas	2 450 MHz

O motivo de a radiação do telefone não aquecer como a do microondas é que:

- A) a frequência de alimentação é 60 Hz para os dois aparelhos.
- B) a modulação das ondas no forno é maior do que no telefone.
- C) o interior do forno reflete as micro-ondas e as concentra.
- D) a potência do telefone sem fio é menor que a do forno.
- E) o ambiente no qual o telefone funciona é aberto.

**Questão 124 (2012.2)**

Em apresentações musicais realizadas em espaços onde o público fica longe do palco, é necessária a instalação de alto-falantes adicionais a grandes distâncias, além daqueles localizados no palco. Como a velocidade com que o som se propaga no ar ( $v_{\text{som}} = 3,4 \times 10^2$  m/s) é muito menor do que a velocidade com que o sinal elétrico se propaga nos cabos ( $v_{\text{sinal}} = 2,6 \times 10^8$  m/s), é necessário atrasar o sinal elétrico de modo que este chegue pelo cabo ao alto-falante no mesmo instante em que o som vindo do palco chega pelo ar. Para tentar contornar esse problema, um técnico de som pensou em simplesmente instalar um cabo elétrico com comprimento suficiente para o sinal elétrico chegar ao mesmo tempo que o som, em um alto-falante que está a uma distância de 680 metros do palco.

A solução é inviável, pois seria necessário um cabo elétrico de comprimento mais próximo de:

- A)  $8,9 \times 10^4$  km.
- B)  $6,0 \times 10^{13}$  km.
- C)  $1,1 \times 10^3$  km.
- D)  $1,3 \times 10^5$  km.
- E)  $5,2 \times 10^5$  km.

**Questão 125 (2012.2)**

Durante uma faxina, a mãe pediu que o filho a ajudasse, deslocando um móvel para mudá-lo de lugar. Para escapar da tarefa, o filho disse ter aprendido na escola que não poderia puxar o móvel, pois a Terceira Lei de Newton define que se puxar o móvel, o móvel o puxará igualmente de volta, e assim não conseguirá exercer uma força que possa colocá-lo em movimento.

Qual argumento a mãe utilizará para apontar o erro de interpretação do garoto?

- A) A força resultante sobre o móvel é sempre nula.
- B) A força de ação é um pouco maior que a força de reação.
- C) A força de ação é aquela exercida pelo garoto.
- D) O par de forças de ação e reação não atua em um mesmo corpo.
- E) As forças que o chão exerce sobre o garoto se anulam.

**Questão 126 (2012.2)**

Em um experimento, coloca-se glicerina dentro de um tubo de vidro liso. Em seguida, parte do tubo é colocada em um copo de vidro que contém glicerina e a parte do tubo imersa fica invisível. Esse fenômeno ocorre porque a:

- A) intensidade da luz é praticamente constante no vidro.
- B) trajetória da luz é alterada quando ela passa da glicerina para o vidro.
- C) luz que incide no copo não é transmitida para o tubo de vidro.
- D) parcela de luz refletida pelo vidro é praticamente nula.
- E) velocidade da luz é a mesma no vidro e na glicerina.

**Questão 127 (2012.2)**

Para afinar um violão, um músico necessita de uma nota para referência, por exemplo, a nota Lá em um piano. Dessa forma, ele ajusta as cordas do violão até que ambos os instrumentos toquem a mesma nota. Mesmo ouvindo a mesma nota, é possível diferenciar o som emitido pelo piano e pelo violão.



Essa diferenciação é possível, porque:

- A) a amplitude do som emitido por cada instrumento é diferente.
- B) a intensidade do som emitido por cada instrumento é diferente.
- C) a potência do som emitido pelo piano é maior.
- D) a ressonância do som emitido pelo piano é maior.
- E) o timbre do som produzido por cada instrumento é diferente.

**Questão 128 (2012.2)**

Um automóvel, em movimento uniforme, anda por uma estrada plana, quando começa a descer uma ladeira, na qual o motorista faz com que o carro se mantenha sempre com velocidade escalar constante.

Durante a descida, o que ocorre com as energias potencial, cinética e mecânica do carro?

- A) A energia mecânica diminui, pois a energia cinética se mantém constante, mas a energia potencial gravitacional diminui.
- B) A energia cinética aumenta, pois a energia potencial gravitacional diminui e quando uma se reduz, a outra cresce.
- C) A energia mecânica mantém-se constante, já que a velocidade escalar não varia e, portanto, a energia cinética é constante.
- D) A energia potencial gravitacional mantém-se constante, já que há apenas forças conservativas agindo sobre o carro.
- E) A energia cinética mantém-se constante, já que não há trabalho realizado sobre o carro.

**Questão 129 (2012.2)**

Em um centro de pesquisa de alimentos, um técnico efetuou a determinação do valor calórico de determinados alimentos da seguinte forma: colocou uma massa conhecida de água em um recipiente termicamente isolado.

Em seguida, dentro desse recipiente, foi queimada uma determinada massa do alimento. Como o calor liberado por essa queima é fornecido para a água, o técnico calculou a quantidade de calor que cada grama do alimento libera.

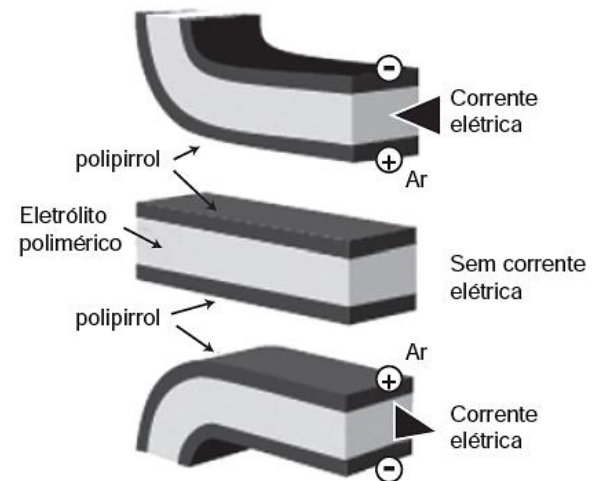
Para a realização desse teste, qual aparelho de medida é essencial?

- A) Termômetro.
- B) Radiômetro.
- C) Potenciômetro.
- D) Dinamômetro.
- E) Cronômetro.

**Questão 130 (2013.1)**

Músculos artificiais são dispositivos feitos com plásticos inteligentes que respondem a uma corrente elétrica com um movimento mecânico. A oxidação e redução de um polímero condutor criam cargas positivas e/ou negativas no material, que são compensadas com a inserção ou expulsão de cátions ou ânions. Por exemplo, na figura os filmes escuros são de polipirrol e o filme branco é de um eletrólito polimérico contendo um sal inorgânico.

Quando o polipirrol sofre oxidação, há a inserção de ânions para compensar a carga positiva no polímero e o filme se expande. Na outra face do dispositivo o filme de polipirrol sofre redução, expulsando ânions, e o filme se contrai. Pela montagem, em sanduíche, o sistema todo se movimenta de forma harmônica, conforme mostrado na figura.



A camada central de eletrólito polimérico é importante porque:

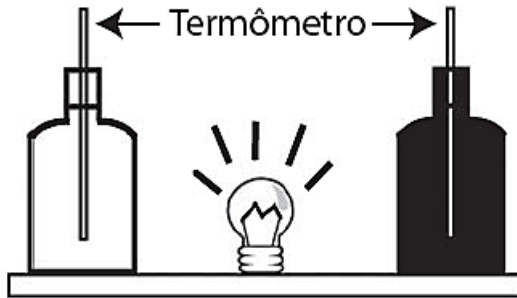
- A) absorve a irradiação de partículas carregadas, emitidas pelo aquecimento elétrico dos filmes de polipirrol.
- B) permite a difusão dos íons promovida pela aplicação de diferença de potencial, fechando o circuito elétrico.
- C) mantém um gradiente térmico no material para promover a dilatação/contração térmica de cada filme de polipirrol.
- D) permite a condução de elétrons livres, promovida pela aplicação de diferença de potencial, gerando corrente elétrica.
- E) promove a polarização das moléculas poliméricas, o que resulta no movimento gerado pela aplicação de diferença de potencial.

**Questão 131 (2013.1)**

Em um experimento, foram utilizadas duas garrafas PET, uma pintada de branco e a outra de preto, acopladas cada uma a um termômetro. No ponto médio da distância entre as garrafas,



foi mantida acesa, durante alguns minutos, uma lâmpada incandescente. Em seguida, a lâmpada foi desligada. Durante o experimento, foram monitoradas as temperaturas das garrafas: a) enquanto a lâmpada permaneceu acesa e b) após a lâmpada ser desligada e atingirem equilíbrio térmico com o ambiente.



A taxa de variação da temperatura da garrafa preta, em comparação à da branca, durante todo experimento, foi:

- A) igual no aquecimento e igual no resfriamento.
- B) maior no aquecimento e igual no resfriamento.
- C) menor no aquecimento e igual no resfriamento.
- D) maior no aquecimento e menor no resfriamento.
- E) maior no aquecimento e maior no resfriamento.

#### Questão 132 (2013.1)

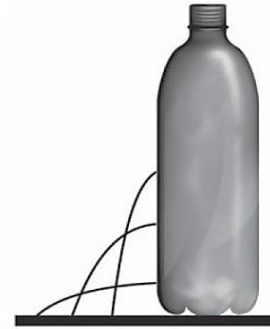
Em viagens de avião, é solicitado aos passageiros o desligamento de todos os aparelhos cujo funcionamento envolva a emissão ou a recepção de ondas eletromagnéticas. O procedimento é utilizado para eliminar fontes de radiação que possam interferir nas comunicações via rádio dos pilotos com a torre de controle.

A propriedade das ondas emitidas que justifica o procedimento adotado é o fato de:

- A) terem fases opostas.
- B) serem ambas audíveis.
- C) terem intensidades inversas.
- D) serem de mesma amplitude.
- E) terem frequências próximas.

#### Questão 133 (2013.1)

Para realizar um experimento com uma garrafa PET cheia d'água, perfurou-se a lateral da garrafa em três posições a diferentes alturas. Com a garrafa tampada, a água não vazou por nenhum dos orifícios, e, com a garrafa destampada, observou-se o escoamento da água conforme ilustrado na figura.



Como a pressão atmosférica interfere no escoamento da água, nas situações com a garrafa tampada e destampada, respectivamente?

- A) Impede a saída de água, por ser maior que a pressão interna; não muda a velocidade de escoamento, que só depende da pressão da coluna de água.
- B) Impede a saída de água, por ser maior que a pressão interna; altera a velocidade de escoamento, que é proporcional à pressão atmosférica na altura do furo.
- C) Impede a entrada de ar, por ser menor que a pressão interna; altera a velocidade de escoamento, que é proporcional à pressão atmosférica na altura do furo.
- D) Impede a saída de água, por ser maior que a pressão interna; regula a velocidade de escoamento, que só depende da pressão atmosférica.
- E) Impede a saída de água, por ser menor que a pressão interna; não muda a velocidade de escoamento, que só depende da pressão da coluna de água.

#### Questão 134 (2013.1)

Para oferecer acessibilidade aos portadores de dificuldades de locomoção, é utilizado, em ônibus e automóveis, o elevador hidráulico. Nesse dispositivo é usada uma bomba elétrica, para forçar um fluido a passar de uma tubulação estreita para outra mais larga, e dessa forma acionar um pistão que movimenta a plataforma. Considere um elevador hidráulico cuja área da cabeça do pistão seja cinco vezes maior do que a área da tubulação que sai da bomba. Desprezando o atrito e considerando uma aceleração gravitacional de  $10\text{m/s}^2$ , deseja-se elevar uma pessoa de 65 kg em uma cadeira de rodas de 15 k sobre a plataforma de 20 kg.

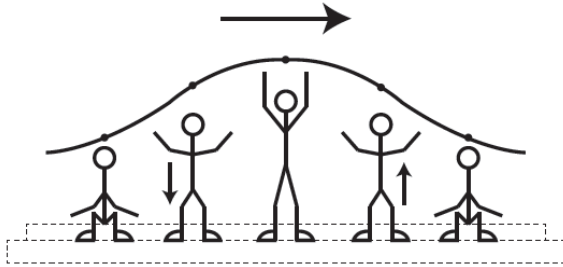
Qual deve ser a força exercida pelo motor da bomba sobre o fluido, para que o cadeirante seja elevado com velocidade constante?

- A) 20N
- B) 100N
- C) 200N
- D) 1000N
- E) 5000N



**Questão 135 (2013.1)**

Uma manifestação comum das torcidas em estádios de futebol é a *ola mexicana*. Os espectadores de uma linha, sem sair do lugar e sem se deslocarem lateralmente, ficam de pé e se sentam, sincronizados com os da linha adjacente. O efeito coletivo se propaga pelos espectadores do estádio, formando uma onda progressiva, conforme ilustração.

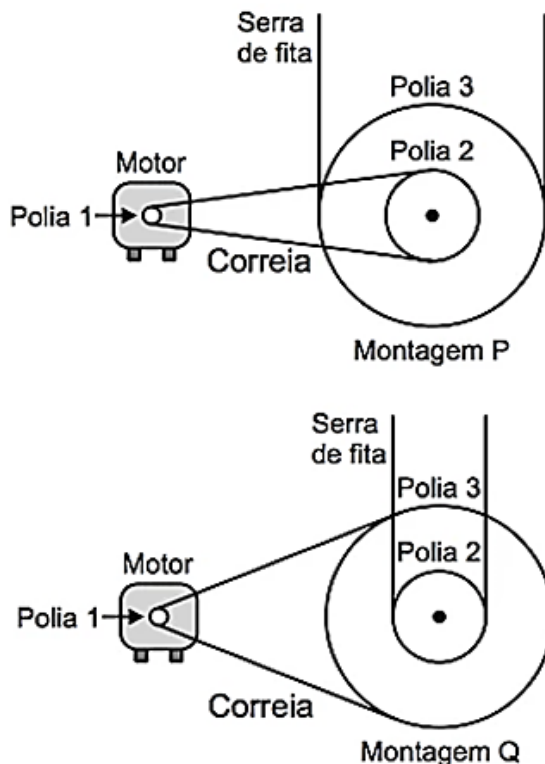


Calcula-se que a velocidade de propagação dessa "onda humana" é 45km/h e que cada período de oscilação contém 16 pessoas, que se levantam e sentam organizadamente distanciadas entre si por 80cm.

Nessa *ola mexicana*, a frequência da onda, em hertz, é um valor mais próximo de:

- A) 0,3.
- B) 0,5.
- C) 1,0.
- D) 1,9.
- E) 3,7.

**Questão 136 (2013.1)**



Para serrar os ossos e carnes congeladas, um açougueiro utiliza uma serra de fita que possui três polias e um motor. O equipamento pode ser montado de duas formas diferentes, P e Q. Por questão de segurança, é necessário que a serra possua menor velocidade linear.

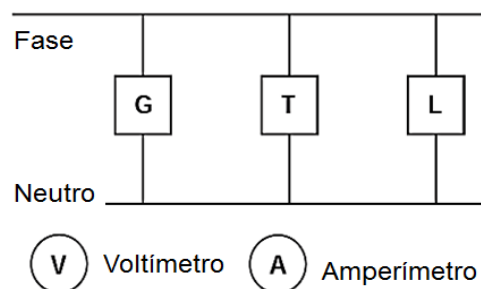
Por qual montagem o açougueiro deve optar e qual a justificativa desta opção?

- A) Q, pois as polias 1 e 3 giram com velocidades lineares iguais em pontos periféricos e a que tiver maior raio terá menor frequência.
- B) Q, pois as polias 1 e 3 giram com frequências iguais e a que tiver maior raio terá menor velocidade linear em um ponto periférico.
- C) P, pois as polias 2 e 3 giram com frequências diferentes e a que tiver maior raio terá menor velocidade linear em um ponto periférico.
- D) P, pois as polias 1 e 2 giram com diferentes velocidades lineares em pontos periféricos e a que tiver menor raio terá maior frequência.
- E) Q, pois as polias 2 e 3 giram com diferentes velocidades lineares em pontos periféricos e a que tiver maior raio terá menor frequência.

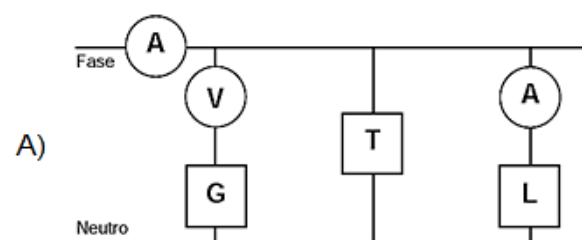
**Questão 137 (2013.1)**

Um electricista analisa o diagrama de uma instalação elétrica residencial para planejar medições de tensão e corrente em uma cozinha. Nesse ambiente existem uma geladeira (G), uma tomada (T) e uma lâmpada (L), conforme a figura. O electricista deseja medir a tensão elétrica aplicada à geladeira, a corrente total e a corrente na lâmpada.

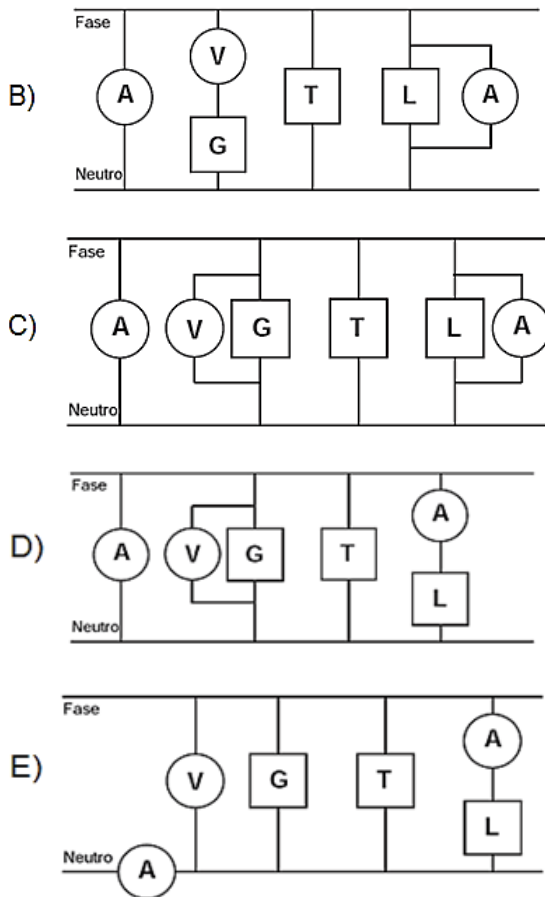
Para isso, ele dispõe de um voltímetro (V) e dois amperímetros (A).



Para realizar essas medidas, o esquema da ligação desses instrumentos está representado em:







**Questão 138 (2013.1)**

O chuveiro elétrico é um dispositivo capaz de transformar energia elétrica em energia térmica, o que possibilita a elevação da temperatura da água. Um chuveiro projetado para funcionar em 110V pode ser adaptado para funcionar em 220V, de modo a manter inalterada sua potência.

Uma das maneiras de fazer essa adaptação é trocar a resistência do chuveiro por outra, de mesmo material e com o(a):

- A) dobro do comprimento do fio.
- B) metade do comprimento do fio.
- C) metade da área da seção reta do fio.
- D) quádruplo da área da seção reta do fio.
- E) quarta parte da área da seção reta do fio.

**Questão 139 (2013.1)**

Uma pessoa necessita da força de atrito em seus pés para se deslocar sobre uma superfície. Logo, uma pessoa que sobe uma rampa em linha reta será auxiliada pela força de atrito exercida pelo chão em seus pés.

Em relação ao movimento dessa pessoa, quais são a direção e o sentido da força de atrito mencionada no texto?

- A) Perpendicular ao plano e no mesmo sentido do movimento.
- B) Paralelo ao plano e no sentido contrário ao movimento.
- C) Paralelo ao plano e no mesmo sentido do movimento.
- D) Horizontal e no mesmo sentido do movimento.
- E) Vertical e sentido para cima.

**Questão 140 (2013.1)**

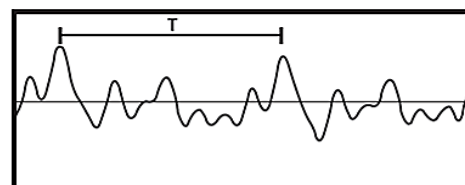
Um circuito em série é formado por uma pilha, uma lâmpada incandescente e uma chave interruptora. Ao se ligar a chave, a lâmpada acende quase instantaneamente, irradiando calor e luz. Popularmente, associa-se o fenômeno da irradiação de energia a um desgaste da corrente elétrica, ao atravessar o filamento da lâmpada, e à rapidez com que a lâmpada começa a brilhar. Essa explicação está em desacordo com o modelo clássico de corrente.

De acordo com o modelo mencionado, o fato de a lâmpada acender quase instantaneamente está relacionado à rapidez com que:

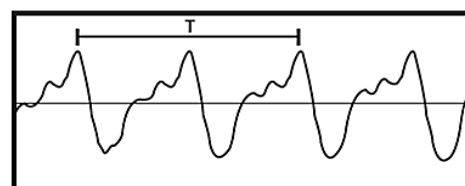
- A) o fluido elétrico se desloca no circuito.
- B) as cargas negativas móveis atravessam o circuito
- C) a bateria libera cargas móveis para o filamento da lâmpada.
- D) o campo elétrico se estabelece em todos os pontos do circuito.
- E) as cargas positivas e negativas se chocam no filamento da lâmpada.

**Questão 141 (2013.1)**

Em um piano, o Dó central e a próxima nota Dó (Dó maior) apresentam sons parecidos, mas não idênticos. É possível utilizar programas computacionais para expressar o formato dessas ondas sonoras em cada uma das situações como apresentado nas figuras, em que estão indicados intervalos de tempo idênticos (T).



Dó central



Dó maior

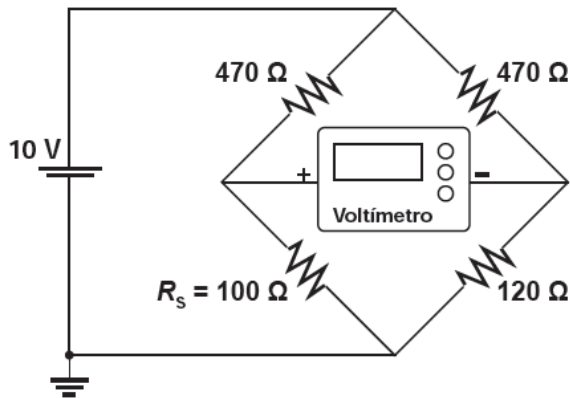


A razão entre as frequências do Dó central e do Dó maior é de:

- A) 1/2
- B) 2
- C) 1
- D) 1/4
- E) 4

**Questão 142 (2013.1)**

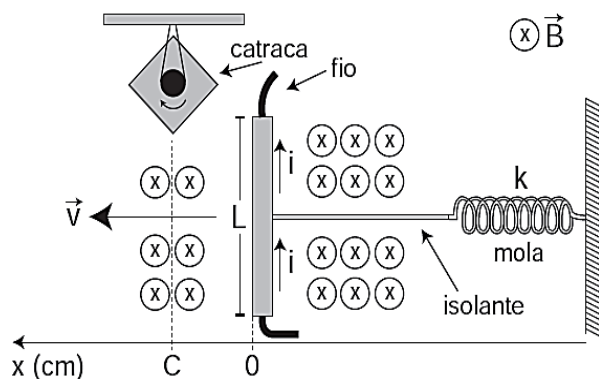
Medir temperatura é fundamental em muitas aplicações, e apresentar a leitura em mostradores digitais é bastante prático. O seu funcionamento é baseado na correspondência entre valores de temperatura e de diferença de potencial elétrico. Por exemplo, podemos usar o circuito elétrico apresentado, no qual o elemento sensor de temperatura ocupa um dos braços do circuito ( $R_S$ ) e a dependência da resistência com a temperatura é conhecida.



Para um valor de temperatura em que  $R_S = 100 \Omega$ , a leitura apresentada pelo voltímetro será de:

- A) + 6,2 V.
- B) + 1,7 V.
- C) + 0,3 V.
- D) - 0,3 V.
- E) - 6,2 V.

**Questão 143 (2013.1)**



Desenvolve-se um dispositivo para abrir automaticamente uma porta no qual um botão, quando acionado, faz com que uma corrente elétrica  $i = 6 \text{ A}$  percorra uma barra condutora de comprimento  $L = 5 \text{ cm}$ , cujo ponto médio está preso a uma mola de constante elástica  $k = 5 \times 10^{-2} \text{ N/cm}$ .

O sistema mola-condutor está imerso em um campo magnético uniforme perpendicular ao plano. Quando acionado o botão, a barra sairá da posição do equilíbrio a uma velocidade média de  $5 \text{ m/s}$  e atingirá a catraca em  $6 \text{ milissegundos}$ , abrindo a porta.

A intensidade do campo magnético, para que o dispositivo funcione corretamente, é de:

- A)  $5 \times 10^{-1} \text{ T}$ .
- B)  $5 \times 10^{-2} \text{ T}$ .
- C)  $5 \times 10^1 \text{ T}$ .
- D)  $2 \times 10^{-2} \text{ T}$ .
- E)  $2 \times 10^0 \text{ T}$ .

**Questão 144 (2013.1)**

Aquecedores solares usados em residências têm o objetivo de elevar a temperatura da água até  $70^\circ\text{C}$ .

No entanto, a temperatura ideal da água para um banho é de  $30^\circ\text{C}$ . Por isso, deve-se misturar a água aquecida com a água à temperatura ambiente de um outro reservatório, que se encontra a  $25^\circ\text{C}$ .

Qual a razão entre a massa de água quente e a massa de água fria na mistura para um banho à temperatura ideal?

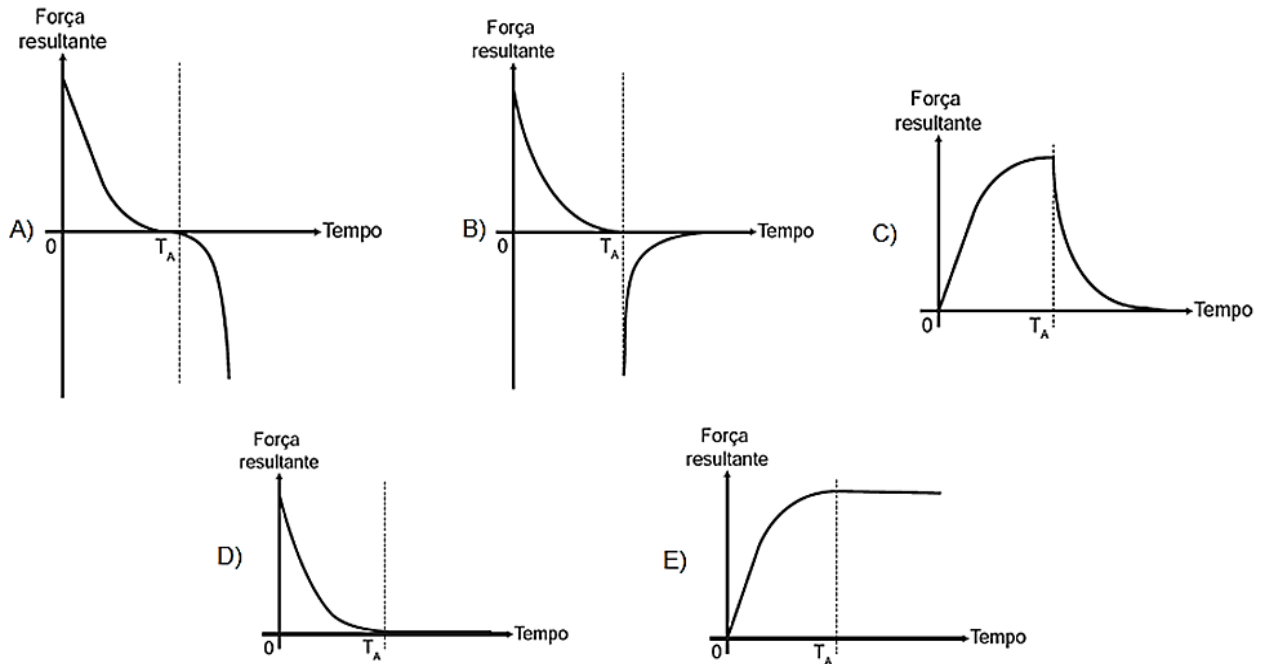
- A) 0,111.
- B) 0,125.
- C) 0,357.
- D) 0,428.
- E) 0,833.

**Questão 145 (2013.1)**

Em um dia sem vento, ao saltar de um avião, um paraquedista cai verticalmente até atingir a velocidade limite. No instante em que o paraquedas é aberto (instante TA), ocorre a diminuição de sua velocidade de queda.

Algum tempo após a abertura do paraquedas, ele passa a ter velocidade de queda constante, que possibilita sua aterrissagem em segurança.

Que gráfico representa a força resultante sobre o paraquedista, durante o seu movimento de queda?



**Questão 146 (2013.2)**

O trem de passageiros da Estrada de Ferro Vitória- Minas (EFVM), que circula diariamente entre a cidade de Cariacica, na Grande Vitória, e a capital mineira Belo Horizonte, está utilizando uma nova tecnologia de frenagem eletrônica.

Com a tecnologia anterior, era preciso iniciar a frenagem cerca de 400 metros antes da estação. Atualmente, essa distância caiu para 250 metros, o que proporciona redução no tempo de viagem.

Considerando uma velocidade de 72 km/h, qual o módulo da diferença entre as acelerações de frenagem depois e antes da adoção dessa tecnologia?

- A) 0,08 m/s<sup>2</sup>
- B) 3,90 m/s<sup>2</sup>
- C) 0,30 m/s<sup>2</sup>
- D) 1,60 m/s<sup>2</sup>
- E) 1,10 m/s<sup>2</sup>

**Questão 147 (2013.2)**

Um grupo de amigos foi passar o fim de semana em um acampamento rural, onde não há eletricidade. Uma pessoa levou um gerador a diesel e outra levou duas lâmpadas, diferentes fios e bocais. Perto do anoitecer, iniciaram a instalação e verificaram que as lâmpadas eram de 60 W – 110 V e o gerador produzia uma tensão de 220 V.

Para que as duas lâmpadas possam funcionar de acordo com suas especificações e o circuito

tenha menor perda possível, a estrutura do circuito elétrico deverá ser de dois bocais ligados em:

- A) paralelo e usar fios de menor espessura.
- B) série e usar fios de máximo comprimento.
- C) paralelo e usar fios de maior espessura.
- D) paralelo e usar fios de máximo comprimento.
- E) série e usar fios de maior espessura.

**Questão 148 (2013.2)**

Conta-se que um curioso incidente aconteceu durante a Primeira Guerra Mundial. Quando voava a uma altitude de dois mil metros, um piloto francês viu o que acreditava ser uma mosca parada perto de sua face. Apanhando-a rapidamente, ficou surpreso ao verificar que se tratava de um projétil alemão.

(PERELMAN, J. Aprenda física brincando. São Paulo: Hemus, 1970)

O piloto consegue apanhar o projétil, pois:

- A) ele foi disparado em direção ao avião francês, freado pelo ar e parou justamente na frente do piloto.
- B) o avião se movia no sentido oposto ao dele, com velocidade de mesmo valor.
- C) ele foi disparado para cima com velocidade constante, no instante em que o avião francês passou.
- D) o avião se movia no mesmo sentido que o dele, com velocidade de mesmo valor.
- E) o avião se movia no mesmo sentido que o dele, com velocidade visivelmente superior.



**Questão 149 (2013.2)**

A palha de aço, um material de baixo custo e vida útil pequena, utilizada para lavar louças, é um emaranhado de fios leves e finos que servem para a remoção por atrito dos resíduos aderidos aos objetos.

A propriedade do aço que justifica o aspecto físico descrito no texto é a:

- A) densidade baixa.
- B) ductilidade.
- C) condutividade elétrica.
- D) condutividade térmica.
- E) maleabilidade.

**Questão 150 (2013.2)**

A banda larga brasileira é lenta. No Japão já existem redes de fibras ópticas, que permitem acessos à internet com velocidade de 1 gigabit por segundo (Gbps), o suficiente para baixar em um minuto, por exemplo, 80 filmes. No Brasil a maioria das conexões ainda é de 1 megabit por segundo (Mbps), ou seja, menos de um milésimo dos acessos mais rápidos do Japão. A fibra óptica é composta basicamente de um material dielétrico (sílica ou plástico), segundo uma estrutura cilíndrica, transparente e flexível. Ela é formada de uma região central envolta por uma camada, também de material dielétrico, com índice de refração diferente ao do núcleo.

A transmissão em uma fibra óptica acontecerá de forma correta se o índice de refração do núcleo, em relação ao revestimento, for:

- A) superior e ocorrer difração.
- B) superior e ocorrer reflexão interna total.
- C) inferior e ocorrer interferência construtiva.
- D) inferior e ocorrer interferência destrutiva.
- E) inferior e ocorrer reflexão interna parcial.

**Questão 151 (2013.2)**

Os densímetros instalados nas bombas de combustível permitem averiguar se a quantidade de água presente no álcool hidratado está dentro das especificações determinadas pela Agência Nacional do Petróleo (ANP). O volume máximo permitido de água no álcool é de 4,9%. A densidade da água e do álcool anidro são de  $1,00 \text{ g/cm}^3$  e  $0,80 \text{ g/cm}^3$ , respectivamente.

A leitura no densímetro que corresponderia à fração máxima permitida de água é mais próxima de:

- A)  $0,99 \text{ g/cm}^3$ .
- B)  $0,81 \text{ g/cm}^3$ .
- C)  $0,20 \text{ g/cm}^3$ .
- D)  $1,80 \text{ g/cm}^3$ .
- E)  $0,90 \text{ g/cm}^3$ .

**Questão 152 (2013.2)**

Retirar a roda de um carro é uma tarefa facilitada por algumas características da ferramenta utilizada, habitualmente denominada chave de roda. As figuras representam alguns modelos de chaves de roda:



Modelo 1



Modelo 2



Modelo 3

Em condições usuais, qual desses modelos permite a retirada da roda com mais facilidade?

- A) 2, em função de o braço da força aplicada ser maior.
- B) 3, em função de o momento da força produzida ser maior.
- C) 1, em função de o momento da força ser menor.
- D) 1, em função da ação de um binário de forças.
- E) 3, em função de o braço da força aplicada poder variar.

**Questão 153 (2013.2)**

Em um violão afinado, quando se toca a corda Lá com seu comprimento efetivo (harmônico fundamental), o som produzido tem frequência de 440 Hz.

Se a mesma corda do violão é comprimida na metade do seu comprimento, a frequência do novo harmônico:

- A) não se modifica, porque é uma característica independente do comprimento da corda que vibra.
- B) dobra, porque o comprimento de onda foi reduzido à metade.
- C) se reduz à metade, porque o comprimento de onda dobrou.



- D) quadruplica, porque o comprimento de onda foi reduzido à quarta parte.  
E) quadruplica, porque o comprimento de onda foi reduzido à metade.

**Questão 154 (2013.2)**



Quais são os processos de propagação de calor relacionados à fala de cada personagem?

- A) Convecção e irradiação.  
B) Convecção e condução.  
C) Irradiação e convecção.  
D) Condução e convecção.  
E) Irradiação e condução.

**Questão 155 (2013.2)**

Um enfeite para berço é constituído de um aro metálico com um ursinho pendurado, que gira com velocidade angular constante. O aro permanece orientado na horizontal, de forma que o movimento do ursinho seja projetado na parede pela sua sombra.

Enquanto o ursinho gira, sua sombra descreve um movimento:

- A) retilíneo uniforme.  
B) circular uniformemente variado.  
C) retilíneo uniformemente variado.  
D) circular uniforme.  
E) retilíneo harmônico simples.

**Questão 156 (2013.2)**

Devido à sua resistência mecânica, baixa condutividade térmica e transparência à luz, o vidro tem sido cada vez mais utilizado na construção civil, aplicado em portas, janelas e telhados.

Sua transparência é importante porque resulta em uma grande economia da energia elétrica usada na iluminação interna do ambiente. Microscopicamente, a transparência ocorre devido à forma com que a luz incidente interage com os elétrons dos átomos que compõem o material vítreo.

A transparência pode ser explicada, considerando-se que a luz:

- A) é absorvida pelos elétrons e reemitida em todas as direções.  
B) é absorvida pelos elétrons e transformada em calor.  
C) é absorvida pelos elétrons e reemitida de volta pela mesma trajetória de onde veio.  
D) não é absorvida pelos elétrons e é espalhada em diversas direções.  
E) não é absorvida pelos elétrons e continua seu caminho em trajetórias regulares.

**Questão 157 (2013.2)**

Visando reduzir a poluição sonora de uma cidade, a Câmara de Vereadores aprovou uma lei que impõe o limite máximo de 40 dB (decibéis) para o nível sonoro permitido após as 22 horas.

Ao aprovar a referida lei, os vereadores estão limitando qual característica da onda?

- A) A velocidade da onda sonora.  
B) A amplitude da onda sonora.  
C) A frequência da onda sonora.  
D) A altura da onda sonora.  
E) O timbre da onda sonora.

**Questão 158 (2013.2)**

Em uma experiência didática, cinco esferas de metal foram presas em um barbante, de forma que a distância entre esferas consecutivas aumentava em progressão aritmética. O barbante foi suspenso e a primeira esfera ficou em contato com o chão. Olhando o barbante de baixo para cima, as distâncias entre as esferas ficavam cada vez maiores. Quando o barbante foi solto, o som das colisões entre duas esferas consecutivas e o solo foi gerado em intervalos de tempo exatamente iguais.

A razão de os intervalos de tempo citados serem iguais é que a:

- A) velocidade de cada esfera é constante.  
B) aceleração de cada esfera aumenta com o tempo.  
C) tensão aplicada em cada esfera aumenta com o tempo.  
D) força resultante em cada esfera é constante.  
E) energia mecânica de cada esfera aumenta com o tempo.



**Questão 159 (2013.2)**

É comum nos referirmos a dias quentes como dias “de calor”. Muitas vezes ouvimos expressões como “hoje está calor” ou “hoje o calor está muito forte” quando a temperatura ambiente está alta.

No contexto científico, é correto o significado de “calor” usado nessas expressões?

- A) Não, pois calor é a quantidade de energia térmica contida em um corpo.
- B) Não, pois calor é energia térmica em trânsito.
- C) Não, pois o calor é diretamente proporcional à temperatura, mas são conceitos diferentes.
- D) Sim, pois calor é sinônimo de alta temperatura.
- E) Sim, pois o calor de um corpo depende de sua temperatura.

**Questão 160 (2013.2)**

Antes das lombadas eletrônicas, eram pintadas faixas nas ruas para controle da velocidade dos automóveis. A velocidade era estimada com o uso de binóculos e cronômetros. O policial utilizava a relação entre a distância percorrida e o tempo gasto, para determinar a velocidade de um veículo. Cronometrava-se o tempo que um veículo levava para percorrer a distância entre duas faixas fixas, cuja distância era conhecida. A lombada eletrônica é um sistema muito preciso, porque a tecnologia elimina erros do operador. A distância entre os sensores é de 2 metros, e o tempo é medido por um circuito eletrônico.

O tempo mínimo, em segundos, que o motorista deve gastar para passar pela lombada eletrônica, cujo limite é de 40 km/h, sem receber uma multa, é de:

- A) 0,50.
- B) 0,05.
- C) 11,1.
- D) 0,18.
- E) 22,2.

**Questão 161 (2013.2)**

As moléculas de água são dipolos elétricos que podem se alinhar com o campo elétrico, da mesma forma que uma bússola se alinha com um campo magnético. Quando o campo elétrico oscila, as moléculas de água fazem o mesmo. No forno de micro-ondas, a frequência de oscilação do campo elétrico é igual à frequência natural de rotação das moléculas de água. Assim, a comida é cozida quando o movimento giratório das moléculas de água transfere a energia térmica às moléculas circundantes.

A propriedade das ondas que permite, nesse caso, um aumento da energia de rotação das moléculas de água é a

- A) refração.
- B) superposição.
- C) difração.
- D) reflexão.
- E) ressonância.

**Questão 162 (2013.2)**

Quando a luz branca incide em uma superfície metálica, são removidos elétrons desse material. Esse efeito é utilizado no acendimento automático das luzes nos postes de iluminação, na abertura automática das portas, no fotômetro fotográfico e em sistemas de alarme.

Esse efeito pode ser usado para fazer a transformação de energia:

- A) nuclear para cinética.
- B) elétrica para radiante.
- C) radiante para cinética.
- D) térmica para química.
- E) potencial para cinética.

**Questão 163 (2014.1)**

Christiaan Huygens, em 1656, criou o relógio de pêndulo. Nesse dispositivo, a pontualidade baseia-se na regularidade das pequenas oscilações do pêndulo. Para manter a precisão desse relógio, diversos problemas foram contornados. Por exemplo, a haste passou por ajustes até que, no início do século XX, houve uma inovação, que foi sua fabricação usando uma liga metálica que se comporta regularmente em um largo intervalo de temperaturas.

(YODER. J. G. Unrolling Time: Christiaan Huygens and the mathematization of nature. Cambridge: Cambridge University Press, 2004 - adaptado)

Desprezando a presença de forças dissipativas e considerando a aceleração da gravidade constante, para que esse tipo de relógio realize corretamente a contagem do tempo, é necessário que o(a):

- A) comprimento da haste seja mantido constante.
- B) massa do corpo suspenso pela haste seja pequena.
- C) material da haste possua alta condutividade térmica.
- D) amplitude da oscilação seja constante a qualquer temperatura.
- E) energia potencial gravitacional do corpo suspenso se mantenha constante.



**Questão 164 (2014.1)**

É comum aos fotógrafos tirar fotos coloridas em ambientes iluminados por lâmpadas fluorescentes, que contêm uma forte composição de luz verde.

A consequência desse fato na fotografia é que todos os objetos claros, principalmente os brancos, aparecerão esverdeados. Para equilibrar as cores, deve-se usar um filtro adequado para diminuir a intensidade da luz verde que chega aos sensores da câmera fotográfica. Na escolha desse filtro, utiliza-se o conhecimento da composição das cores-luz primárias: vermelho, verde e azul; e das cores luz secundárias: amarelo = vermelho + verde, ciano = verde + azul e magenta = vermelho + azul.

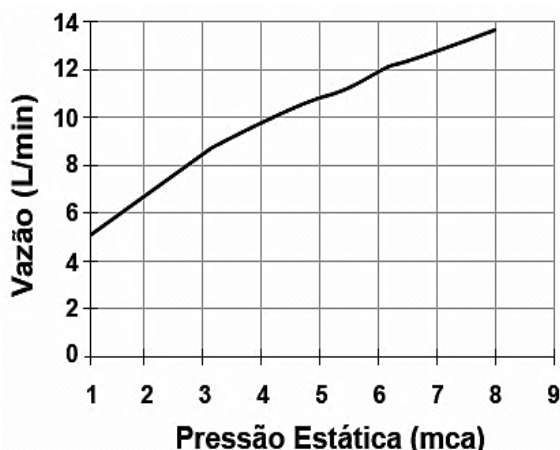
(Disponível em: <http://nautilus.fis.uc.pt>.  
Acesso em: 20 maio 2014 - adaptado)

Na situação descrita, qual deve ser o filtro utilizado para que a fotografia apresente as cores naturais dos objetos?

- A) Ciano.
- B) Verde.
- C) Amarelo.
- D) Magenta.
- E) Vermelho.

**Questão 165 (2014.1)**

Uma pessoa, lendo o manual de uma ducha que acabou de adquirir para a sua casa, observa o gráfico, que relaciona a vazão na ducha com a pressão, medida em metros de coluna de água (mca).



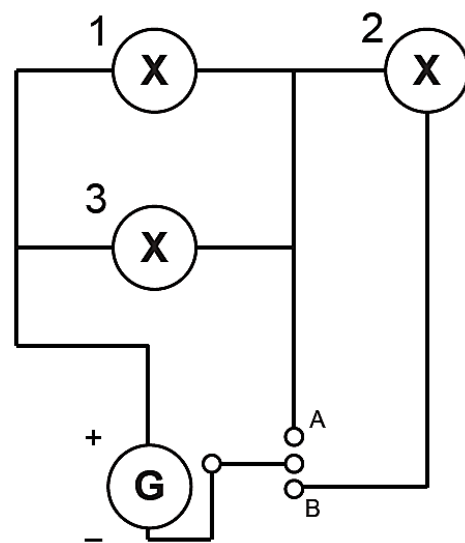
Nessa casa residem quatro pessoas. Cada uma delas toma um banho por dia, com duração média de 8 minutos, permanecendo o registro aberto com vazão máxima durante esse tempo. A ducha é instalada em um ponto seis metros abaixo do nível da lâmina de água, que se mantém constante dentro do reservatório.

Ao final de 30 dias, esses banhos consumirão um volume de água, em litros, igual a:

- A) 69120.
- B) 17280.
- C) 11520.
- D) 8640.
- E) 2880.

**Questão 166 (2014.1)**

Um sistema de iluminação foi construído com um circuito de três lâmpadas iguais conectadas a um gerador (G) de tensão constante. Esse gerador possui uma chave que pode ser ligada nas posições A ou B.

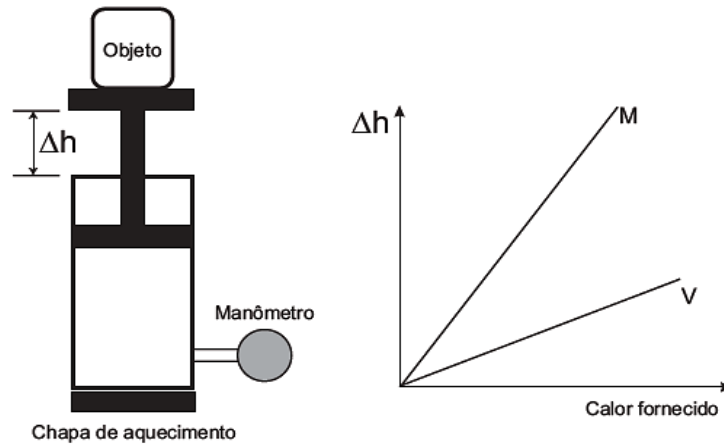


Considerando o funcionamento do circuito dado, a lâmpada 1 brilhará mais quando a chave estiver na posição:

- A) B, pois a corrente será maior nesse caso.
- B) B, pois a potência total será maior nesse caso.
- C) A, pois a resistência equivalente será menor nesse caso.
- D) B, pois o gerador fornecerá uma maior tensão nesse caso.
- E) A, pois a potência dissipada pelo gerador será menor nesse caso.

**Questão 167 (2014.1)**

Um sistema de pistão contendo um gás é mostrado na figura. Sobre a extremidade superior do êmbolo, que pode movimentar-se livremente sem atrito, encontra-se um objeto. Através de uma chapa de aquecimento é possível fornecer calor ao gás e, com auxílio de um manômetro, medir sua pressão. A partir de diferentes valores de calor fornecido, considerando o sistema como hermético, o objeto elevou-se em valores  $\Delta h$ , como mostrado no gráfico.

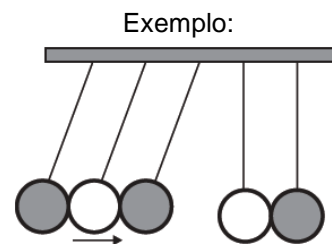


Foram estudadas, separadamente, quantidades equimolares de dois diferentes gases, denominados M e V. A diferença no comportamento dos gases no experimento decorre do fato de o gás M, em relação ao V, apresentar:

- A) maior pressão de vapor.
- B) menor massa molecular.
- C) maior compressibilidade.
- D) menor energia de ativação.
- E) menor capacidade calorífica.

**Questão 168 (2014.1)**

O pêndulo de Newton pode ser constituído por cinco pêndulos idênticos suspensos em um mesmo suporte. Em um dado instante, as esferas de três pêndulos são deslocadas para a esquerda e liberadas, deslocando-se para a direita e colidindo elasticamente com as outras duas esferas, que inicialmente estavam paradas.



O movimento dos pêndulos após a primeira colisão está representado em:

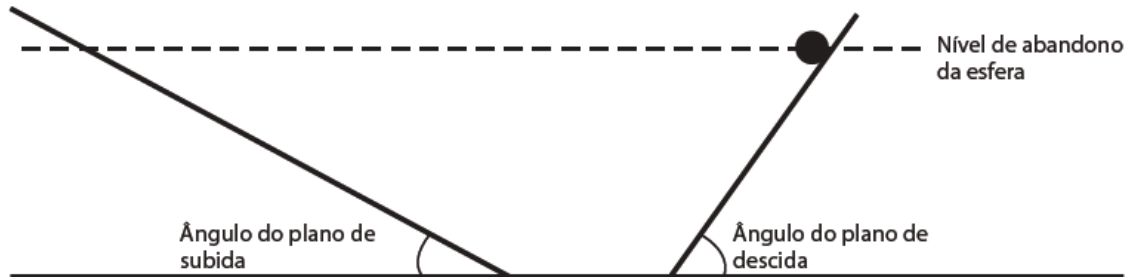
- A)
- B)
- C)
- D)
- E)





**Questão 169 (2014.1)**

Para entender os movimentos dos corpos, Galileu discutiu o movimento de uma esfera de metal em dois planos inclinados sem atritos e com a possibilidade de se alterarem os ângulos de inclinação, conforme mostra a figura. Na descrição do experimento, quando a esfera de metal é abandonada para descer um plano inclinado de um determinado nível, ela sempre atinge, no plano ascendente, no máximo, um nível igual àquele em que foi abandonada.



Se o ângulo de inclinação do plano de subida for reduzido a zero, a esfera:

- A) manterá sua velocidade constante, pois o impulso resultante sobre ela será nulo.
- B) manterá sua velocidade constante, pois o impulso da descida continuará a empurrá-la.
- C) diminuirá gradativamente a sua velocidade, pois não haverá mais impulso para empurrá-la.
- D) diminuirá gradativamente a sua velocidade, pois o impulso resultante será contrário ao seu movimento.
- E) aumentará gradativamente a sua velocidade, pois não haverá nenhum impulso contrário ao seu movimento.

**Questão 170 (2014.1)**

A elevação da temperatura das águas de rios, lagos e mares diminui a solubilidade do oxigênio, pondo em risco as diversas formas de vida aquática que dependem desse gás. Se essa elevação de temperatura acontece por meios artificiais, dizemos que existe poluição térmica. As usinas nucleares, pela própria natureza do processo de geração de energia, podem causar esse tipo de poluição.

Que parte do ciclo de geração de energia das usinas nucleares está associada a esse tipo de poluição?

- A) Fissão do material radioativo.
- B) Condensação do vapor-d'água no final do processo.
- C) Conversão de energia das turbinas pelos geradores.
- D) Aquecimento da água líquida para gerar vapor-d'água.
- E) Lançamento do vapor-d'água sobre as pás das turbinas.

**Questão 171 (2014.1)**

Uma proposta de dispositivo capaz de indicar a qualidade da gasolina vendida em postos e, conseqüentemente, evitar fraudes, poderia utilizar o conceito de refração luminosa. Nesse sentido, a gasolina não adulterada, na temperatura ambiente, apresenta razão entre os senos dos raios incidente e refratado igual a 1,4. Desse modo, fazendo incidir o feixe de luz proveni-

ente do ar com um ângulo fixo e maior que zero, qualquer modificação no ângulo do feixe refratado indicará adulteração no combustível.

Em uma fiscalização rotineira, o teste apresentou o valor de 1,9. Qual foi o comportamento do raio refratado?

- A) Mudou de sentido.
- B) Sofreu reflexão total.
- C) Atingiu o valor do ângulo limite.
- D) Direcionou-se para a superfície de separação.
- E) Aproximou-se da normal à superfície de separação.

**Questão 172 (2014.1)**

Alguns sistemas de segurança incluem detectores de movimento. Nesses sensores, existe uma substância que se polariza na presença de radiação eletromagnética de certa região de frequência, gerando uma tensão que pode ser amplificada e empregada para efeito de controle. Quando uma pessoa se aproxima do sistema, a radiação emitida por seu corpo é detectada por esse tipo de sensor.

A radiação captada por esse detector encontra-se na região de frequência:

- A) da luz visível.
- B) do ultravioleta.
- C) do infravermelho.
- D) das micro-ondas.
- E) das ondas longas de rádio.



**Questão 173 (2014.1)**

Um professor utiliza essa história em quadri-nhos para discutir com os estudantes o movimento de satélites. Nesse sentido, pede a eles que analisem o movimento do coelho, considerando o módulo da velocidade constante.

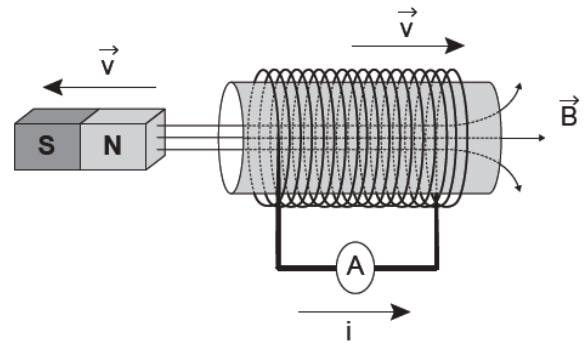


Desprezando a existência de forças dissipativas, o vetor aceleração tangencial do coelho, no terceiro quadrinho, é:

- A) nulo.
- B) paralelo à sua velocidade linear e no mesmo sentido.
- C) paralelo à sua velocidade linear e no sentido oposto.
- D) perpendicular à sua velocidade linear e dirigido para o centro da Terra.
- E) perpendicular à sua velocidade linear e dirigido para fora da superfície da Terra.

**Questão 174 (2014.1)**

O funcionamento dos geradores de usinas elétricas baseia-se no fenômeno da indução eletromagnética, descoberto por Michael Faraday no século XIX. Pode-se observar esse fenômeno ao se movimentar um ímã e uma espira em sentidos opostos com módulo da velocidade igual a  $v$ , induzindo uma corrente elétrica de intensidade  $i$ , como ilustrado na figura.



A fim de se obter uma corrente com o mesmo sentido da apresentada na figura, utilizando os mesmos materiais, outra possibilidade é mover a espira para a:

- A) a esquerda e o ímã para a direita com polaridade invertida.
- B) direita e o ímã para a esquerda com polaridade invertida.
- C) esquerda e o ímã para a esquerda com mesma polaridade.
- D) direita e manter o ímã em repouso com polaridade invertida.
- E) esquerda e manter o ímã em repouso com mesma polaridade.

**Questão 175 (2014.1)**

Ao sintonizarmos uma estação de rádio ou um canal de TV em um aparelho, estamos alterando algumas características elétricas de seu circuito receptor. Das inúmeras ondas eletromagnéticas que chegam simultaneamente ao receptor, somente aquelas que oscilam com determinada frequência resultarão em máxima absorção de energia.

O fenômeno descrito é a:

- A) difração.
- B) refração.
- C) polarização.
- D) interferência.
- E) ressonância.

**Questão 176 (2014.1)**

Quando adolescente, as nossas tardes, após as aulas, consistiam em tomar às mãos o violão e o dicionário de acordes de Almir Chediak e desafiar nosso amigo Hamilton a descobrir, apenas ouvindo o acorde, quais notas eram escolhidas. Sempre perdíamos a aposta, ele possui o ouvido absoluto.

O ouvido absoluto é uma característica perceptual de poucos indivíduos capazes de identificar notas isoladas sem outras referências, isto é, sem precisar relacioná-las com outras notas de uma melodia.



No contexto apresentado, a propriedade física das ondas que permite essa distinção entre as notas é a:

- A) frequência.
- B) intensidade.
- C) forma da onda.
- D) amplitude da onda.
- E) velocidade de propagação.

**Questão 177 (2014.1)**

As lentes fotocromáticas escurecem quando expostas à luz solar por causa de reações químicas reversíveis entre uma espécie incolor e outra colorida. Diversas reações podem ser utilizadas, e a escolha do melhor reagente para esse fim se baseia em três principais aspectos: (i) o quanto escurece a lente; (ii) o tempo de escurecimento quando exposta à luz solar; e (iii) o tempo de esmaecimento em ambiente sem forte luz solar. A transmitância indica a razão entre a quantidade de luz que atravessa o meio e a quantidade de luz que incide sobre ele.

Durante um teste de controle para o desenvolvimento de novas lentes fotocromáticas, foram analisadas cinco amostras, que utilizam reagentes químicos diferentes. No quadro, são apresentados os resultados.

Amostra	Tempo de escurecimento (segundo)	Tempo de esmaecimento (segundo)	Transmitância média da lente quando exposta à luz solar (%)
1	20	50	80
2	40	30	90
3	20	30	50
4	50	50	50
5	40	20	95

Considerando os três aspectos, qual é a melhor amostra de lente fotocromática para se utilizar em óculos?

- A) 1
- B) 2
- C) 3
- D) 4
- E) 5

**Questão 178 (2014.2)**

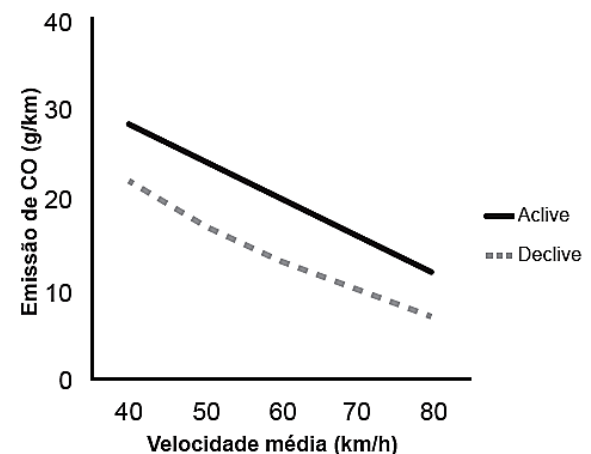
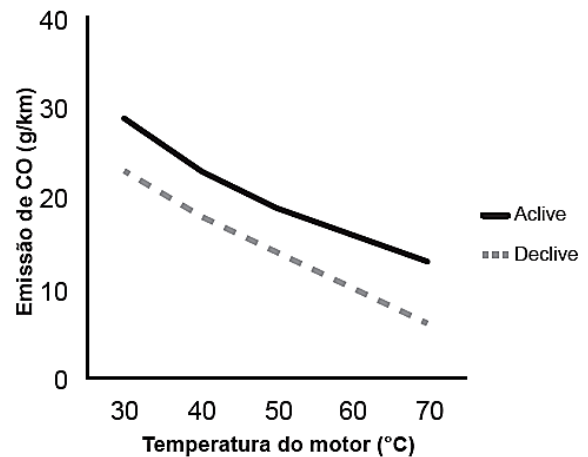
As miragens existem e podem induzir à percepção de que há água onde não existe. Elas são a manifestação de um fenômeno óptico que ocorre na atmosfera.

Esse fenômeno óptico é consequência da:

- A) refração da luz nas camadas de ar próximas do chão quente.
- B) reflexão da luz ao incidir no solo quente.
- C) reflexão difusa da luz na superfície rugosa.
- D) dispersão da luz nas camadas de ar próximas do chão quente.
- E) difração da luz nas camadas de ar próximas do chão quente.

**Questão 179 (2014.2)**

Um pesquisador avaliou o efeito da temperatura do motor (em velocidade constante) e da velocidade média de um veículo (com temperatura do motor constante) sobre a emissão de monóxido de carbono (CO) em dois tipos de percurso, aclive e declive, com iguais distâncias percorridas em linha reta. Os resultados são apresentados nas duas figuras.



A partir dos resultados, a situação em que ocorre maior emissão de poluentes é aquela na qual o percurso é feito com o motor:

- A) aquecido, em menores velocidades médias e em pista em declive.
- B) aquecido, em maiores velocidades médias e em pista em aclive.
- C) frio, em menores velocidades médias e em pista em declive.




- D) frio, em menores velocidades médias e em pista em active.  
E) frio, em maiores velocidades médias e em pista em active.

**Questão 180 (2014.2)**

Em museus de ciências, é comum encontrarem-se máquinas que eletrizam materiais e geram intensas descargas elétricas. O gerador de Van de Graaff (Figura 1) é um exemplo, como atestam as faíscas (Figura 2) que ele produz. O experimento fica mais interessante quando se aproxima do gerador em funcionamento, com a mão, uma lâmpada fluorescente (Figura 3).

Quando a descarga atinge a lâmpada, mesmo desconectada da rede elétrica, ela brilha por breves instantes. Muitas pessoas pensam que é o fato de a descarga atingir a lâmpada que a faz brilhar. Contudo, se a lâmpada for aproximada dos corpos da situação (Figura 2), no momento em que a descarga ocorrer entre eles, a lâmpada também brilhará, apesar de não receber nenhuma descarga elétrica.



A grandeza física associada ao brilho instantâneo da lâmpada fluorescente, por estar próxima a uma descarga elétrica, é o(a):

- A) carga elétrica.  
B) campo elétrico.  
C) corrente elétrica.  
D) capacitância elétrica.  
E) condutividade elétrica.

**Questão 181 (2014.2)**

O sonar é um equipamento eletrônico que permite a localização de objetos e a medida de distâncias no fundo do mar, pela emissão de sinais sônicos e ultrassônicos e a recepção dos respectivos ecos.

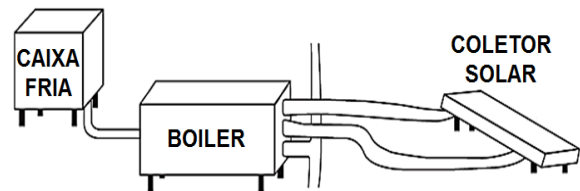
O fenômeno do eco corresponde à reflexão de uma onda sonora por um objeto, a qual volta ao receptor pouco tempo depois de o som ser emitido. No caso do ser humano, o ouvido é capaz de distinguir sons separados por, no mínimo, 0,1 segundo.

Considerando uma condição em que a velocidade do som no ar é 340m/s, qual é a distância mínima a que uma pessoa deve estar de um anteparo refletor para que se possa distinguir o eco do som emitido?

- A) 17m  
B) 34m  
C) 68m  
D) 1700m  
E) 3400m

**Questão 182 (2014.2)**

Um engenheiro decidiu instalar um aquecedor solar em sua casa, conforme mostra o esquema.



De acordo com as instruções de montagem, para se ter um aproveitamento máximo da incidência solar, as placas do coletor solar devem ser instaladas com um ângulo de inclinação determinado.

O parâmetro que define o valor do ângulo de inclinação dessas placas coletoras é a

- A) altitude.  
B) latitude.  
C) longitude.  
D) nebulosidade.  
E) umidade relativa do ar.

**Questão 183 (2014.2)**

Para a proteção contra curtos-circuitos em residências são utilizados disjuntores, compostos por duas lâminas de metais diferentes, com suas superfícies soldadas uma à outra, ou seja, uma lâmina bimetálica. Essa lâmina toca o contato elétrico, fechando o circuito e deixando a corrente elétrica passar.

Quando da passagem de uma corrente superior à estipulada (limite), a lâmina se curva para um dos lados, afastando-se do contato elétrico e, assim, interrompendo o circuito. Isso ocorre porque os metais da lâmina possuem uma característica física cuja resposta é diferente para a mesma corrente elétrica que passa no circuito.

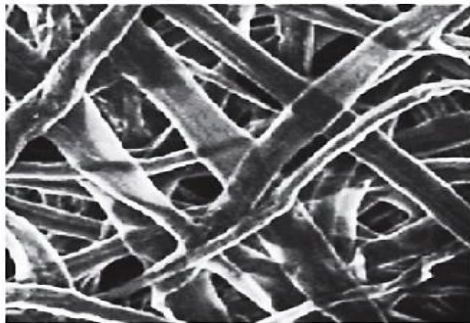
A característica física que deve ser observada para a escolha dos dois metais dessa lâmina bimetálica é o coeficiente de:



- A) dureza.
- B) elasticidade.
- C) dilatação térmica.
- D) compressibilidade.
- E) condutividade elétrica.

**Questão 184 (2014.2)**

Folhas de papel, como as utilizadas para a impressão de documentos, são opacas e permeáveis aos líquidos. Esse material é constituído de microfibras entrelaçadas de celulose, que são transparentes à luz. Quando sobre elas se derrama glicerina, elas se tornam translúcidas. Uma imagem da superfície de uma folha de papel, ampliada por um microscópio eletrônico de varredura, pode ser vista na figura. No quadro é apresentada a razão ( $n$ ) entre a velocidade da luz no vácuo e no respectivo material (celulose, glicerina ou ar).



Material	$n$
celulose	1,46
glicerina	1,47
ar	1,00

Nessa situação, o papel se tornou translúcido porque a luz é:

- A) mais refletida.
- B) mais absorvida.
- C) mais espalhada.
- D) menos refratada.
- E) menos transmitida.

**Questão 185 (2014.2)**

Ao assistir a uma apresentação musical, um músico que estava na plateia percebeu que conseguia ouvir quase perfeitamente o som da banda, perdendo um pouco de nitidez nas notas mais agudas. Ele verificou que havia muitas pessoas bem mais altas à sua frente, bloqueando a visão direta do palco e o acesso aos alto-falantes. Sabe-se que a velocidade do som no ar é 340m/s e que a região de frequências das notas emitidas é de, aproximadamente, 20Hz a 4000Hz.

Qual fenômeno ondulatório é o principal responsável para que o músico percebesse essa diferenciação do som?

- A) Difração.
- B) Reflexão.
- C) Refração.
- D) Atenuação.
- E) Interferência.

**Questão 186 (2014.2)**

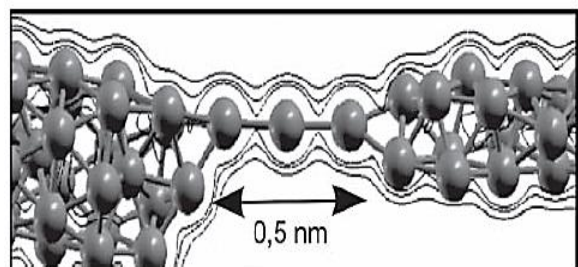
Na Antiguidade, algumas pessoas acreditavam que, no lançamento oblíquo de um objeto, a resultante das forças que atuavam sobre ele tinha o mesmo sentido da velocidade em todos os instantes do movimento. Isso não está de acordo com as interpretações científicas atualmente utilizadas para explicar esse fenômeno.

Desprezando a resistência do ar, qual é a direção e o sentido do vetor força resultante que atua sobre o objeto no ponto mais alto da trajetória?

- A) Indefinido, pois ele é nulo, assim como a velocidade vertical nesse ponto.
- B) Vertical para baixo, pois somente o peso está presente durante o movimento.
- C) Horizontal no sentido do movimento, pois devido à inércia o objeto mantém seu movimento.
- D) Inclinado na direção do lançamento, pois a força inicial que atua sobre o objeto é constante.
- E) Inclinado para baixo e no sentido do movimento, pois aponta para o ponto onde o objeto cairá.

**Questão 187 (2014.2)**

Recentemente foram obtidos os fios de cobre mais finos possíveis, contendo apenas um átomo de espessura, que podem, futuramente, ser utilizados em microprocessadores. O chamado nanofio, representado na figura, pode ser aproximado por um pequeno cilindro de comprimento 0,5nm ( $1\text{nm} \cdot 10^{-9}\text{m}$ ). A seção reta de um átomo de cobre é  $0,05\text{nm}^2$  e a resistividade do cobre é  $17 \Omega \cdot \text{nm}$ . Um engenheiro precisa estimar se seria possível introduzir esses nanofios nos microprocessadores atuais.





Um nanofio utilizando as aproximações propostas possui resistência elétrica de:

- A) 170 nΩ
- B) 0,17nΩ
- C) 1,7 Ω
- D) 17 Ω
- E) 170 Ω

**Questão 188 (2014.2)**

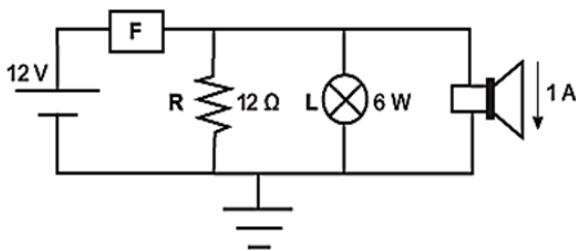
Os manuais dos fornos micro-ondas desaconselham, sob pena de perda da garantia, que eles sejam ligados em paralelo juntamente a outros aparelhos eletrodomésticos por meio de tomadas múltiplas, popularmente conhecidas como “benjamins” ou “tês”, devido ao alto risco de incêndio e derretimento dessas tomadas, bem como daquelas dos próprios aparelhos.

Os riscos citados são decorrentes da:

- A) resistividade da conexão, que diminui devido à variação de temperatura do circuito.
- B) corrente elétrica superior ao máximo que a tomada múltipla pode suportar.
- C) resistência elétrica elevada na conexão simultânea de aparelhos eletrodomésticos.
- D) tensão insuficiente para manter todos os aparelhos eletrodomésticos em funcionamento.
- E) intensidade do campo elétrico elevada, que causa o rompimento da rigidez dielétrica da tomada múltipla.

**Questão 189 (2014.2)**

Fusíveis são dispositivos de proteção de um circuito elétrico, sensíveis ao excesso de corrente elétrica. Os modelos mais simples consistem de um filamento metálico de baixo ponto de fusão, que se funde quando a corrente ultrapassa determinado valor, evitando que as demais partes do circuito sejam danificadas. A figura mostra um diagrama de um circuito em que o fusível **F** protege um resistor **R** de 12Ω, uma lâmpada **L** de 6W e um alto-falante que conduz 1A.



Sabendo que esse fusível foi projetado para trabalhar com uma corrente até 20% maior que a corrente nominal que atravessa esse circuito, qual é o valor, em ampères, da corrente máxima que o fusível **F** permite passar?

- A) 1,0
- B) 1,5
- C) 2,0
- D) 2,5
- E) 3,0

**Questão 190 (2014.2)**

Durante um reparo na estação espacial internacional, um cosmonauta, de massa 90kg, substituiu uma bomba do sistema de refrigeração, de massa 360kg, que estava danificada. Inicialmente, o cosmonauta e a bomba estão em repouso em relação à estação. Quando ele empurra a bomba para o espaço, ele é empurrado no sentido oposto. Nesse processo, a bomba adquire uma velocidade de 0,2m/s em relação à estação.

Qual é o valor da velocidade escalar adquirida pelo cosmonauta, em relação à estação, após o empurrão?

- A) 0,05m/s
- B) 0,20m/s
- C) 0,40m/s
- D) 0,50m/s
- E) 0,80m/s

**Questão 191 (2014.3)**

As cercas elétricas instaladas nas zonas urbanas são dispositivos de segurança planejados para inibir roubos e devem ser projetadas para, no máximo, assustar as pessoas que toquem a fiação que delimita os domínios de uma propriedade.

A legislação vigente que trata sobre as cercas elétricas determina que a unidade de controle debara ser constituída, no mínimo, de um aparelho energizador de cercas que apresente um transformador e um capacitor. Ela também menciona que o tipo de corrente elétrica deve ser pulsante.

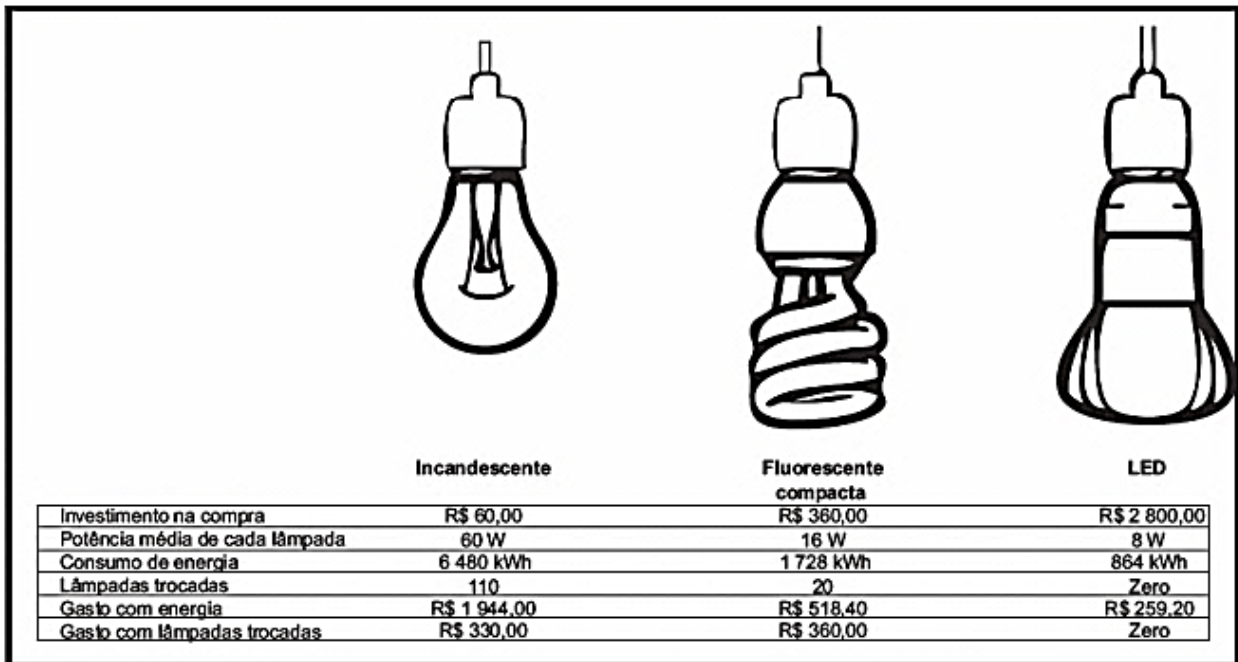
Considere que o transformador supracitado seja constituído de basicamente por um enrolamento primário e outro secundário, e que este último está ligado indiretamente à fiação. A função do transformador em uma cerca elétrica é:

- A) reduzir a intensidade de corrente elétrica associada ao secundário.
- B) aumentar a potência elétrica associada ao secundário.
- C) amplificar a energia elétrica associada a este dispositivo.
- D) proporcionar perdas de energia do primário ao secundário.
- E) provocar grande perda de potência elétrica no secundário.



**Questão 192 (2014.2)**

A figura apresenta a comparação dos gastos de três tipos de lâmpadas residenciais de mesmo brilho, durante cinco anos. Considera-se a utilização média de vinte pontos de luz, utilizando em média dez lâmpadas acesas durante 6 horas ao custo de R\$0,30, para cada 1kWh consumido.



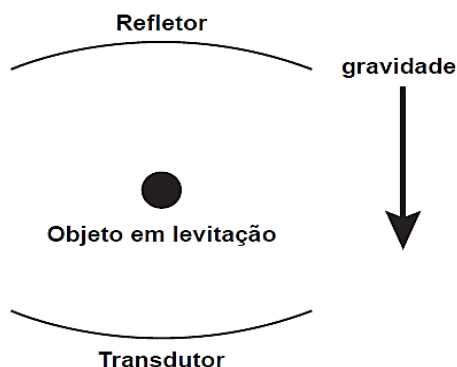
Ano-base = 360 dias

Com base nas informações, a lâmpada energeticamente mais eficiente, a mais viável economicamente e a de maior vida útil são, respectivamente:

- A) fluorescente compacta, LED, LED.
- B) LED, fluorescente compacta, LED.
- C) fluorescente compacta, incandescente, LED.
- D) LED, incandescente, fluorescente compacta.
- E) fluorescente compacta, fluorescente compacta, LED.

**Questão 193 (2014.3)**

O fenômeno da levitação de corpos ocorre, na Terra, quando a força gravitacional a equilibra, fazendo com que um objeto paira no ar. O som pode fazer objetos levitarem, fenômeno chamado de levitação acústica. Um levitador acústico deve conter um transdutor, que uma superfície vibratória que emite o som, e um refletor. Ambos têm superfícies côncavas para focalizar o som, conforme a ilustração:




Para que haja a levitação indicada na figura, a força que equilibra o peso do objeto deve ser decorrente da:

- A) ação mecânica direta do transdutor sobre o objeto.
- B) ressonância que ocorre entre a onda sonora e o objeto.
- C) pressão que o som emitido pelo transdutor aplica no objeto.
- D) interferência destrutiva do som que anula o movimento do objeto.
- E) diferença de pressão dos sons emitido e refletido aplicada no objeto.

**Questão 194 (2014.3)**

A ilustração a seguir representa uma das mais conhecidas obras do artista gráfico holandês M. C. Escher.

Seu trabalho tem como características as figuras geométricas e ilusões de Óptica.



Pelas características da imagem formada na gravura, o artista representou um espelho esférico do tipo:

- A) convexo, pois as imagens de todos os objetos, formadas na esfera, inclusive a do artista, são virtuais.
- B) côncavo, pois as imagens são direitas, indicando que todos os objetos visualizados estão entre o foco e o espelho.
- C) côncavo, devido ao pequeno campo de visão, não é possível observar todos os detalhes do local onde se encontra o artista.
- D) convexo, pois as imagens são formadas pelo cruzamento dos raios de luz refletidos pela esfera, por isso as imagens são direitas e não invertidas.
- E) côncavo, devido as imagens formadas por este espelho serem todas reais, ou seja, formadas pelo cruzamento dos raios de luz refletidos pela esfera.

#### Questão 195 (2014.3)

No território brasileiro, existem períodos do ano que apresentam queda na umidade do ar, fazendo com que o ar fique bastante seco. Nessa época, é comum observar que as pessoas, ao saírem do carro e tocarem a maçaneta da porta, levam pequenos choques elétricos. Além disso, pessoas que ficam muito tempo em contato com aparelhos eletrodomésticos, ou que dormem com roupas feitas de determinados materiais, como a seda, ao tocarem objetos metálicos, também sentem as descargas elétricas, ou seja, levam um choque elétrico.

O corpo humano sofre com esse fenômeno de descarga elétrica, comportando-se como um condutor, pois:

- A) oferece resistência nula ao movimento da quantidade líquida de carga através do corpo.
- B) permite que uma quantidade líquida de carga se desloque com facilidade através do corpo.
- C) permite que uma quantidade líquida de carga se desloque com dificuldade através do corpo.
- D) reduz o deslocamento da quantidade líquida de carga em função do aumento da diferença de potencial.
- E) alterna a capacidade de deslocamento da quantidade líquida de carga no corpo, facilitando ou dificultando o fenômeno.

#### Questão 196 (2014.3)

O governo brasileiro, após análise das características físicas do local, incluindo sismologia, meteorologia, geologia e hidrologia, decidiu construir a usina termonuclear em Angra dos Reis, no Rio de Janeiro.

A escolha desse local foi questionada por parte da sociedade civil, sob a alegação de que essa cidade é um paraíso turístico, próxima de áreas densamente habitadas. Temendo a probabilidade de ocorrer um grave acidente, os defensores propuseram que essa usina fosse instalada em regiões desabitadas, como o Sertão nordestino.

(Disponível em: [www.cnen.gov.br](http://www.cnen.gov.br).  
Acesso em: 4 ago. 2012)

A característica que impede que essa usina seja instalada no local proposto pela sociedade civil é o(a):

- A) pequena estabilidade do solo.
- B) baixo Índice pluviométrico anual.
- C) ausência de grandes volumes de água.
- D) baixa movimentação das massas de ar.
- E) elevação da temperatura ao longo do ano.

#### Questão 197 (2014.3)

As máquinas térmicas foram aprimoradas durante a primeira Revolução Industrial, iniciada na Inglaterra no século XVIII. O trabalho do engenheiro Frances Nicolas Léonard Sadi Carnot, que notou a relação entre a eficiência da máquina a vapor e a diferença de temperatura entre o vapor e o ambiente externo, foi fundamental para esse aprimoramento.

A solução desenvolvida por Carnot para aumentar a eficiência da máquina a vapor foi:

- A) reduzir o volume do recipiente sob pressão constante.





- B) aumentar o volume do recipiente e reduzir a pressão proporcionalmente.  
C) reduzir o volume do recipiente e a pressão proporcionalmente.  
D) reduzir a pressão dentro do recipiente e manter seu volume.  
E) aumentar a pressão dentro do recipiente e manter seu volume.

---

**Questão 198 (2014.3)**

Uma pessoa quer instalar uma iluminação decorativa para as festas de final de ano. Para isso, ela adquire um conjunto de 44 lâmpadas ligadas em série. Na sua residência a tensão da rede elétrica é de 220 V e a tomada utilizada pode fornecer o máximo de 4 A de intensidade de corrente.

Quais as especificações das lâmpadas que devem ser utilizadas para obter o máximo de potência na iluminação?

- A) 5 V e 4 W  
B) 5 V e 20 W  
C) 55 V e 4 W  
D) 220 V e 20 W  
E) 220 V e 880 W

---

**Questão 199 (2014.3)**

Uma criança está em um carrossel em um parque de diversões. Este brinquedo descreve um movimento circular com intervalo de tempo regular.

A força resultante que atua sobre a criança:

- A) é nula.  
B) é oblíqua à velocidade do carrossel.  
C) paralela à velocidade do carrossel.  
D) está direcionada para fora do brinquedo.  
E) está direcionada para o centro do brinquedo.

---

**Questão 200 (2014.3)**

Um tipo de radar utilizado para medir a velocidade de um carro baseia-se no efeito Doppler. Nesse caso, as ondas eletromagnéticas são enviadas pelo radar e refletem no veículo em movimento e, posteriormente, são detectadas de volta pelo radar.

Um carro movendo-se em direção ao radar reflete ondas com:

- A) altura menor.  
B) amplitude menor.  
C) frequência maior.  
D) intensidade maior.  
E) velocidade maior.

**Questão 201 (2014.3)**

O tratamento convencional da água, quando há, remove todas as impurezas? Não. A custo de muita adição de cloro, a água que abastece residências, escolas e trabalhos a bacteriologicamente segura. Os tratamentos disponíveis removem partículas e parte das substâncias dissolvidas, resultando em uma água transparente e, geralmente, inodora e insípida, mas não quimicamente pura. O processo de purificação da água compreende etapas distintas, que são: a decantação, a coagulação/floculação, a filtração, a desinfecção e a fluoretação.

(GUIMARAES, J.R.D. Claro como a água? Disponível em: <http://cienciahoje.uol.com.br>. Acesso em: 2 abr. 2011 - adaptado)

Dentre as etapas descritas, são consideradas processos químicos:

- A) Decantação e coagulação.  
B) Decantação e filtração.  
C) Coagulação e desinfecção.  
D) Floculação e filtração.  
E) Filtração e fluoretação.

---

**Questão 202 (2014.3)**

Dois satélites artificiais,  $S_1$  e  $S_2$ , de massas  $M$  e  $2M$ , respectivamente, estão em órbita ao redor da Terra e sujeitos ao seu campo gravitacional. Quando o satélite  $S_1$  passa por um determinado ponto do espaço, sua aceleração é de  $7,0 \text{ m/s}^2$ .

Qual será a aceleração do satélite  $S_2$ , quando ele passar pelo mesmo ponto?

- A)  $3,5 \text{ m/s}^2$   
B)  $7,0 \text{ m/s}^2$   
C)  $9,8 \text{ m/s}^2$   
D)  $14 \text{ m/s}^2$   
E)  $49 \text{ m/s}^2$

---

**Questão 203 (2014.3)**

Durante a formação de uma tempestade, são observadas várias descargas elétricas, os raios, que podem ocorrer das nuvens para o solo (descarga descendente), do solo para as nuvens (descarga ascendente) ou entre uma nuvem e outra. Normalmente, observa-se primeiro um clarão no céu (relâmpago) e somente alguns segundos depois ouve-se o barulho (trovão) causado pela descarga elétrica. O trovão ocorre devido ao aquecimento do ar pela descarga elétrica que sofre uma expansão e se propaga em forma de onda sonora.

O fenômeno de ouvir o trovão certo tempo após a descarga elétrica ter ocorrido deve-se:



- A) a velocidade de propagação do som ser diminuída por conta do aquecimento do ar.  
 B) propagação da luz ocorrer através do ar e a propagação do som ocorrer através do solo.  
 C) A velocidade de propagação da luz ser maior do que a velocidade de propagação do som no ar.  
 D) ao relâmpago ser gerado pelo movimento de cargas elétricas, enquanto o som é gerado a partir da expansão do ar.  
 E) ao tempo da duração da descarga elétrica ser menor que o tempo gasto pelo som para percorrer a distância entre o raio e quem o observa.

**Questão 204 (2015.1)**

Um carro solar é um veículo que utiliza apenas a energia solar para a sua locomoção. Tipicamente, o carro contém um painel fotovoltaico que converte a energia do Sol em energia elétrica que, por sua vez, alimenta um motor elétrico. A imagem mostra o carro solar Tokai Challenger, desenvolvido na Universidade de Tokai, no Japão, e que venceu o World Solar Challenge de 2009, uma corrida internacional de carros solares, tendo atingido uma velocidade média acima de 100 km/h.



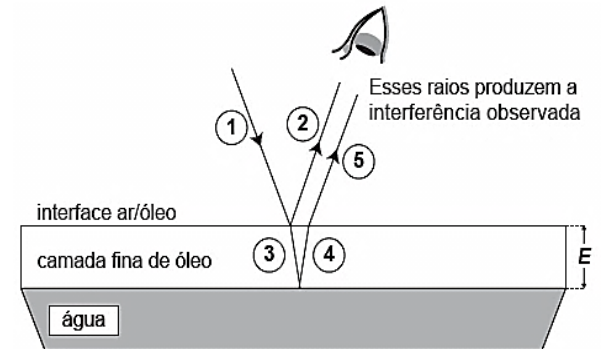
Considere uma região plana onde a insolação (energia solar por unidade de tempo e de área que chega à superfície da Terra) seja de  $1000\text{W/m}^2$ , que o carro solar possua massa de 200kg e seja construído de forma que o painel fotovoltaico em seu topo tenha uma área de  $9,0\text{m}^2$  e rendimento de 30%.

Desprezando as forças de resistência do ar, o tempo que esse carro solar levaria, a partir do repouso, para atingir a velocidade de 108 km/h é um valor mais próximo de:

- A) 1,0 s.  
 B) 4,0 s.  
 C) 10 s.  
 D) 33 s.  
 E) 300 s.

**Questão 205 (2015.1)**

Certos tipos de superfícies na natureza podem refletir luz de forma a gerar um efeito de arco-íris. Essa característica é conhecida como iridescência e ocorre por causa do fenômeno da interferência de película fina. A figura ilustra o esquema de uma fina camada iridescente de óleo sobre uma poça d'água. Parte do feixe de luz branca incidente 1 interface ar/óleo e sofre inversão de fase 2, o que equivale a uma mudança de meio comprimento de onda. A parte refratada do feixe 3 incide na interface óleo/água e sofre reflexão sem inversão de fase 4. O observador indicado enxergará aquela região do filme com coloração equivalente à do comprimento de onda que sofre interferência completamente construtiva entre os raios 2 e 5, mas essa condição só é possível para uma espessura mínima da película. Considere que o caminho percorrido em 3 e 4 corresponde ao dobro da espessura  $E$  da película de óleo.

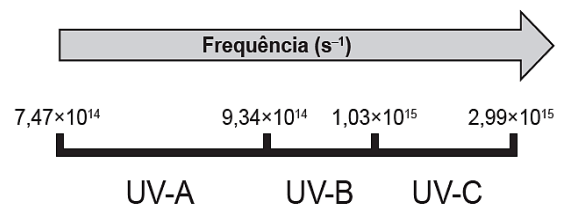


Expressa em termos do comprimento de onda ( $\lambda$ ), a espessura mínima é igual a:

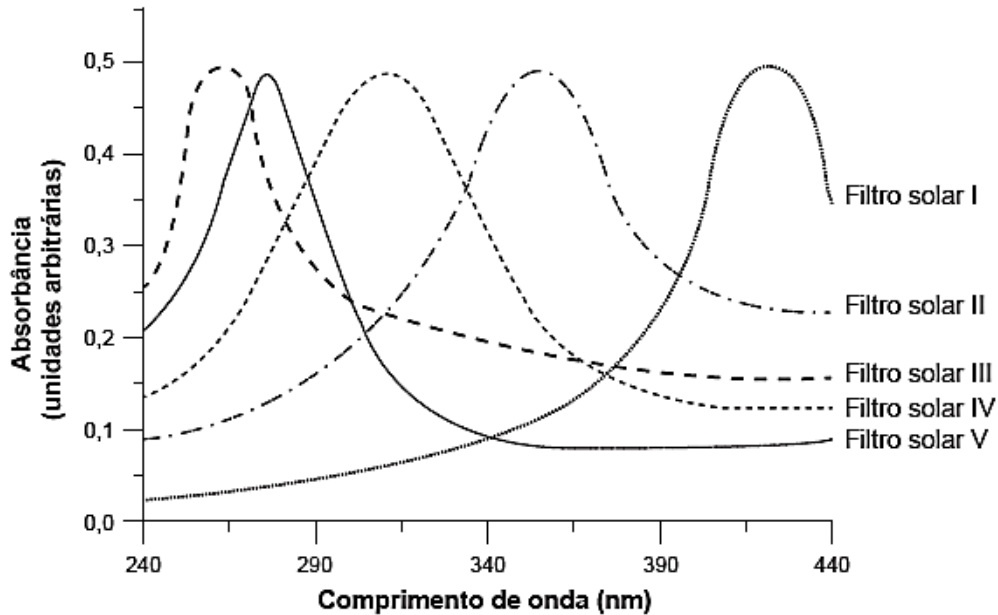
- A)  $\lambda/4$ .  
 B)  $\lambda/2$ .  
 C)  $3\lambda/4$ .  
 D)  $\lambda$ .  
 E)  $2\lambda$ .

**Questão 206 (2015.1)**

A radiação ultravioleta (UV) é dividida, de acordo com três faixas de frequência, em UV-A, UV-B e UV-C, conforme a figura.



Para selecionar um filtro solar que apresente absorção máxima na faixa UV-B, uma pessoa analisou os espectros de absorção da radiação UV de cinco filtros solares:



Considere: velocidade da luz =  $3,0 \times 10^8$  m/s e  $1 \text{ nm} = 1,0 \times 10^{-9}$  m

O filtro solar que a pessoa deve selecionar é o:

- A) V.
- B) IV.
- C) III.
- D) II.
- E) I.

#### Questão 207 (2015.1)

O ar atmosférico pode ser utilizado para armazenar o excedente de energia gerada no sistema elétrico, diminuindo seu desperdício, por meio do seguinte processo: água e gás carbônico são inicialmente removidos do ar atmosférico e a massa de ar restante é resfriada até  $-198^\circ\text{C}$ . Presente na proporção de 78% dessa massa de ar, o nitrogênio gasoso é liquefeito, ocupando um volume 700 vezes menor. A energia excedente do sistema elétrico é utilizada nesse processo, sendo parcialmente recuperada quando o nitrogênio líquido, exposto à temperatura ambiente, entra em ebulição e se expande, fazendo girar turbinas que convertem energia mecânica em energia elétrica.

No processo descrito, o excedente de energia elétrica é armazenado pela:

- A) expansão do nitrogênio durante a ebulição.
- B) absorção de calor pelo nitrogênio durante a ebulição.
- C) realização de trabalho sobre o nitrogênio durante a liquefação.
- D) retirada de água e gás carbônico da atmosfera antes do resfriamento.
- E) liberação de calor do nitrogênio para a vizinhança durante a liquefação.

#### Questão 208 (2015.1)

Uma pessoa abre sua geladeira, verifica o que há dentro e depois fecha a porta dessa geladeira. Em seguida, ela tenta abrir a geladeira novamente, mas só consegue fazer isso depois de exercer uma força mais intensa do que a habitual.

A dificuldade extra para reabrir a geladeira ocorre porque o(a)

- A) volume de ar dentro da geladeira diminuiu.
- B) motor da geladeira está funcionando com potência máxima.
- C) força exercida pelo ímã fixado na porta da geladeira aumenta.
- D) pressão no interior da geladeira está abaixo da pressão externa.
- E) temperatura no interior da geladeira é inferior ao valor existente antes de ela ser aberta.

#### Questão 209 (2015.1)

Uma análise criteriosa do desempenho de Usain Bolt na quebra do recorde mundial dos 100 metros rasos mostrou que, apesar de ser o último dos corredores a reagir ao tiro e iniciar a corrida, seus primeiros 30 metros foram os mais velozes já feitos em um recorde mundial, cruzando essa



marca em 3,78 segundos. Até se colocar com o corpo reto, foram 13 passadas, mostrando sua potência durante a aceleração, o momento mais importante da corrida. Ao final desse percurso, Bolt havia atingido a velocidade máxima de 12 m/s.

(Disponível em: <http://esporte.uol.com.br>. Acesso em: 5 ago. 2012 - adaptado)

Supondo que a massa desse corredor seja igual a 90 kg, o trabalho total realizado nas 13 primeiras passadas é mais próximo de:




- A)  $5,4 \times 10^2 \text{ J}$ .
- B)  $6,5 \times 10^3 \text{ J}$ .
- C)  $8,6 \times 10^3 \text{ J}$ .
- D)  $1,3 \times 10^4 \text{ J}$ .
- E)  $3,2 \times 10^4 \text{ J}$ .

#### Questão 210 (2015.1)

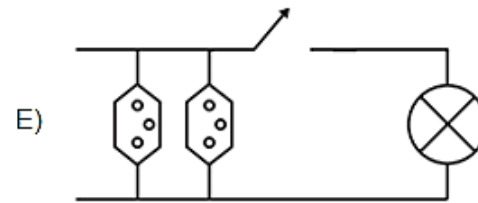
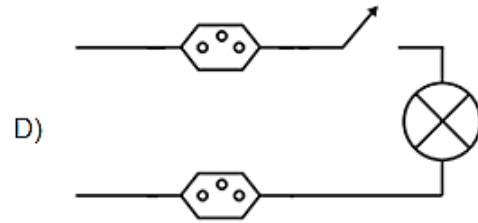
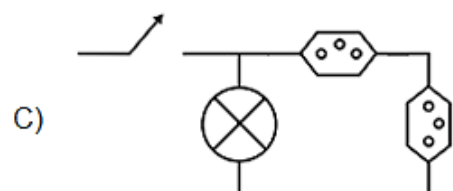
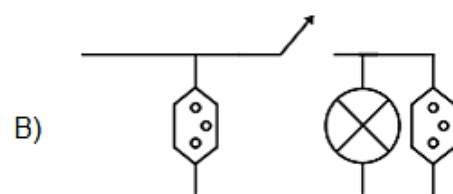
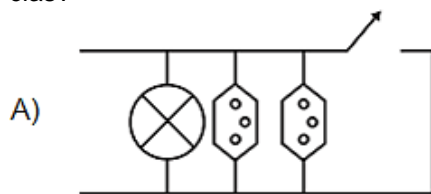
Um estudante, precisando instalar um computador, um monitor e uma lâmpada em seu quarto, verificou que precisaria fazer a instalação de duas tomadas e um interruptor na rede elétrica. Decidiu esboçar com antecedência o esquema elétrico.

“O circuito deve ser tal que as tomadas e a lâmpada devem estar submetidas à tensão nominal da rede elétrica e a lâmpada deve poder ser ligada ou desligada por um interruptor sem afetar os outros dispositivos” - pensou.

Símbolos adotados:

Lâmpada:  Tomada:  Interruptor: 

Qual dos circuitos esboçados atende às exigências?



#### Questão 211 (2015.1)

Um garoto foi à loja comprar um estilingue e encontrou dois modelos: um com borracha mais "dura" e outro com borracha mais "mole". O garoto concluiu que o mais adequado seria o que proporcionasse maior alcance horizontal, D, para as mesmas condições de arremesso, quando submetidos à mesma força aplicada. Sabe-se que a constante elástica  $k_d$  (do estilingue mais "duro") é o dobro da constante elástica  $k_m$  (do estilingue mais "mole").

A razão entre os alcances  $\frac{D_d}{D_m}$ , referentes aos estilingues é:

- A)  $\frac{1}{4}$
- B)  $\frac{1}{2}$
- C) 1
- D) 2
- E) 4

#### Questão 212 (2015.1)

Uma garrafa térmica tem como função evitar a troca de calor entre o líquido nela contido e o ambiente, mantendo a temperatura de seu conteúdo constante.

Uma forma de orientar os consumidores na compra de uma garrafa térmica seria criar um selo de qualidade, como se faz atualmente para informar o consumo de energia de eletrodomésticos.

O selo identificaria cinco categorias e informaria a variação de temperatura do conteúdo da garrafa, depois de decorridas seis horas de seu fechamento, por meio de uma porcentagem do valor inicial da temperatura de equilíbrio do líquido na garrafa.

O quadro apresenta as categorias e os intervalos de variação percentual da temperatura.



Tipo de selo	Variação de temperatura
A	menor que 10%
B	entre 10% e 25%
C	entre 25% e 40%
D	entre 40% e 55%
E	maior que 55%

Para atribuir uma categoria a um modelo de garrafa térmica, são preparadas e misturadas, em uma garrafa, duas amostras de água, uma a 10°C e outra a 40°C, na proporção de um terço de água fria para dois terços de água quente. A garrafa é fechada. Seis horas depois, abre-se a garrafa e mede-se a temperatura da água, obtendo-se 16°C.

Qual selo deveria ser posto na garrafa térmica testada?

- A) A
- B) B
- C) C
- D) D
- E) E

**Questão 213 (2015.1)**

Será que uma miragem ajudou a afundar o Titanic? O fenômeno ótico conhecido como Fata Morgana pode fazer com que uma falsa parede de água apareça sobre o horizonte molhado. Quando as condições são favoráveis, a luz refletida pela água fria pode ser desviada por uma camada incomum de ar quente acima, chegando até o observador, vinda de muitos ângulos diferentes. De acordo com estudos de pesquisadores da Universidade de San Diego, uma Fata Morgana pode ter obscurecido os icebergs da visão da tripulação que estava a bordo do Titanic. Dessa forma, a certa distância, o horizonte verdadeiro fica encoberto por uma névoa escurecida, que se parece muito com águas calmas no escuro.

O fenômeno ótico que, segundo os pesquisadores, provoca a Fata Morgana é a:

- A) ressonância.
- B) refração.
- C) difração.
- D) reflexão.
- E) difusão.

**Questão 214 (2015.1)**

As altas temperaturas de combustão e o atrito entre suas peças móveis são alguns dos fatores que provocam o aquecimento dos motores à combustão interna. Para evitar o superaquecimento e consequentes danos a esses motores,

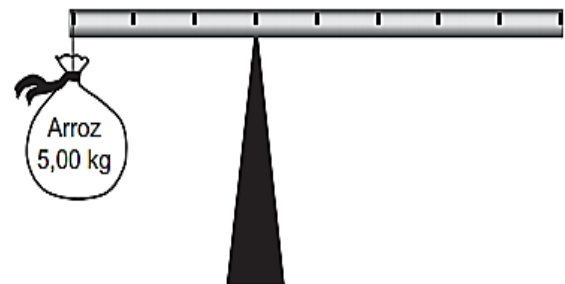
foram desenvolvidos os atuais sistemas de refrigeração, em que um fluido arrefecedor com propriedades especiais circula pelo interior do motor, absorvendo o calor que, ao passar pelo radiador, é transferido para a atmosfera.

Qual propriedade o fluido arrefecedor deve possuir para cumprir seu objetivo com maior eficiência?

- A) Alto calor específico.
- B) Alto calor latente de fusão.
- C) Baixa condutividade térmica.
- D) Baixa temperatura de ebulição.
- E) Alto coeficiente de dilatação térmica.

**Questão 215 (2015.1)**

Em um experimento, um professor levou para a sala de aula um saco de arroz, um pedaço de madeira triangular e uma barra de ferro cilíndrica e homogênea. Ele propôs que fizessem a medição da massa da barra marcações na barra, dividindo-a em oito partes iguais, e em seguida apoiaram-na sobre a base triangular, com o saco de arroz pendurado em uma de suas extremidades, até atingir a situação de equilíbrio.




Nessa situação, qual foi a massa da barra obtida pelos alunos?

- A) 3,00 kg
- B) 3,75 kg
- C) 5,00 kg
- D) 6,00 kg
- E) 15,00 kg

**Questão 216 (2015.1)**

Entre os anos de 1028 e 1038, Alhazen (Ibn al-Haytham; 965-1040 d.C.) escreveu sua principal obra, o Livro da Óptica, que, com base em experimentos, explicava o funcionamento da visão e outros aspectos da ótica, por exemplo, o funcionamento da câmara escura. O livro foi traduzido e incorporado aos conhecimentos científicos ocidentais pelos europeus. Na figura, retirada dessa obra, é representada a imagem invertida de edificações em um tecido utilizado como anteparo.



Se fizermos uma analogia entre a ilustração e o olho humano, o tecido corresponde ao(à):

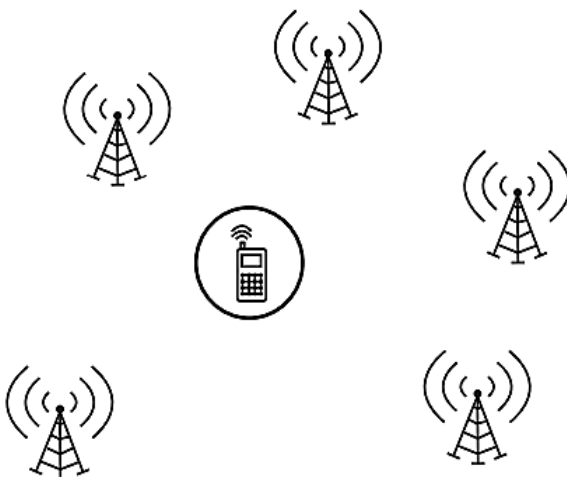
- A) íris.
- B) retina.
- C) pupila.
- D) córnea.
- E) cristalino.

**Questão 217 (2015.1)**

Ao ouvir uma flauta e um piano emitindo a mesma nota musical, consegue-se diferenciar esses instrumentos um do outro. Essa diferenciação se deve principalmente ao(à):

- A) intensidade sonora do som de cada instrumento musical.
- B) potência sonora do som emitido pelos diferentes instrumentos musicais.
- C) diferente velocidade de propagação do som emitido por cada instrumento musical.
- D) timbre do som, que faz com que os formatos das ondas de cada instrumento sejam diferentes.
- E) altura do som, que possui diferentes frequências para diferentes instrumentos musicais.

**Questão 218 (2015.1)**



Para obter a posição de um telefone celular, a polícia baseia-se em informações do tempo de resposta do aparelho em relação às torres de celular da região de onde se originou a ligação.

Em uma região, um aparelho está na área de cobertura de cinco torres, conforme o esquema.

Considerando que as torres e o celular são pontiformes e que estão sobre um mesmo plano, qual o número mínimo de torres necessárias para se localizar a posição do telefone celular que originou a ligação:

- A) Uma.
- B) Duas.
- C) Três.
- D) Quatro.
- E) Cinco.

**Questão 219 (2015.2)**

Em uma flauta, as notas musicais possuem frequência e comprimento de onda ( $\lambda$ ) muito bem definidos.

As figuras mostram esquematicamente um tubo de comprimento  $LL$ , que representa de forma simplificada uma flauta, em que estão representados em **A** o primeiro harmônico de uma nota musical (comprimento de onda  $\lambda_A$ ), em **B** seu segundo harmônico (comprimento de onda  $\lambda_B$ ) e em **C** o seu terceiro harmônico (comprimento de onda  $\lambda_C$ ), onde  $\lambda_A > \lambda_B > \lambda_C$ .



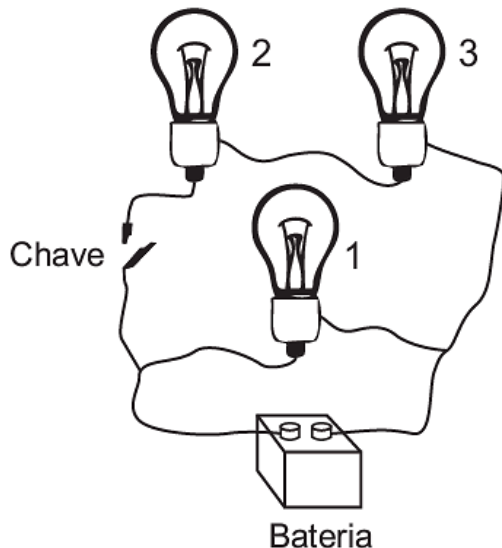
Em função do comprimento do tubo, qual o comprimento de onda da oscilação que forma o próximo harmônico?

- A)  $L/4$
- B)  $L/5$
- C)  $L/2$
- D)  $L/8$
- E)  $6L/8$



**Questão 220 (2015.2)**

Um electricista projeta um circuito com três lâmpadas incandescentes idênticas, conectadas como na figura. Deseja-se que uma delas fique sempre acesa, por isso é ligada diretamente aos polos da bateria, entre os quais se mantém uma tensão constante. As outras duas lâmpadas são conectadas em um fio separado, que contém a chave. Com a chave aberta (desligada), a bateria fornece uma potência  $X$ .



Assumindo que as lâmpadas obedecem à Lei de Ohm, com a chave fechada, a potência fornecida pela bateria, em função de  $X$  é:

- A)  $\frac{2}{3}X$
- B)  $X$
- C)  $\frac{3}{2}X$
- D)  $2X$
- E)  $3X$

**Questão 221 (2015.2)**

Sabe-se que nas proximidades dos polos do planeta Terra é comum a formação dos icebergs, que são grandes blocos de gelo, flutuando nas águas oceânicas. Estudos mostram que a parte de gelo que fica emersa durante a flutuação corresponde aproximadamente 10% do seu volume total. Um estudante resolveu simular essa situação introduzindo um bloquinho de gelo no interior de um recipiente contendo água, observando a variação de seu nível desde o instante de introdução até o completo derretimento do bloquinho.

Com base nessa simulação, verifica-se que o nível da água no recipiente:

- A) subirá com a introdução do bloquinho de gelo e, após o derretimento total do gelo, esse nível subirá ainda mais.
- B) subirá com a introdução do bloquinho de gelo e, após o derretimento total do gelo, esse nível descerá, voltando ao seu valor inicial.
- C) subirá com a introdução do bloquinho de gelo e, após o derretimento total do gelo, esse nível permanecerá sem alteração.
- D) não sofrerá alteração com a introdução do bloquinho de gelo, porém, após seu derretimento, o nível subirá devido a um aumento em torno de 10% no volume de água.
- E) subirá em torno de 90% do seu valor inicial com a introdução do bloquinho de gelo e, após seu derretimento, o nível descerá apenas 10% do valor inicial.

**Questão 222 (2015.2)**

A rede elétrica de uma residência tem tensão de 110 V e o morador compra, por engano, uma lâmpada incandescente com potência nominal de 100 W e tensão nominal de 220 V. Se essa lâmpada for ligada na rede de 110 V, o que acontecerá?

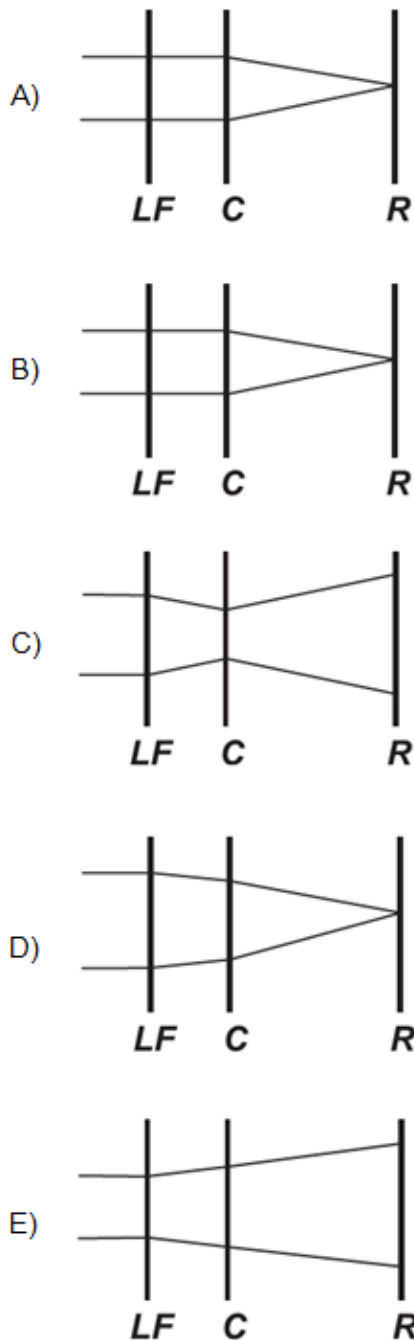
- A) A lâmpada brilhará normalmente, mas como a tensão é a metade da prevista, a corrente elétrica será o dobro da normal, pois a potência elétrica é o produto de tensão pela corrente.
- B) A lâmpada não acenderá, pois ela é feita para trabalhar apenas com tensão de 220 V, e não funciona com tensão abaixo desta.
- C) A lâmpada irá acender dissipando uma potência de 50 W, pois como a tensão é metade da esperada, a potência também será reduzida à metade.
- D) A lâmpada irá brilhar fracamente, pois com a metade da tensão nominal, a corrente elétrica também será menor e a potência dissipada será menos da metade da nominal.
- E) A lâmpada queimará, pois como a tensão é menor do que a esperada, a corrente será maior, ultrapassando a corrente pela qual o filamento foi projetado.

**Questão 223 (2015.2)**

O avanço tecnológico da medicina propicia o desenvolvimento de tratamento para diversas doenças, como as relacionadas à visão. As correções que utilizam laser para o tratamento da miopia são consideradas seguras até 12 dioptrias, dependendo da espessura e curvatura da córnea. Para valores de dioptria superiores a esse, o implante de lentes intraoculares é mais indicado. Essas lentes, conhecidas como lentes fáticas (LF), são implantadas junto à córnea, antecedendo o cristalino (C), sem que esse precise ser removido, formando a imagem correta sobre a retina (R).



O comportamento de um feixe de luz incidindo no olho que possui um implante de lentes fálicas para correção do problema de visão apresentado é esquematizado por:



**Questão 224 (2015.2)**

Observações astronômicas indicam que no centro de nossa galáxia, a Via Láctea, provavelmente exista um buraco negro cuja massa é igual a milhares de vezes a massa do Sol. Uma técnica simples para estimar a massa desse buraco negro consiste em observar algum objeto que orbite ao seu redor e medir o período de uma rotação completa,  $T$ , bem como o raio médio,  $R$ , da órbita do objeto, que supostamente se

desloca, com boa aproximação, em movimento circular uniforme. Nessa situação, considere que a força resultante, devido ao movimento circular, é igual, em magnitude, à força gravitacional que o buraco negro exerce sobre o objeto.

A partir do conhecimento do período de rotação, da distância média e da constante gravitacional,  $G$ , a massa do buraco negro é:

A)  $\frac{4\pi^2 R^2}{GT^2}$

B)  $\frac{\pi^2 R^3}{2GT^2}$

C)  $\frac{2\pi^2 R^3}{2GT^2}$

D)  $\frac{4\pi^2 R^3}{GT^2}$

E)  $\frac{\pi^2 R^5}{GT^2}$

**Questão 225 (2015.2)**

Em altos-fornos siderúrgicos, as temperaturas acima de  $600^\circ\text{C}$  são mensuradas por meio de pirômetros óticos. Esses dispositivos apresentam a vantagem de medir a temperatura de um objeto aquecido sem necessidade de contato. Dentro de um pirômetro ótico, um filamento metálico é aquecido pela passagem de corrente elétrica até que sua cor seja a mesma que a do objeto aquecido em observação. Nessa condição, a temperatura conhecida do filamento é idêntica à do objeto aquecido em observação.

(Disponível em: [www.if.usp.br](http://www.if.usp.br).  
Acesso em: 4 ago. 2012 - adaptado)

A propriedade da radiação eletromagnética avaliada nesse processo é a:

- A) amplitude.
- B) coerência.
- C) frequência.
- D) intensidade.
- E) velocidade.

**Questão 226 (2015.2)**

Num sistema de freio convencional, as rodas do carro travam e os pneus derrapam no solo, caso a força exercida sobre o pedal seja muito intensa. O sistema ABS evita o travamento das rodas, mantendo a força de atrito no seu valor estático máximo, sem derrapagem. O coeficiente de atrito estático da borracha em contato com





o concreto vale  $\mu_e = 1,0$  e o coeficiente de atrito cinético para o mesmo par de materiais é  $\mu_c = 0,75$ . Dois carros, com velocidades iniciais iguais a 108 km/h, iniciam a frenagem numa estrada perfeitamente horizontal de concreto no mesmo ponto. O carro 1 tem sistema ABS e utiliza a força de atrito estática máxima para a frenagem; já o carro 2 trava as rodas, de maneira que a força de atrito efetiva é a cinética. Considere  $g = 10 \text{ m/s}^2$ .

As distâncias, medidas a partir do ponto em que iniciam a frenagem, que os carros 1 ( $d_1$ ) e 2 ( $d_2$ ) percorrem até parar são, respectivamente,

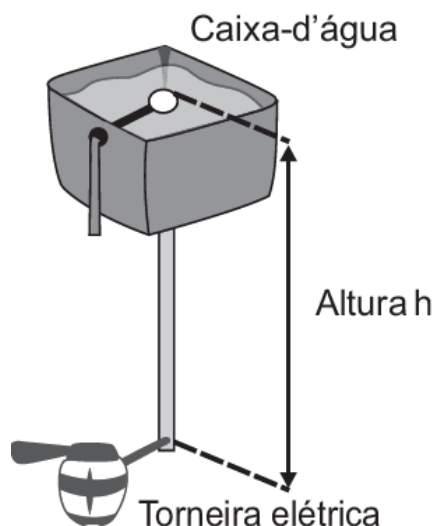
- A)  $d_1 = 45 \text{ m}$  e  $d_2 = 60 \text{ m}$ .
- B)  $d_1 = 60 \text{ m}$  e  $d_2 = 45 \text{ m}$ .
- C)  $d_1 = 90 \text{ m}$  e  $d_2 = 120 \text{ m}$ .
- D)  $d_1 = 5,8 \times 10^2 \text{ m}$  e  $d_2 = 7,8 \times 10^2 \text{ m}$ .
- E)  $d_1 = 7,8 \times 10^2 \text{ m}$  e  $d_2 = 5,8 \times 10^2 \text{ m}$ .

#### Questão 227 (2015.2)

No manual de uma torneira elétrica são fornecidas instruções básicas de instalação para que o produto funcione corretamente:

- Se a torneira for conectada à caixa-d'água domiciliar, a pressão da água na entrada da torneira deve ser no mínimo 18 kPa e no máximo 38 kPa.
- Para pressões da água entre 38 kPa e 75 kPa ou água proveniente diretamente da rede pública, é necessário utilizar o redutor de pressão que acompanha o produto.
- Essa torneira elétrica pode ser instalada em um prédio ou em uma casa.

Considere a massa específica da água de  $1000 \text{ kg/m}^3$  e a aceleração da gravidade  $10 \text{ m/s}^2$ .



Para que a torneira funcione corretamente, sem o uso do redutor de pressão, quais deverão ser a mínima e a máxima altura entre a torneira e a caixa d'água?

- A) 1,8 m e 3,8 m
- B) 1,8 m e 7,5 m
- C) 3,8 m e 7,5 m
- D) 18 m e 38 m
- E) 18 m e 75 m

#### Questão 228 (2015.2)

Para irrigar sua plantação, um produtor rural construiu um reservatório a 20 metros de altura a partir da barragem de onde será bombeada a água. Para alimentar o motor elétrico das bombas, ele instalou um painel fotovoltaico.

A potência do painel varia de acordo com a incidência solar, chegando a um valor de pico de 80 W ao meio-dia. Porém, entre as 11 horas e 30 minutos e as 12 horas e 30 minutos, disponibiliza uma potência média de 50 W. Considere a aceleração da gravidade igual a  $10 \text{ m/s}^2$  e uma eficiência de transferência energética de 100%.

Qual é o volume de água, em litros, bombeado para o reservatório no intervalo de tempo citado?

- A) 150
- B) 250
- C) 450
- D) 900
- E) 1440

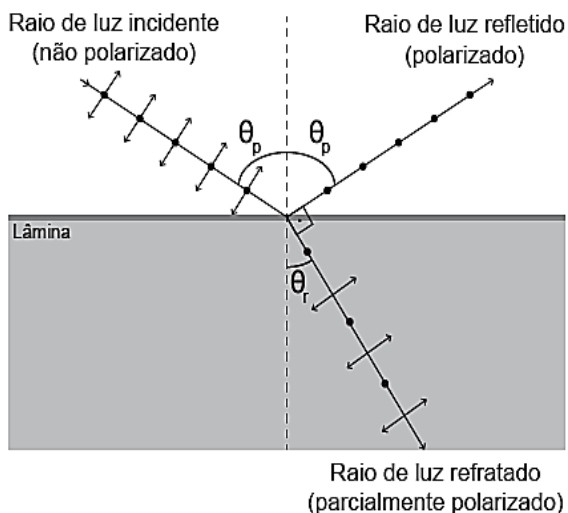
#### Questão 229 (2015.2)

A fotografia feita sob luz polarizada é usada por dermatologistas para diagnósticos. Isso permite ver detalhes da superfície da pele que não são visíveis com o reflexo da luz branca comum. Para se obter luz polarizada, pode-se utilizar a luz transmitida por um polaroide ou a luz refletida por uma superfície na condição de Brewster, como mostra a figura.

Nessa situação, o feixe da luz refratada forma um ângulo de  $90^\circ$  com o feixe da luz refletida, fenômeno conhecido como Lei de Brewster.

Nesse caso, o ângulo de incidência  $\theta_p$ , também chamado de ângulo de polarização, e o ângulo de refração  $\theta_r$ , estão em conformidade com a Lei de Snell.

Considere um feixe de luz não polarizada proveniente de um meio com índice de refração igual a 1, que incide sobre uma lâmina e faz um ângulo de refração  $\theta_r$  de  $30^\circ$ .



Dado:

$$\text{sen } 30^\circ = \text{cos } 60^\circ = \frac{1}{2}$$

$$\text{sen } 60^\circ = \text{cos } 30^\circ = \frac{\sqrt{3}}{2}$$

Nessa situação, qual deve ser o índice de refração da lâmina para que o feixe refletido seja polarizado?

- A)  $\sqrt{3}$
- B)  $\sqrt{3}/3$
- C) 2
- D)  $1/2$
- E)  $\sqrt{3}/2$

**Questão 230 (2015.2)**

Durante uma aula experimental de física, os estudantes construíram um sistema ressonante com pêndulos simples. As características de cada pêndulo são apresentadas no quadro. Inicialmente, os estudantes colocaram apenas o pêndulo A para oscilar.

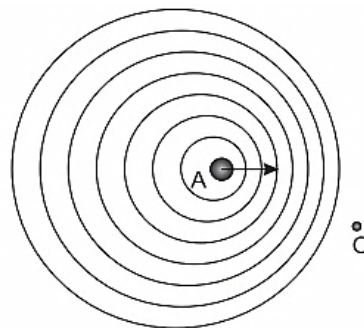
Pêndulo	Massa	Comprimento do barbante
A	$M$	$L$
1	$M$	$L$
2	$\frac{M}{2}$	$2L$
3	$2M$	$\frac{L}{2}$
4	$\frac{M}{2}$	$\frac{L}{2}$
5	$2M$	$L$

Quais pêndulos, além desse, passaram também a oscilar?

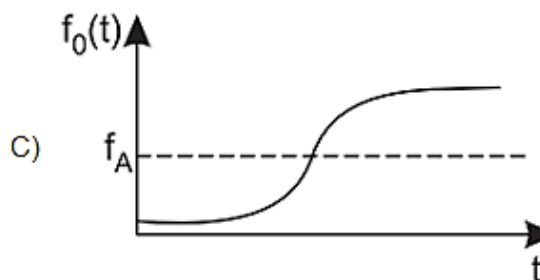
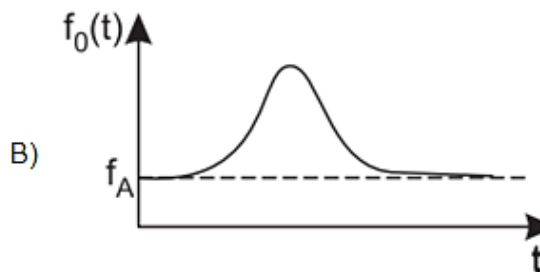
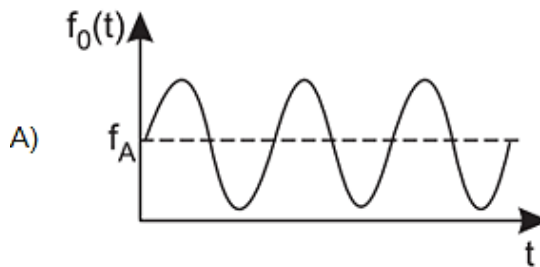
- A) 1, 2, 3, 4 e 5.
- B) 1, 2 e 3.
- C) 1 e 4.
- D) 1 e 5.
- E) 3 e 4.

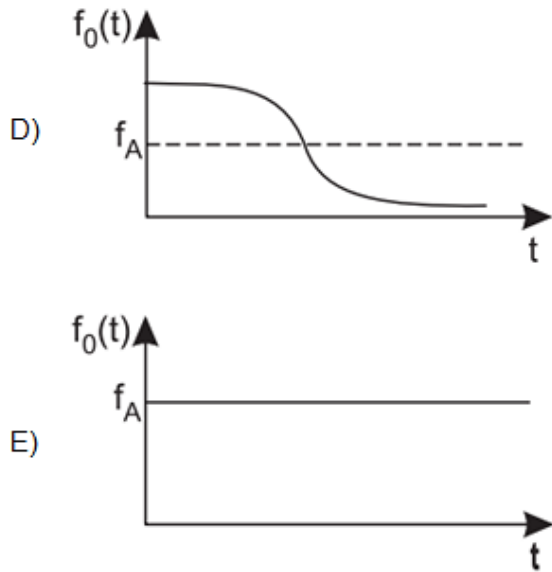
**Questão 231 (2016.1)**

Uma ambulância A em movimento retilíneo e uniforme aproxima-se de um observador O, em repouso. A sirene emite um som de frequência constante  $f_A$ . O desenho ilustra as frentes de onda do som emitido pela ambulância. O observador possui um detector que consegue registrar, no esboço de um gráfico, a frequência da onda sonora detectada em função do tempo  $f_o(t)$ , antes e depois da passagem da ambulância por ele.



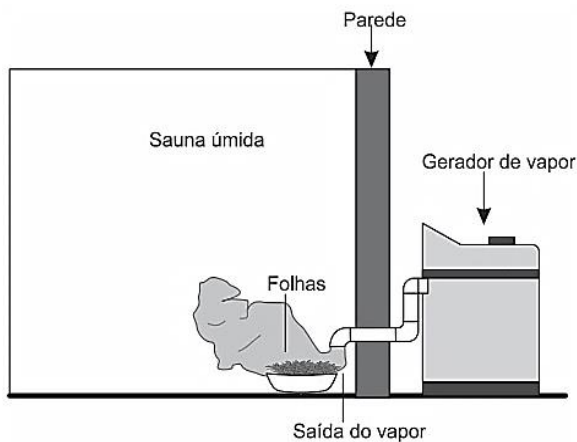
Qual esboço gráfico representa a frequência  $f_o(t)$  detectada pelo observador?





**Questão 232 (2016.1)**

Uma pessoa é responsável pela manutenção de uma sauna úmida. Todos os dias cumpre o mesmo ritual: colhe folhas de capim-cidreira e algumas folhas de eucalipto. Em seguida, coloca as folhas na saída do vapor da sauna, aromatizando-a, conforme representado na figura.

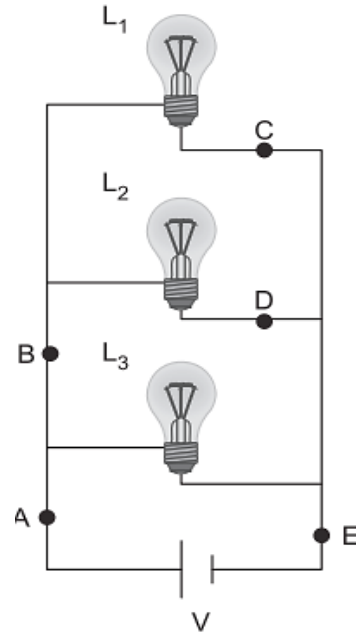


Qual processo de separação é responsável pela aromatização promovida?

- A) Filtração simples.
- B) Destilação simples.
- C) Extração por arraste.
- D) Sublimação fracionada.
- E) Decantação sólido-líquido.

**Questão 233 (2016.1)**

Três lâmpadas idênticas foram ligadas no circuito esquematizado. A bateria apresenta resistência interna desprezível, e os fios possuem resistência nula. Um técnico fez uma análise do circuito para prever a corrente elétrica nos pontos: A, B, C, D e E; e rotulou essas correntes de  $I_A$ ,  $I_B$ ,  $I_C$ ,  $I_D$  e  $I_E$ , respectivamente.



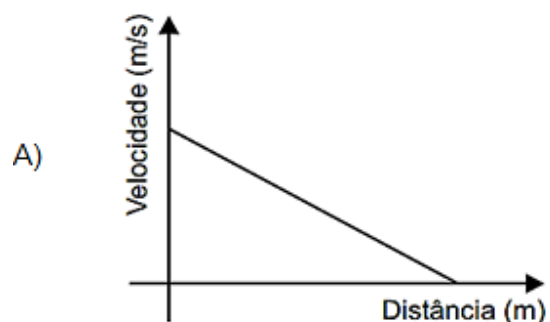
O técnico concluiu que as correntes que apresentam o mesmo valor são:

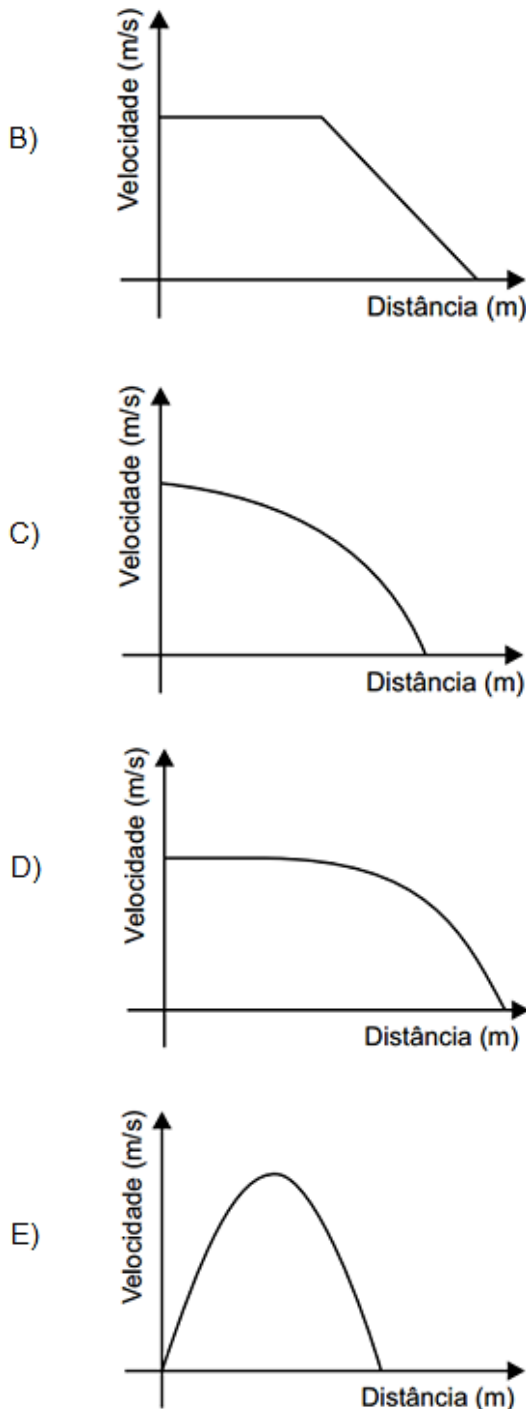
- A)  $I_A = I_E$  e  $I_C = I_D$ .
- B)  $I_A = I_B = I_E$  e  $I_C = I_D$ .
- C)  $I_A = I_B$ , apenas.
- D)  $I_A = I_B = I_E$ , apenas.
- E)  $I_C = I_B$ , apenas.

**Questão 234 (2016.1)**

Dois veículos que trafegam com velocidade constante em uma estrada, na mesma direção e sentido, devem manter entre si uma distância mínima. Isso porque o movimento de um veículo, até que ele pare totalmente, ocorre em duas etapas, a partir do momento em que o motorista detecta um problema que exige uma frenada brusca. A primeira etapa é associada à distância que o veículo percorre entre o intervalo de tempo da detecção do problema e o acionamento dos freios. Já a segunda se relaciona com a distância que o automóvel percorre enquanto os freios agem com desaceleração constante.

Considerando a situação descrita, qual esboço gráfico representa a velocidade do automóvel em relação à distância percorrida até parar totalmente?





**Questão 235 (2016.1)**

O morcego emite pulsos de curta duração de ondas ultrassônicas, os quais voltam na forma de ecos após atingirem objetos no ambiente, trazendo informações a respeito das suas dimensões, suas localizações e dos seus possíveis movimentos. Isso se dá em razão da sensibilidade do morcego em detectar o tempo gasto para os ecos voltarem, bem como das pequenas variações nas frequências e nas intensidades dos pulsos ultrassônicos. Essas características lhe permitem caçar pequenas presas mesmo quando estão em movimento em rela-

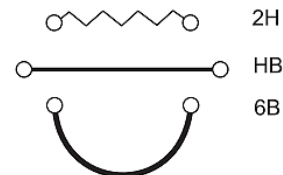
ção a si. Considere uma situação unidimensional em que uma mariposa se afasta, em movimento retilíneo e uniforme, de um morcego em repouso.

A distância e velocidade da mariposa, na situação descrita, seriam detectadas pelo sistema de um morcego por quais alterações nas características dos pulsos ultrassônicos?

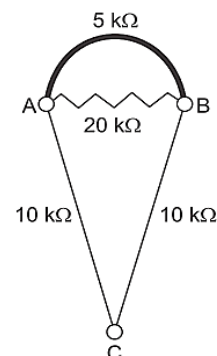
- A) Intensidade diminuída, o tempo de retorno aumentado e a frequência percebida diminuída.
- B) Intensidade aumentada, o tempo de retorno diminuído e a frequência percebida diminuída.
- C) Intensidade diminuída, o tempo de retorno diminuído e a frequência percebida aumentada.
- D) Intensidade diminuída, o tempo de retorno aumentado e a frequência percebida aumentada.
- E) Intensidade aumentada, o tempo de retorno aumentado e a frequência percebida aumentada.

**Questão 236 (2016.1)**

Por apresentar significativa resistividade elétrica, o grafite pode ser utilizado para simular resistores elétricos em circuitos desenhados no papel, com o uso de lápis e lapiseiras. Dependendo da espessura e do comprimento das linhas desenhadas, é possível determinar a resistência elétrica de cada traçado produzido. No esquema foram utilizados três tipos de lápis diferentes (2H, HB e 6B) para efetuar três traçados distintos.



Munida dessas informações, um estudante pegou uma folha de papel e fez o desenho de um sorvete de casquinha utilizando-se desses traçados. Os valores encontrados nesse experimento, para as resistências elétricas ( $R$ ), medidas com o auxílio de um ohmímetro ligado nas extremidades das resistências, são mostrados na figura. Verificou-se que os resistores obedeciam a Lei de Ohm.





Na sequência, conectou o ohmímetro nos terminais A e B do desenho e, em seguida, conectou-o nos terminais B e C, anotando as leituras  $R_{AB}$  e  $R_{BC}$ , respectivamente.

Ao estabelecer a razão  $\frac{R_{AB}}{R_{BC}}$  qual resultado obtive?

- A) 1
- B) 4/7
- C) 10/27
- D) 14/81
- E) 4/81

**Questão 237 (2016.1)**

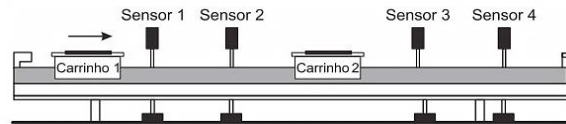
A magnetohipertermia é um procedimento terapêutico que se baseia na elevação da temperatura das células de uma região específica do corpo que estejam afetadas por um tumor. Nesse tipo de tratamento, nanopartículas magnéticas são fagocitadas pelas células tumorais, e um campo magnético alternado externo é utilizado para promover a agitação das nanopartículas e conseqüente aquecimento da célula.

A elevação de temperatura descrita ocorre porque:

- A) o campo magnético gerado pela oscilação das nanopartículas é absorvido pelo tumor.
- B) o campo magnético alternado faz as nanopartículas girarem, transferindo calor por atrito.
- C) as nanopartículas interagem magneticamente com as células do corpo, transferindo calor.
- D) o campo magnético alternado fornece calor para as nanopartículas que o transfere às células do corpo.
- E) as nanopartículas são aceleradas em um único sentido em razão da interação com o campo magnético, fazendo-as colidir com as células e transferir calor.

**Questão 238 (2016.1)**

O trilho de ar é um dispositivo utilizado em laboratórios de física para analisar movimentos em que corpos de prova (carrinhos) podem se mover com atrito desprezível. A figura ilustra um trilho horizontal com dois carrinhos (1 e 2) em que se realiza um experimento para obter a massa do carrinho 2. No instante em que o carrinho 1, de massa 150,0 g, passa a se mover com velocidade escalar constante, o carrinho 2 está em repouso. No momento em que o carrinho 1 se choca com o carrinho 2, ambos passam a se movimentar juntos com velocidade escalar constante. Os sensores eletrônicos distribuídos ao longo do trilho determinam as posições e registram os instantes associados a passagem de cada carrinho, gerando os dados do quadro.



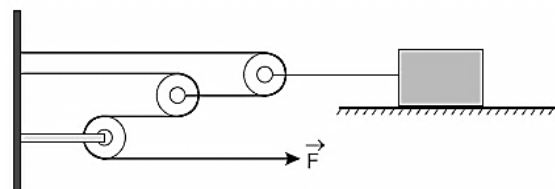
Carrinho 1		Carrinho 2	
Posição (cm)	Instante (s)	Posição (cm)	Instante (s)
15,0	0,0	45,0	0,0
30,0	1,0	45,0	1,0
75,0	8,0	75,0	8,0
90,0	11,0	90,0	11,0

Com base nos dados experimentais, o valor da massa do carrinho 2 é igual a:

- A) 50,0 g.
- B) 250,0 g.
- C) 300,0 g.
- D) 450,0 g.
- E) 600,0 g.

**Questão 239 (2016.1)**

Uma invenção que significou um grande avanço tecnológico na Antiguidade, a polia composta ou a associação de polias, é atribuída a Arquimedes (287 a.C. a 212 a.C.). O aparato consiste em associar uma série de polias móveis a uma polia fixa. A figura exemplifica um arranjo possível para esse aparato. É relatado que Arquimedes teria demonstrado para o rei Hierão um outro arranjo desse aparato, movendo sozinho, sobre a areia da praia, um navio repleto de passageiros e cargas, algo que seria impossível sem a participação de muitos homens. Suponha que a massa do navio era de 3000 kg, que o coeficiente de atrito estático entre o navio e a areia era de 0,8 e que Arquimedes tenha puxado o navio com uma força  $F$ , paralela à direção do movimento e de módulo igual a 400 N. Considere os fios e as polias ideais, a aceleração da gravidade igual a  $10 \text{ m/s}^2$  e que a superfície da praia é perfeitamente horizontal.



O número mínimo de polias móveis usadas, nessa situação, por Arquimedes foi:

- A) 3.
- B) 6.
- C) 7.
- D) 8.
- E) 10.



### Questão 240 (2016.1)

Num experimento, um professor deixa duas bandejas de mesma massa, uma de plástico e outra de alumínio, sobre a mesa do laboratório. Após algumas horas, ele pede aos alunos que avaliem a temperatura das duas bandejas, usando para isso o tato. Seus alunos afirmam, categoricamente, que a bandeja de alumínio encontra-se numa temperatura mais baixa. Intrigado, ele propõe uma segunda atividade, em que coloca um cubo de gelo sobre cada uma das bandejas, que estão em equilíbrio térmico com o ambiente, e os questiona em qual delas a taxa de derretimento do gelo será maior.

O aluno que responder corretamente ao questionamento do professor dirá que o derretimento ocorrerá:

- A) mais rapidamente na bandeja de alumínio, pois ela tem uma maior condutividade térmica que a de plástico.
- B) mais rapidamente na bandeja de plástico, pois ela tem inicialmente uma temperatura mais alta que a de alumínio.
- C) mais rapidamente na bandeja de plástico, pois ela tem uma maior capacidade térmica que a de alumínio.
- D) mais rapidamente na bandeja de alumínio, pois ela tem um calor específico menor que a de plástico.
- E) com a mesma rapidez nas duas bandejas, pois apresentarão a mesma variação de temperatura.

### Questão 241 (2016.1)

Durante a primeira fase do projeto de uma usina de geração de energia elétrica, os engenheiros da equipe de avaliação de impactos ambientais procuram saber se esse projeto está de acordo com as normas ambientais. A nova planta estará localizada a beira de um rio, cuja temperatura média da água é de  $25^{\circ}\text{C}$ , e usará a sua água somente para refrigeração. O projeto pretende que a usina opere com  $1,0\text{ MW}$  de potência elétrica e, em razão de restrições técnicas, o dobro dessa potência será dissipada por seu sistema de arrefecimento, na forma de calor.

Para atender a resolução número 430, de 13 de maio de 2011, do Conselho Nacional do Meio Ambiente, com uma ampla margem de segurança, os engenheiros determinaram que a água só poderá ser devolvida ao rio com um aumento de temperatura de, no máximo,  $3^{\circ}\text{C}$  em relação à temperatura da água do rio captada pelo sistema de arrefecimento. Considere o calor específico da água igual a  $4\text{ kJ}/(\text{kg}^{\circ}\text{C})$ . Para atender essa determinação, o valor mínimo do fluxo de água, em  $\text{kg}/\text{s}$ , para a refrigeração da usina deve ser mais próximo de:

- A) 42.
- B) 84.
- C) 167.
- D) 250.
- E) 500.

### Questão 242 (2016.1)

A Figura 1 apresenta o gráfico da intensidade, em decibéis (dB), da onda sonora emitida por um alto-falante, que está em repouso, e medida por um microfone em função da frequência da onda para diferentes distâncias: 3 mm, 25 mm, 51 mm e 60 mm. A Figura 2 apresenta um diagrama com a indicação das diversas faixas do espectro de frequência sonora para o modelo de alto-falante utilizado neste experimento.

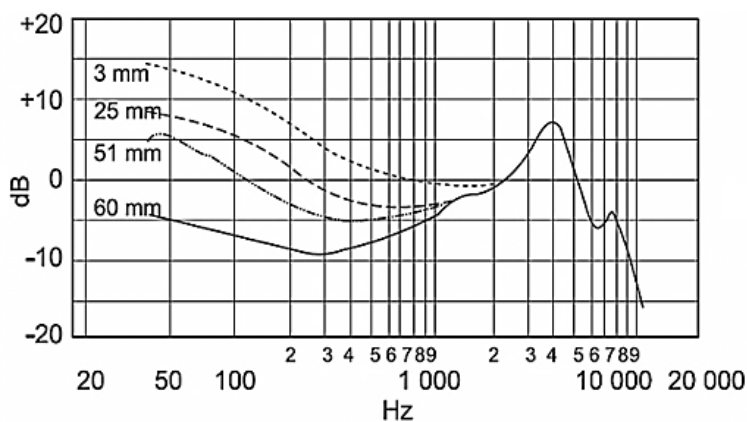


Figura 1  
Resposta de frequência

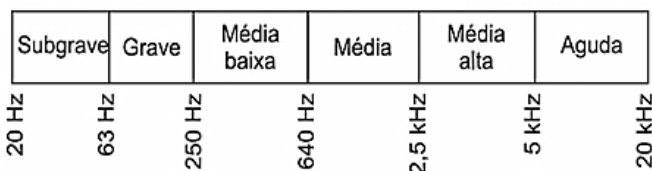


Figura 2  
Faixas do espectro de frequência sonora



Relacionando as informações presentes nas figuras 1 e 2, como a intensidade sonora percebida é afetada pelo aumento da distância do microfone ao alto-falante?

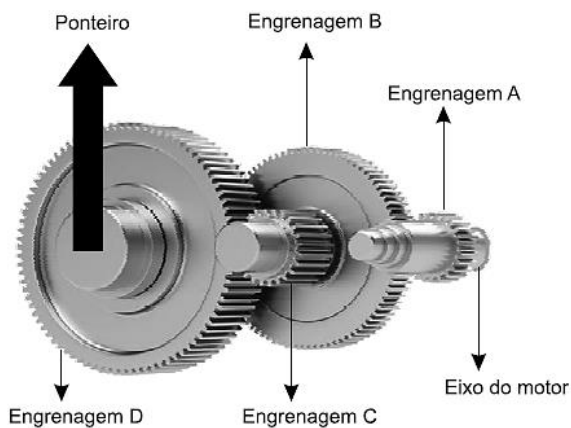
- A) Aumenta na faixa das frequências médias.
- B) Diminui na faixa das frequências agudas.
- C) Diminui na faixa das frequências graves.
- D) Aumenta na faixa das frequências médias altas.
- E) Aumenta na faixa das frequências médias baixas.

**Questão 243 (2016.1)**

A invenção e o acoplamento entre engrenagens revolucionaram a ciência na época e propiciaram a invenção de várias tecnologias, como os relógios. Ao construir um pequeno cronômetro, um relojoeiro usa o sistema de engrenagens mostrado.

De acordo com a figura, um motor é ligado ao eixo e movimenta as engrenagens fazendo o ponteiro girar. A frequência do motor é de 18 rpm, e o número de dentes das engrenagens está apresentado no quadro.

Engrenagem	Dentes
A	24
B	72
C	36
D	108



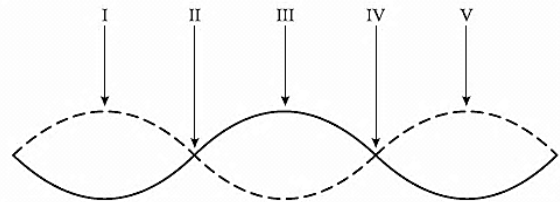
A frequência de giro do ponteiro, em rpm, é:

- A) 1.
- B) 2.
- C) 4.
- D) 81.
- E) 162.

**Questão 244 (2016.1)**

Um experimento para comprovar a natureza ondulatória da radiação de micro-ondas foi realizado da seguinte forma: anotou-se a frequência de operação de um forno de micro-ondas e, em seguida, retirou-se sua plataforma giratória.

No seu lugar, colocou-se uma travessa refratária com uma camada grossa de manteiga. Depois disso, o forno foi ligado por alguns segundos. Ao se retirar a travessa refratária do forno, observou-se que havia três pontos de manteiga derretida alinhados sobre toda a travessa. Parte da onda estacionária gerada no interior do forno é ilustrada na figura.

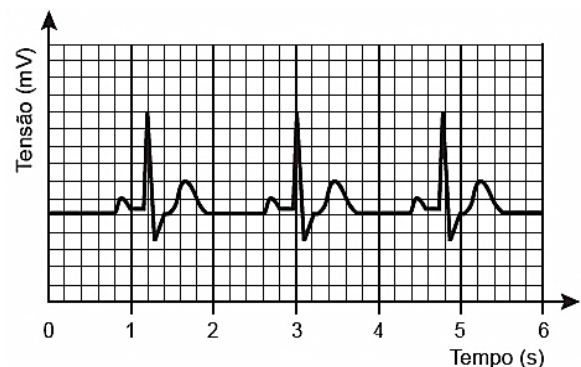


De acordo com a figura, que posições correspondem a dois pontos consecutivos da manteiga derretida?

- A) I e III
- B) I e V
- C) II e III
- D) II e IV
- E) II e V

**Questão 245 (2016.2)**

O eletrocardiograma, exame utilizado para avaliar o estado do coração de um paciente, trata-se do registro da atividade elétrica do coração ao longo de um certo intervalo de tempo. A figura representa o eletrocardiograma de um paciente adulto, descansado, não fumante, em um ambiente com temperatura agradável. Nessas condições, é considerado normal um ritmo cardíaco entre 60 e 100 batimentos por minuto.





Com base no eletrocardiograma apresentado, identifica-se que a frequência cardíaca do paciente é:

- A) normal.
- B) acima do valor ideal.
- C) abaixo do valor ideal.
- D) próxima do limite inferior.
- E) próxima do limite superior.

---

**Questão 246 (2016.2)**

Uma lâmpada LED (diodo emissor de luz), que funciona com 12V e corrente contínua de 0,45A, produz a mesma quantidade de luz que uma lâmpada incandescente de 60W de potência.

Qual é o valor da redução da potência consumida ao se substituir a lâmpada incandescente pela de LED?

- A) 54,6W
- B) 27,0W
- C) 26,6W
- D) 5,4W
- E) 5,0W

---

**Questão 247 (2016.2)**

Nos dias frios é comum ouvir expressões como: “Esta roupa é quentinha” ou então “Feche a janela para o frio não entrar”.

As expressões do senso comum utilizadas estão em desacordo com o conceito de calor da termodinâmica. A roupa não é “quentinha”, muito menos o frio “entra” pela janela.

A utilização das expressões “roupa é quentinha” e “para o frio não entrar” é inadequada, pois o(a):

- A) roupa absorve a temperatura do corpo da pessoa, e o frio não entra pela janela, o calor é que sai por ela.
- B) roupa não fornece calor por ser um isolante térmico, e o frio não entra pela janela, pois é a temperatura da sala que sai por ela.
- C) roupa não é uma fonte de temperatura, e o frio não pode entrar pela janela, pois o calor está contido na sala, logo o calor é que sai por ela.
- D) calor não está contido num corpo, sendo uma forma de energia em trânsito de um corpo de maior temperatura para outro de menor temperatura.
- E) calor está contido no corpo da pessoa, e não na roupa, sendo uma forma de temperatura em trânsito de um corpo mais quente para um corpo mais frio.

**Questão 248 (2016.2)**

Um eletricitista deve instalar um chuveiro que tem as especificações 220V—4400W a 6800W. Para a instalação de chuveiros, recomenda-se uma rede própria, com fios de diâmetro adequado e um disjuntor dimensionado à potência e à corrente elétrica previstas, com uma margem de tolerância próxima de 10%.

Os disjuntores são dispositivos de segurança utilizados para proteger as instalações elétricas de curtos-circuitos e sobrecargas elétricas e devem desarmar sempre que houver passagem de corrente elétrica superior à permitida no dispositivo.

Para fazer uma instalação segura desse chuveiro, o valor da corrente máxima do disjuntor deve ser:

- A) 20A.
- B) 25A.
- C) 30A.
- D) 35A.
- E) 40A.

---

**Questão 249 (2016.2)**

O quadro apresenta o consumo médio urbano de veículos do mesmo porte que utilizam diferentes combustíveis e seus respectivos preços.

No caso do carro elétrico, o consumo está especificado em termos da distância percorrida em função da quantidade de energia elétrica gasta para carregar suas baterias.

Combustível	Consumo na cidade	Preço* (R\$)
Eletricidade	6 km/kWh	0,40/kWh
Gasolina	13 km/L	2,70/L
Diesel	12 km/L	2,10/L
Etanol	9 km/L	2,10/L
Gás natural	13 km/m <sup>3</sup>	1,60/m <sup>3</sup>

\* Valores aferidos em agosto de 2012.

Considerando somente as informações contidas no quadro, o combustível que apresenta o maior custo por quilômetro rodado é o(a):

- A) diesel.
- B) etanol.
- C) gasolina.
- D) eletricidade.
- E) gás natural.





**Questão 250 (2016.2)**

As notas musicais podem ser agrupadas de modo a formar um conjunto. Esse conjunto pode formar uma escala musical. Dentre as diversas escalas existentes, a mais difundida é a escala diatônica, que utiliza as notas denominadas *dó*, *ré*, *mi*, *fá*, *sol*, *lá* e *si*. Essas notas estão organizadas em ordem crescente de alturas, sendo a nota *dó* a mais baixa e a nota *si* a mais alta.

Considerando uma mesma oitava, a nota *si* é a que tem menor:

- A) amplitude.
- B) frequência.
- C) velocidade.
- D) intensidade.
- E) comprimento de onda.

**Questão 251 (2016.2)**

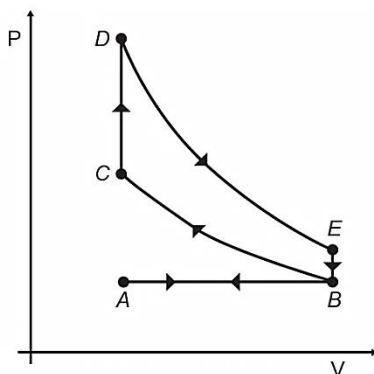
Um cosmonauta russo estava a bordo da estação espacial MIR quando um de seus rádios de comunicação quebrou. Ele constatou que dois capacitores do rádio de  $3\mu\text{F}$  e  $7\mu\text{F}$  ligados em série estavam queimados. Em função da disponibilidade, foi preciso substituir os capacitores defeituosos por um único capacitor que cumpria a mesma função.

Qual foi a capacitância, medida em  $\mu\text{F}$ , do capacitor utilizado pelo cosmonauta?

- A) 0,10
- B) 0,50
- C) 2,1
- D) 10
- E) 21

**Questão 252 (2016.2)**

O motor de combustão interna, utilizado no transporte de pessoas e cargas, é uma máquina térmica cujo ciclo consiste em quatro etapas: admissão, compressão, explosão/expansão e escape. Essas etapas estão representadas no diagrama da pressão em função do volume. Nos motores a gasolina, a mistura ar/combustível entra em combustão por uma centelha elétrica.



Para o motor descrito, em qual ponto do ciclo é produzida a centelha elétrica?

- A) A
- B) B
- C) C
- D) D
- E) E

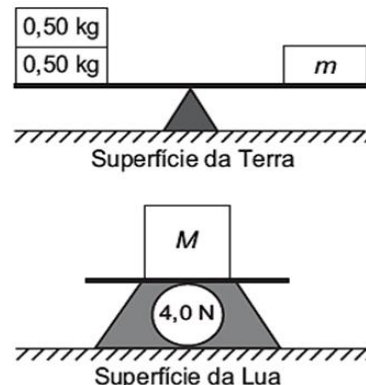
**Questão 253 (2016.2)**

Para um salto no Grand Canyon usando motos, dois paraquedistas vão utilizar uma moto cada, sendo que uma delas possui massa três vezes maior. Foram construídas duas pistas idênticas até a beira do precipício, de forma que no momento do salto as motos deixem a pista horizontalmente e ao mesmo tempo. No instante em que saltam, os paraquedistas abandonam suas motos e elas caem praticamente sem resistência do ar. As motos atingem o solo simultaneamente porque:

- A) possuem a mesma inércia.
- B) estão sujeitas à mesma força resultante.
- C) têm a mesma quantidade de movimento inicial.
- D) adquirem a mesma aceleração durante a queda.
- E) são lançadas com a mesma velocidade horizontal.

**Questão 254 (2016.2)**

A figura mostra uma balança de braços iguais, em equilíbrio, na Terra, onde foi colocada uma massa  $m$ , e a indicação de uma balança de força na Lua, onde a aceleração da gravidade é igual a  $1,6\text{m/s}^2$ , sobre a qual foi colocada uma massa  $M$ .



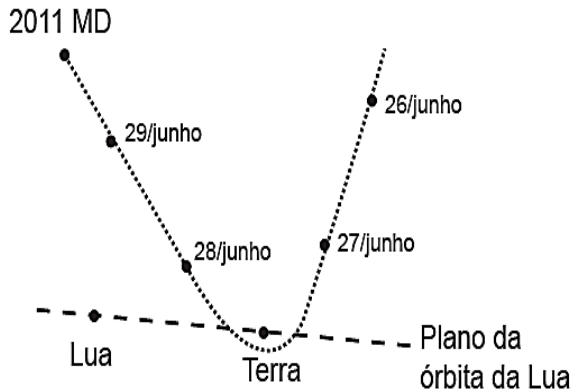
A razão das massas  $\frac{M}{m}$  é:

- A) 4,0.
- B) 2,5.
- C) 0,4.
- D) 1,0.
- E) 0,25.



**Questão 255 (2016.2)**

No dia 27 de junho de 2011, o asteroide 2011 MD, com cerca de 10 m de diâmetro, passou a 12 mil quilômetros do planeta Terra, uma distância menor do que a órbita de um satélite. A trajetória do asteroide é apresentada na figura.



A explicação física para a trajetória descrita é o fato de o asteroide:

- A) deslocar-se em um local onde a resistência do ar é nula.
- B) deslocar-se em um ambiente onde não há interação gravitacional.
- C) sofrer a ação de uma força resultante no mesmo sentido de sua velocidade.
- D) sofrer a ação de uma força gravitacional resultante no sentido contrário ao de sua velocidade.
- E) estar sob a ação de uma força resultante cuja direção é diferente da direção de sua velocidade.

**Questão 256 (2016.2)**

Para a instalação de um aparelho de ar condicionado, é sugerido que ele seja colocado na parte superior da parede do cômodo, pois a maioria dos fluidos (líquidos e gases), quando aquecidos, sofrem expansão, tendo sua densidade diminuída e sofrendo um deslocamento ascendente. Por sua vez, quando são resfriados, tornam-se mais densos e sofrem um deslocamento descendente.

A sugestão apresentada no texto minimiza o consumo de energia, porque:

- A) diminui a umidade do ar dentro do cômodo.
- B) aumenta a taxa de condução térmica para fora do cômodo.
- C) torna mais fácil o escoamento da água para fora do cômodo.
- D) facilita a circulação das correntes de ar frio e quente dentro do cômodo.
- E) diminui a taxa de emissão de calor por parte do aparelho para dentro do cômodo.

**Questão 257 (2016.2)**

Num dia em que a temperatura ambiente é de  $37^{\circ}\text{C}$ , uma pessoa, com essa mesma temperatura corporal, repousa à sombra. Para regular sua temperatura corporal e mantê-la constante, a pessoa libera calor através da evaporação do suor. Considere que a potência necessária para manter seu metabolismo é 120 W e que, nessas condições, 20% dessa energia é dissipada pelo suor, cujo calor de vaporização é igual ao da água (540 cal/g). Utilize 1 cal igual a 4 J.

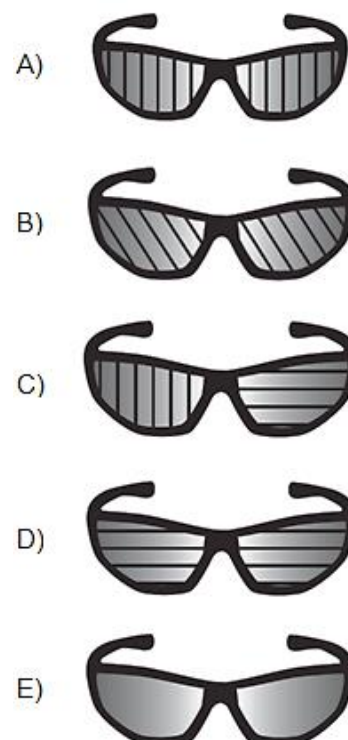
Após duas horas nessa situação, que quantidade de água essa pessoa deve ingerir para repor a perda pela transpiração?

- A) 0,8g
- B) 0,44g
- C) 1,30g
- D) 1,80g
- E) 80,0g

**Questão 258 (2016.2)**

Nas rodovias, é comum motoristas terem a visão ofuscada ao receberem a luz refletida na água empoçada no asfalto. Sabe-se que essa luz adquire polarização horizontal. Para solucionar esse problema, há a possibilidade de o motorista utilizar óculos de lentes constituídas por filtros polarizadores. As linhas nas lentes dos óculos representam o eixo de polarização dessas lentes.

Quais são as lentes que solucionam o problema descrito?





**Questão 259 (2016.3)**

Um navio petroleiro é capaz de transportar milhares de toneladas de carga. Neste caso, uma grande quantidade de massa consegue flutuar.

Nesta situação, o empuxo é:

- A) maior que a força peso do petroleiro.
- B) igual à força peso do petroleiro.
- C) maior que a força peso da água deslocada.
- D) igual à força peso do volume submerso do navio.
- E) igual à massa da água deslocada.

**Questão 260 (2016.3)**

Uma família adquiriu um televisor e, no manual do usuário, constavam as especificações técnicas, como apresentado no quadro.

Tensão de entrada	AC 100-240 V 50/60Hz
Consumo de potência	45 W
Potência em repouso	1 W

Esse televisor permaneceu 30 dias em repouso (*stand-by*). Considere que a eficiência entre a geração e a transmissão de eletricidade na usina é de 30%.

Que a quantidade de energia, em joules, foi produzida na usina para manter o televisor em *stand-by*?

- A) 2,59 MJ
- B) 6,05 MJ
- C) 8,64 MJ
- D) 117 MJ
- E) 377 MJ

**Questão 261 (2016.3)**

A utilização de placas de aquecimento solar como alternativa ao uso de energia elétrica representa um importante mecanismo de economia de recursos naturais.

Um sistema de aquecimento solar com capacidade de geração de energia de 1,0MJ/dia por metro quadrado de placa foi instalado para aquecer a água de um chuveiro elétrico de potência de 2kW, utilizado durante meia hora por dia.

A área mínima da placa solar deve ser de:

- A) 1,0 m<sup>2</sup>.
- B) 1,8 m<sup>2</sup>.
- C) 2,0 m<sup>2</sup>.
- D) 3,6 m<sup>2</sup>.
- E) 6,0 m<sup>2</sup>.

**Questão 262 (2016.2)**

Para reciclar um motor de potência elétrica igual a 200 W, um estudante construiu um elevador e verificou que ele foi capaz de erguer uma massa de 80kg a uma altura de 3 metros durante 1 minuto. Considere a aceleração da gravidade 10,0 m/s<sup>2</sup>.

Qual a eficiência aproximada do sistema para realizar tal tarefa?

- A) 10%
- B) 20%
- C) 40%
- D) 50%
- E) 100%

**Questão 263 (2016.3)**

A corrida dos 100 m rasos é uma das principais provas do atletismo e qualifica o homem mais rápido do mundo. Um corredor de elite foi capaz de percorrer essa distância em 10s, com 41 passadas. Ele iniciou a corrida com o pé direito.

O período de oscilação do pé direito desse corredor foi mais próximo de:

- A) 1/10 s.
- B) 1/4 s.
- C) 1/2 s.
- D) 2 s.
- E) 4 s.

**Questão 264 (2016.3)**

Em mídias como CDs, DVDs e blue-rays, a informação é representada na forma de bits (zeros e uns) e é fisicamente gravada e lida por feixes de luz laser.

Para gravar um valor "zero", o laser brilha intensamente, de modo a "queimar" (tornar opaca) uma pequena área do disco, de tamanho comparável a seu comprimento de onda.

Ao longo dos anos, as empresas de tecnologia vêm conseguindo aumentar a capacidade de armazenamento de dados em cada disco; em outras palavras, a área usada para se representar um bit vem se tornando cada vez mais reduzida.

Qual alteração da onda eletromagnética que constitui o laser permite o avanço tecnológico citado no texto?

- A) A diminuição de sua energia.
- B) O aumento de sua frequência.
- C) A diminuição de sua amplitude.
- D) O aumento de sua intensidade.
- E) A diminuição de sua velocidade.



**Questão 265 (2016.3)**

Os raios-X utilizados para diagnósticos médicos são uma radiação ionizante. O efeito das radiações ionizantes em um indivíduo depende basicamente da dose absorvida, do tempo de exposição e da forma de exposição, conforme relacionados no quadro.

Efeitos de uma radioexposição aguda em adulto		
Forma	Dose absorvida	Sintomatologia
Infraclínica	Menor que 1 J/kg	Ausência de sintomas
Reações gerais leves	de 1 a 2 J/kg	Astenia, náuseas e vômito, de 3 h a 6 h após a exposição
DL <sub>50</sub>	de 4 a 4,5 J/kg	Morte de 50% dos indivíduos irradiados
Pulmonar	de 8 a 9 J/kg	Insuficiência respiratória aguda, coma e morte, de 14 h a 36 h
Cerebral	Maior que 10 J/kg	Morte em poucas horas

(Disponível em: [www.cnen.gov.br](http://www.cnen.gov.br). Acesso em: 3 set. 2012 - adaptado)

Para um técnico radiologista de 90kg que ficou exposto, por descuido, durante 5 horas a uma fonte de raios X, cuja potência é de 10mJ/s, a forma do sintoma apresentado, considerando que toda radiação incidente foi absorvida, é:

- A) DL50.
- B) cerebral.
- C) pulmonar.
- D) infraclínica.
- E) reações gerais leves.

---

**Questão 266 (2016.3)**

Durante a formação de uma tempestade, são observadas várias descargas elétricas, os raios, que podem ocorrer: das nuvens para o solo (descarga ascendente), do solo para as nuvens (descarga descendente) ou entre uma nuvem e outra. As descargas ascendentes e descendentes podem ocorrer por causa do acúmulo de cargas elétricas positivas ou negativas, que induz uma polarização oposta no solo.

Essas descargas elétricas ocorrem devido ao aumento da intensidade do(a):

- A) campo magnético da Terra.
- B) corrente elétrica gerada dentro das nuvens.
- C) resistividade elétrica do ar entre as nuvens e a superfície da Terra.
- D) campo elétrico entre as nuvens e a superfície da Terra.
- E) força eletromotriz induzida nas cargas acumuladas no solo.

---

**Questão 267 (2016.3)**

Algumas crianças, ao brincarem de esconde-esconde, tapam os olhos com as mãos, acreditando que, ao adotarem tal procedimento, não poderão ser vistas.

Essa percepção da criança contraria o conhecimento científico porque, para serem vistos, os objetos:

- A) refletem partículas de luz (fótons), que atingem os olhos.
- B) geram partículas de luz (fótons), convertidas pela fonte externa.
- C) são atingidos por partículas de luz (fótons), emitidas pelos olhos.
- D) são atingidos por partículas de luz (fótons), que se chocam com os fótons emitidos pelos olhos.
- E) são atingidos pelas partículas de luz (fótons), emitidas pela fonte externa e pelos olhos.



**Questão 268 (2016.3)**

Todo ano, cresce a demanda mundial de energia com o aumento das populações e do consumo. É cada vez mais necessário buscar fontes alternativas que não degradem os recursos do planeta nem comprometam a sobrevivência das espécies. Ainda há muito o que se descobrir sobre o uso eficiente de recursos energéticos provenientes de fontes renováveis, mas elas não estão mais próximas do que parece da adoção em larga escala.

(BARBOSA, M. A sustentabilidade da energia renovável. Superinteressante, n. 102, 1996)

Os recursos energéticos do tipo citado são provenientes de:

- A) pilhas.
- B) usinas nucleares e hidrelétricas.
- C) células solares e geradores eólicos.
- D) centrais geotérmicas e termoelétricas.
- E) usinas maremotrizes e combustíveis fósseis.

**Questão 269 (2016.3)**

A telefonia móvel no Brasil opera com celulares cuja potência média de radiação é cerca de 0,6 W. Por recomendação do ANSI/IEEE, foram estipulados limites para exposição humana à radiação emitida por esses aparelhos. Para o entendimento dessa recomendação, valem os conselhos: segurar o aparelho a pequena distância do ouvido, usar fones de ouvido para as chamadas de voz e utilizar o aparelho no modo viva voz ou com dispositivos *bluetooth*. Essas medidas baseiam-se no fato de que a intensidade da radiação emitida decai rapidamente conforme a distância aumenta, por isso, afastar o aparelho reduz riscos.

(COSTA, E. A. F. Edeitos na saúde humana da exposição aos campos da radiofrequência. Disponível em: [www.ced.ufsc.br](http://www.ced.ufsc.br). Acesso em: 16 nov. 2011 - adp)

Para reduzir a exposição à radiação do celular de forma mais eficiente, o usuário deve utilizar:

- A) fones de ouvido, com aparelho na mão.
- B) fones de ouvido, com o aparelho no bolso da calça.
- C) fones *bluetooth*, com o aparelho no bolso da camisa.
- D) o aparelho mantido a 1,5cm do ouvido, segurado pela mão.
- E) o sistema viva voz, com o aparelho apoiado numa mesa de trabalho.

**Questão 270 (2016.3)**

Em 26 de dezembro de 2004, um tsunami devastador, originado a partir de um terremoto na costa da Indonésia, atingiu diversos países da Ásia, matando quase 300 mil pessoas.

O grau de devastação deveu-se, em boa parte, ao fato de as ondas de um tsunami serem extremamente longas, com comprimento de onda de cerca de 200km. Isto é muito maior que a espessura da lâmina de líquido,  $d$ , típica do Oceano Índico, que é de cerca de 4km.

Nessas condições, com boa aproximação, a sua velocidade de propagação torna-se dependente de  $d$ , obedecendo à relação  $v = \sqrt{gd}$ .

Nessa expressão,  $g$  é a aceleração da gravidade, que pode ser tomada como 10m/s<sup>2</sup>.

(SILVEIRA, F. L.; VARRIALE, M. C. Propagação das ondas marítimas e dos tsunamis. Caderno Brasileiro de Ensino de Física, n. 2, 2005 - adaptado)

Sabendo-se que o tsunami consiste em uma série de ondas sucessivas, qual é o valor mais próximo do intervalo de tempo entre duas ondas consecutivas?

- A) 1 min
- B) 3,6 min
- C) 17 min
- D) 60 min
- E) 216 min

**Questão 271 (2016.3)**

O choque elétrico é uma sensação provocada pela passagem de corrente elétrica pelo corpo. As consequências de um choque vão desde um simples susto até a morte.

A circulação das cargas elétricas depende da resistência do material. Para o corpo humano, essa resistência varia de 1000Ω, quando a pele está molhada, até 100000Ω, quando a pele está seca. Uma pessoa descalça, lavando sua casa com água, molhou os pés e, acidentalmente, pisou em um fio desencapado, sofrendo uma descarga elétrica em uma tensão de 120V.

Qual a intensidade máxima de corrente elétrica que passou pelo corpo da pessoa?

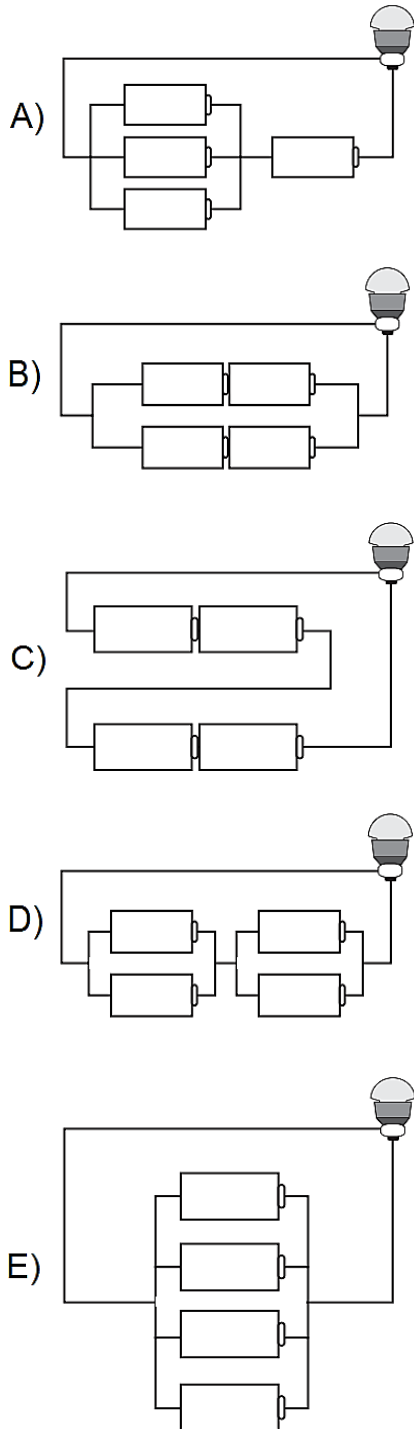
- A) 1,2 mA
- B) 120 mA
- C) 8,3 A
- D) 833 A
- E) 120 kA

**Questão 272 (2016.3)**

Em um laboratório, são apresentados aos alunos uma lâmpada, com especificações técnicas de 6V e 12W, e um conjunto de 4 pilhas de 1,5V cada.



Qual associação de geradores faz com que a lâmpada produza maior brilho?



**Questão 273 (2017.1)**

Em algumas residências, cercas eletrificadas são utilizadas com o objetivo de afastar possíveis invasores. Uma cerca eletrificada funciona com uma diferença de potencial elétrico de aproximadamente 10000 V. Para que não seja letal, a corrente que pode ser transmitida através de uma pessoa não deve ser maior do que 0,01 A.

Já a resistência elétrica corporal entre as mãos e os pés de uma pessoa é da ordem de 1000Ω.

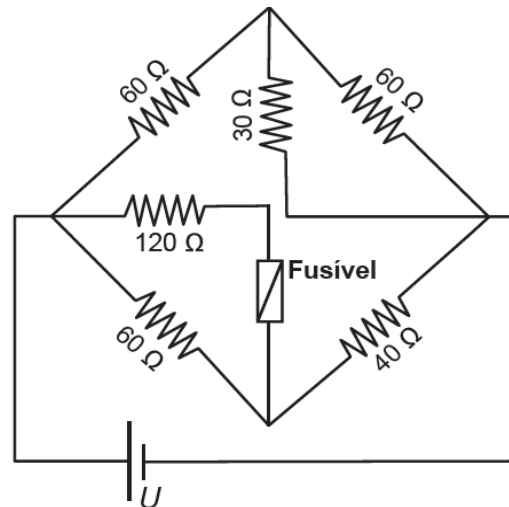
Para que a corrente não seja letal a uma pessoa que toca a cerca eletrificada, o gerador de tensão deve possuir uma resistência interna que, em relação à do corpo humano, é

- A) praticamente nula.
- B) aproximadamente igual.
- C) Milhares de vezes maior.
- D) da ordem de 10 vezes maior.
- E) da ordem de 10 vezes menor.

**Questão 274 (2017.1)**

Fusível é um dispositivo de proteção contra corrente em circuitos. Quando a corrente que passa por esse componente elétrico é maior que sua máxima corrente nominal, o fusível queima.

Dessa forma, evita que a corrente elevada danifique os aparelhos do circuito. Suponha que o circuito elétrico mostrado seja alimentado por uma corrente de tensão  $U$  e que o fusível suporte uma corrente nominal de 500 mA.



Qual é o máximo valor da tensão  $U$  para que o fusível não queime?

- A) 20 V
- B) 40 V
- C) 60 V
- D) 120 V
- E) 185 V

**Questão 275 (2017.1)**

As centrífugas são equipamentos utilizados em laboratórios, clínicas e indústrias. Seu funcionamento faz uso da aceleração centrífuga obtida pela rotação de um recipiente e que serve



para a separação de sólidos em suspensão em líquidos ou de líquidos misturados entre si.

(RODITI, I, Dicionário Houaiss de física  
Rio de Janeiro: Objetiva, 2005 - adaptado)

Nesse aparelho, a separação das substâncias ocorre em função:

- A) das diferentes densidades.
- B) dos diferentes raios de rotação.
- C) das diferentes Velocidades angulares.
- D) das diferentes quantidades de cada substância.
- E) da diferente coesão molecular de cada substância.

---

**Questão 276 (2017.1)**

Alguns tipos de dessalinizadores usam o processo de osmose reversa para obtenção de água potável a partir da água salgada. Nesse método, utiliza-se um recipiente contendo dois compartimentos separados por uma membrana semipermeável: em um deles coloca-se água salgada e no outro recolhe-se a água potável.

A aplicação de pressão mecânica no sistema faz a água fluir de um compartimento para o outro. O movimento das moléculas de água através da membrana é controlado pela pressão osmótica e pela pressão mecânica aplicada.

Para que ocorra esse processo é necessário que as resultantes das pressões osmótica e mecânica apresentem

- A) mesmo sentido e mesma intensidade.
- B) sentidos opostos e mesma intensidade.
- C) sentidos opostos e maior intensidade da pressão osmótica.
- D) mesmo sentido e maior intensidade da pressão osmótica.
- E) sentidos opostos e maior intensidade da pressão mecânica.

---

**Questão 277 (2017.1)**

Um motorista que atende a uma chamada de celular é levado à desatenção, aumentando a possibilidade de acidentes ocorrerem em razão do aumento de seu tempo de reação. Considere dois motoristas, o primeiro atento e o segundo utilizando o celular enquanto dirige. Eles aceleraram seus carros inicialmente a  $1,00 \text{ m/s}^2$ . Em resposta a uma emergência, freiam com uma desaceleração igual a  $5,00 \text{ m/s}^2$ . O motorista atento aciona o freio à velocidade de  $14,0 \text{ m/s}$ , enquanto o desatento, em situação análoga, leva  $1,00$  segundo a mais para iniciar a frenagem.

Que distância o motorista desatento percorre a mais do que o motorista atento, até a parada total dos carros?

- A) 2,90 m
- B) 14,0m
- C) 14,5 m
- D) 15,0m
- E) 17,4 m

---

**Questão 278 (2017.1)**

Para demonstrar o processo de transformação de energia mecânica em elétrica, um estudante constrói um pequeno gerador utilizando:

- um fio de cobre de diâmetro  $D$  enrolado em  $N$  espiras circulares de área  $A$ ;
- dois ímãs que criam no espaço entre eles um campo magnético uniforme de intensidade  $B$ ; e
- um sistema de engrenagens que lhe permite girar as espiras em torno de um eixo com uma frequência  $f$ .

Ao fazer o gerador funcionar, o estudante obteve uma tensão máxima  $V$  e uma corrente de curto-circuito  $i$ .

Para dobrar o valor da tensão máxima  $V$  do gerador mantendo constante o valor da corrente de curto  $i$ , o estudante deve dobrar o(a):

- A) número de espiras.
- B) frequência de giro.
- C) intensidade do campo magnético.
- D) área das espiras.
- E) diâmetro do fio.

---

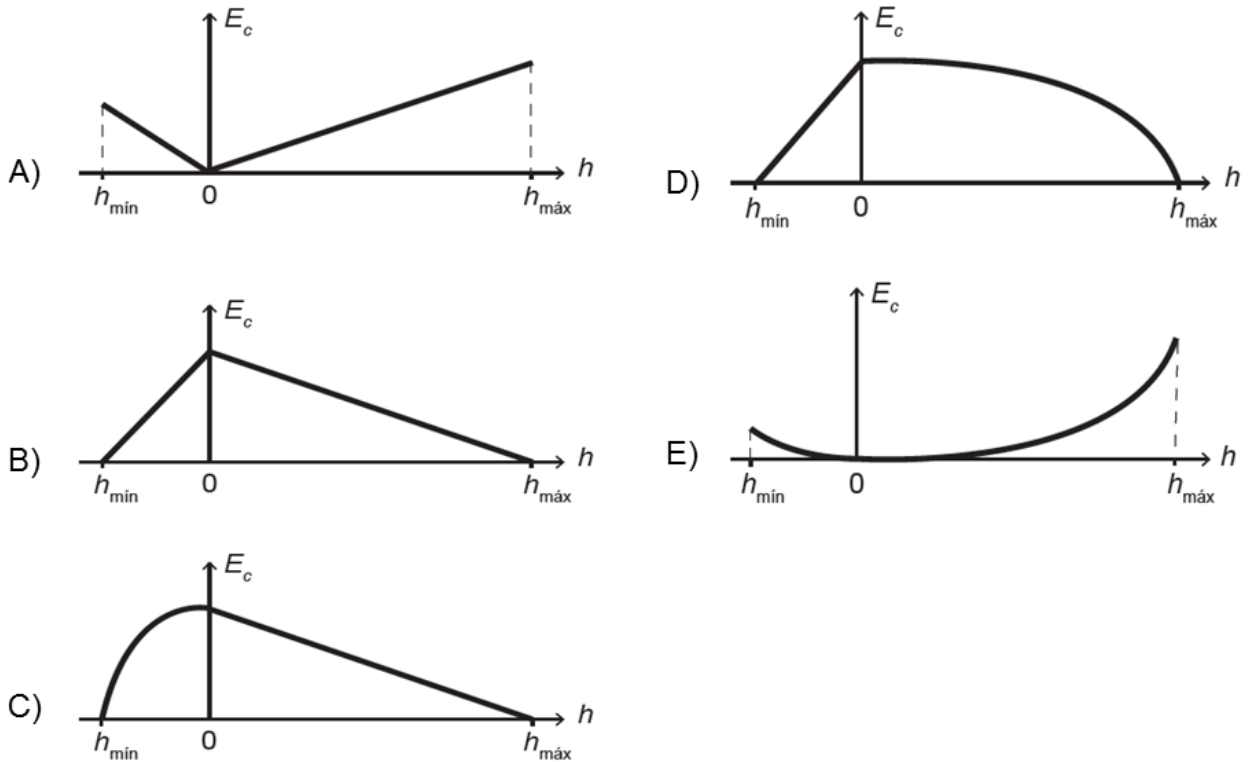
**Questão 279 (2017.1)**

O brinquedo pula-pula (cama elástica) é composto por uma lona circular flexível horizontal presa por molas à sua borda.

As crianças brincam pulando sobre ela, alterando e alternando suas formas de energia.

Ao pular verticalmente, desprezando o atrito com o ar e os movimentos de rotação do corpo enquanto salta, uma criança realiza um movimento periódico vertical em torno da posição de equilíbrio da lona ( $h = 0$ ), passando pelos pontos de máxima e de mínima alturas,  $h_{\text{máx}}$  e  $h_{\text{mín}}$ , respectivamente.

Esquemáticamente, o esboço do gráfico da energia cinética da criança em função de sua posição vertical na situação descrita é:

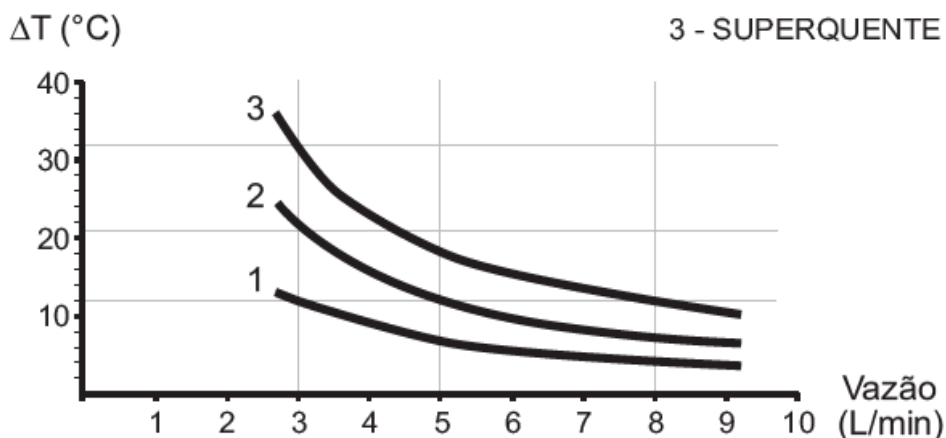


**Questão 280 (2017.1)**

No manual fornecido pelo fabricante de uma ducha elétrica de 220V é apresentado um gráfico com a variação da temperatura da água em função da vazão para três condições (morno, quente e superquente). Na condição superquente, a potência dissipada é de 6500 W. Considere o calor específico da água igual a 4200 J/(kg °C) e a densidade da água igual a 1 kg/L.

**Elevação de temperatura x Curva vazão**

- 1 - MORNO
- 2 - QUENTE
- 3 - SUPERQUENTE



Com base nas informações dadas, a potência na condição morno corresponde a que fração da potência na condição superquente?

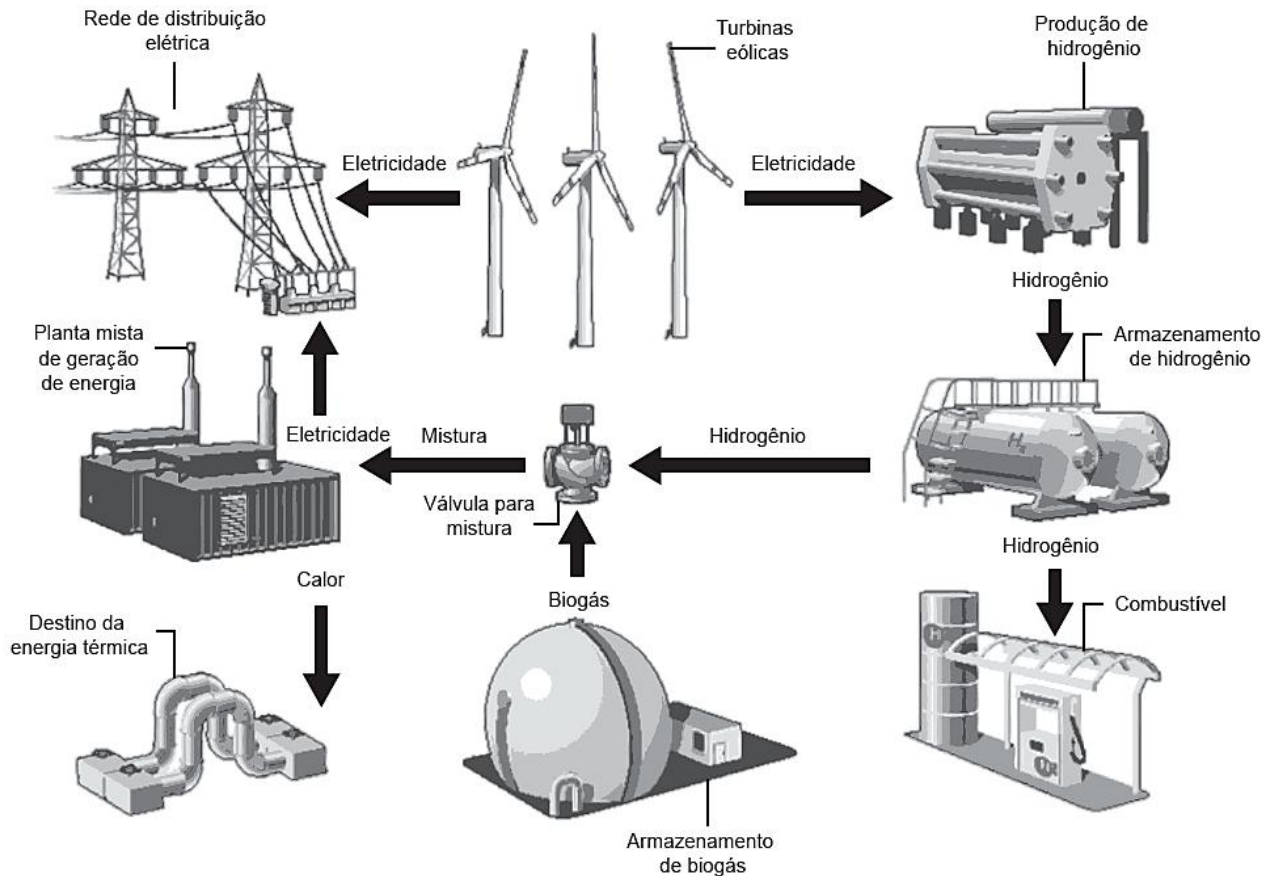
- A) 1/3
- B) 1/5
- C) 3/5
- D) 3/8
- E) 5/8





**Questão 281 (2017.1)**

A figura mostra o funcionamento de uma estação híbrida de geração de eletricidade movida a energia eólica e biogás. Essa estação possibilita que a energia gerada no parque eólico seja armazenada na forma de gás hidrogênio usado no fornecimento de energia para a rede elétrica comum e para abastecer células a combustível.



(Disponível em: [www.emertrag.com](http://www.emertrag.com). Acesso em: 24.abr.2015 - adaptado)

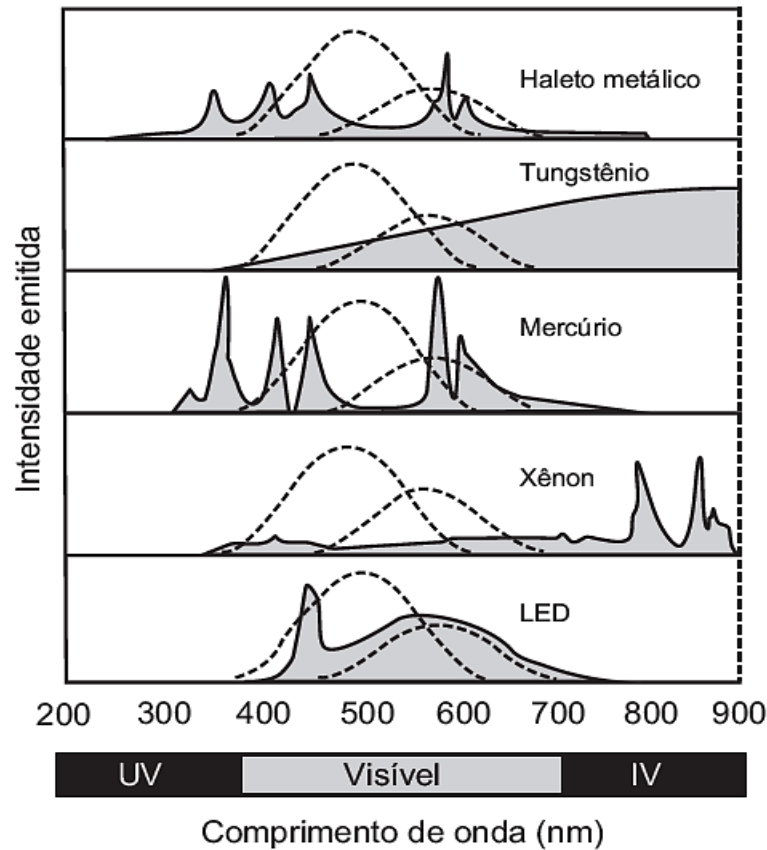
Mesmo com ausência de Ventos por curtos períodos, essa estação continua abastecendo a cidade onde está instalada, pois o(a):

- A) planta mista de geração de energia realiza eletrólise para enviar energia à rede de distribuição elétrica.
- B) hidrogênio produzido e armazenado é utilizado na combustão com o biogás para gerar calor e eletricidade.
- C) conjunto de turbinas continua girando com a mesma Velocidade, por inércia, mantendo a eficiência anterior.
- D) combustão da mistura biogás-hidrogênio gera diretamente energia elétrica adicional para a manutenção da estação.
- E) planta mista de geração de energia é capaz de utilizar todo o calor fornecido na combustão para a geração de eletricidade.

**Questão 282 (2017.1)**

A figura a seguir mostra como é a emissão de radiação eletromagnética para cinco tipos de lâmpada: haleto metálico, tungstênio, mercúrio, Xênon e LED (diodo emissor de luz). As áreas marcadas em cinza são proporcionais à intensidade da energia liberada pela lâmpada. As linhas pontilhadas mostram a sensibilidade do olho humano aos diferentes comprimentos de onda. UV e IV são as regiões do ultravioleta e do infravermelho, respectivamente.

Um arquiteto deseja iluminar uma sala usando uma lâmpada que produza boa iluminação, mas que não aqueça o ambiente.



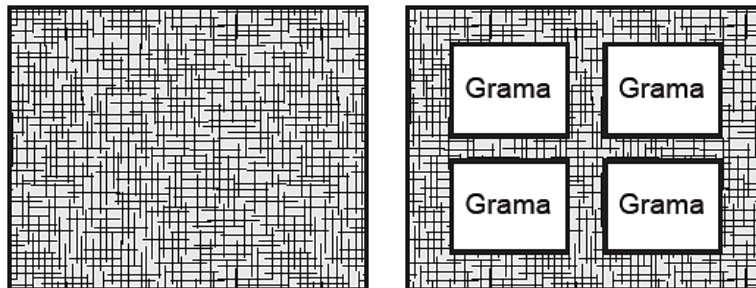
(Disponível em: <http://zeiss-campus.magnet.fsu.edu>. Acesso em: 8 maio 2017 - adaptado)

Qual tipo de lâmpada melhor atende ao desejo do arquiteto?

- A) Haleto metálico.
- B) Tungstênio.
- C) Mercúrio.
- D) Xênon.
- E) LED.

**Questão 283 (2017.1)**

Para se adequar às normas ambientais atuais, as construtoras precisam prever em suas obras a questão do uso de materiais de modo a minimizar os impactos causados no local. Entre esses materiais está o chamado concregrama ou pisograma, que é um tipo de revestimento composto por peças de concreto com áreas vazadas, preenchidas com solo gramado. As figuras apresentam essas duas formas de piso feito de concreto.



**Piso tradicional  
de concreto**

**Piso concregrama**

(PONTES, K. L. F. Estudo de caso de um protótipo experimental [...]. Disponível em: <http://monografias.poli.ufrj.br>. Acesso em: 9 maio 2017 - adaptado)

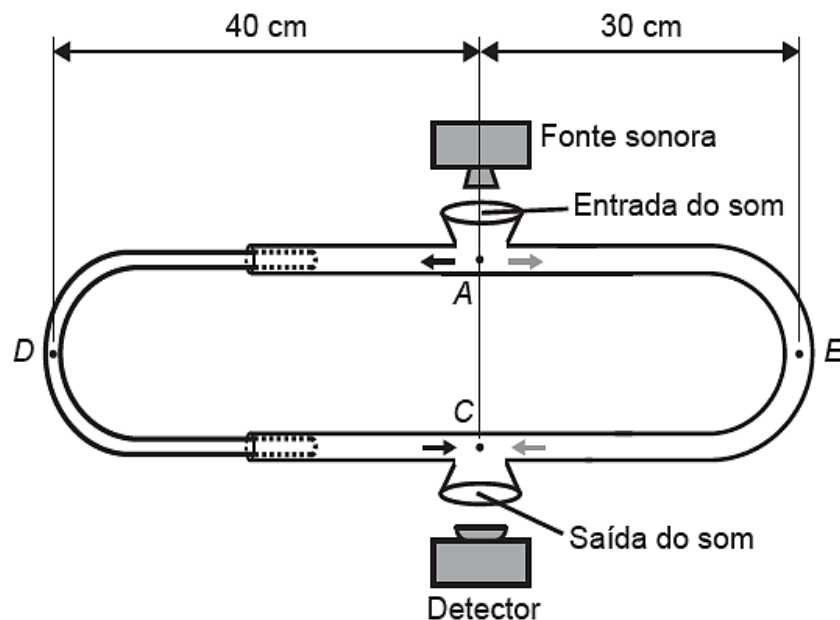


A utilização desse tipo de piso em uma obra tem o objetivo de evitar, no solo, a:

- A) impermeabilização.
- B) diminuição da temperatura.
- C) acumulação de matéria orgânica.
- d) alteração do PH.
- e) salinização.

**Questão 284 (2017.1)**

O trombone de Quincke é um dispositivo experimental utilizado para demonstrar o fenômeno da Interferência de ondas sonoras. Uma fonte emite ondas sonoras de determinada frequência na entrada do dispositivo. Essas ondas se dividem pelos dois caminhos (ADC e AEC) e se encontram no ponto C, a saída do dispositivo, onde se posiciona um detector. O trajeto ADC pode ser aumentado pelo deslocamento dessa parte do dispositivo. Com o trajeto ADC igual ao AEC, capta-se um som muito intenso na saída. Entretanto, aumentando-se gradativamente o trajeto ADC, até que ele fique como mostrado na figura, a intensidade do som na saída fica praticamente nula. Desta forma, conhecida a velocidade do som no interior do tubo (320 m/s), é possível determinar o valor da frequência do som produzido pela fonte.



O valor da frequência, em hertz, do som produzido pela fonte sonora é:

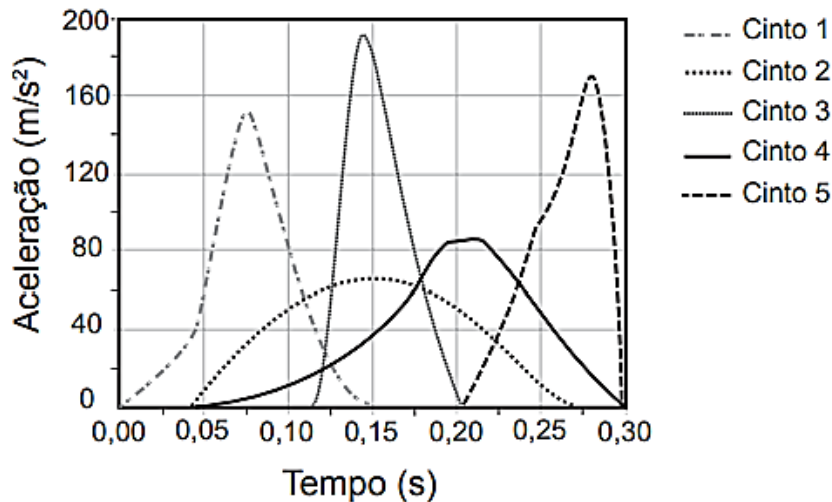
- A) 3200
- B) 1600
- C) 800
- D) 640
- E) 400.

**Questão 285 (2017.1)**

Em uma colisão frontal entre dois automóveis, a força que o cinto de Segurança exerce sobre o tórax e abdômen do motorista pode causar lesões graves nos órgãos internos. Pensando na segurança do seu produto, um fabricante de automóveis realizou testes em cinco modelos diferentes de cinto.

Os testes simularam uma colisão de 0,30 segundo de duração, e os bonecos que representavam os ocupantes foram equipados com acelerômetros. Esse equipamento registra o módulo da desaceleração do boneco em função do tempo.

Os parâmetros como massa dos bonecos, dimensões dos cintos e velocidade imediatamente antes e após o impacto foram os mesmos para todos os testes. O resultado final obtido está no gráfico, a seguir, de aceleração por tempo.

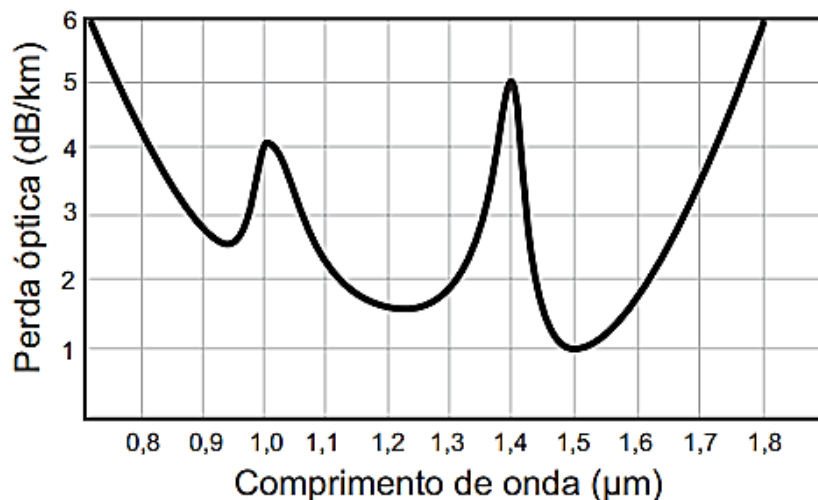


Qual modelo de cinto oferece menor risco de lesão interna ao motorista?

- A) 1
- B) 2
- C) 3
- D) 4
- E) 5

**Questão 286 (2017.1)**

Em uma linha de transmissão de informações por fibra óptica, quando um sinal diminui sua intensidade para valores inferiores a 10dB, este precisa ser retransmitido. No entanto, intensidades superiores a 100dB não podem ser transmitidas adequadamente. A figura apresenta como se dá a perda de sinal (perda óptica) para diferentes comprimentos de onda para certo tipo de fibra óptica.



(Atenuação e limitações das fibras ópticas. Disponível em: [www.gtauff.br](http://www.gtauff.br). Acesso em: 25 maio 2017 - adaptado)

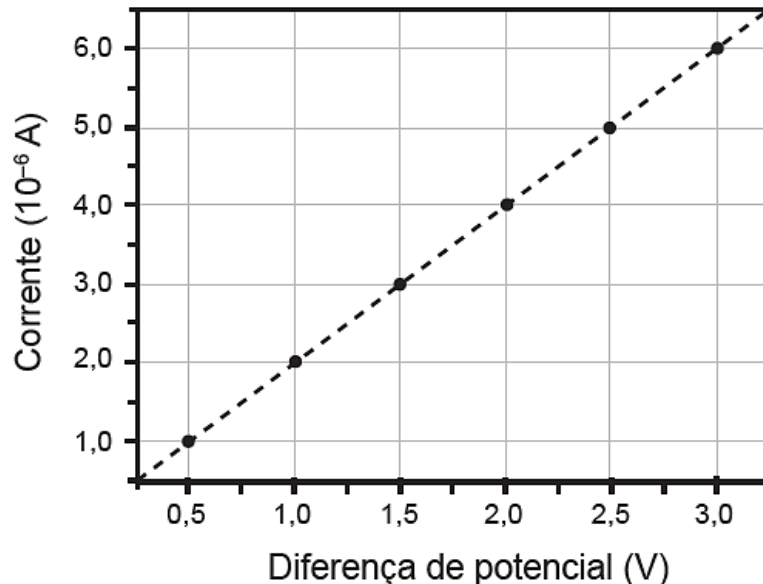
Qual é a máxima distância, em km, que um sinal pode ser enviado nessa fibra sem ser necessária uma retransmissão?

- A) 6
- B) 18
- C) 60
- D) 90
- E) 100



**Questão 287 (2017.1)**


Dispositivos eletrônicos que utilizam materiais de baixo custo, como polímeros semicondutores, têm sido desenvolvidos para monitorar a concentração de amônia (gás tóxico e incolor) em granjas avícolas. A polianilina é um polímero semicondutor que tem o valor de sua resistência elétrica nominal quadruplicado quando exposta a altas concentrações de amônia. Na ausência de amônia, a polianilina se comporta como um resistor ôhmico e a sua resposta elétrica é mostrada no gráfico.



O valor da resistência elétrica da polianilina na presença de altas concentrações de amônia, em ohm, é igual a:

- A)  $0,5 \times 10^0$ .
- B)  $2,0 \times 10^0$ .
- C)  $2,5 \times 10^5$ .
- D)  $5,0 \times 10^5$ .
- E)  $2,0 \times 10^6$ .

**Questão 288 (2017.2)**



(DAVIS, J. Disponível em: <http://garfield.com>. Acesso em: 15 ago. 2014)

A faixa espectral da radiação solar que contribui fortemente para o efeito mostrado na tirinha é caracterizada como:

- A) Visível.
- B) amarela.
- C) vermelha.
- D) ultravioleta.
- E) infravermelha.



**Questão 289 (2017.2)**

Ao sintonizar uma estação de rádio AM, o ouvinte está selecionando apenas uma dentre as inúmeras ondas que chegam à antena receptora do aparelho.

Essa seleção acontece em razão da ressonância do circuito receptor com a onda que se propaga.

O fenômeno físico abordado no texto é dependente de qual característica da onda?

- A) Amplitude.
- B) Polarização.
- C) Frequência.
- D) Intensidade.
- E) Velocidade.

---

**Questão 290 (2017.2)**

Sabe-se que a posição em que o Sol nasce ou se põe no horizonte muda de acordo com a estação do ano.

Olhando-se em direção ao poente, por exemplo, para um observador no Hemisfério Sul, o Sol se põe mais à direita no inverno do que no verão.

O fenômeno descrito deve-se à combinação de dois fatores: a inclinação do eixo de rotação terrestre e a

- A) precessão do periélio terrestre.
- B) translação da Terra em torno do Sol.
- C) nutação do eixo de rotação da Terra.
- D) precessão do eixo de rotação da Terra.
- E) rotação da Terra em torno de seu próprio eixo.

---

**Questão 291 (2017.2)**

A capacidade de uma bateria com acumuladores, tal como a usada no sistema elétrico de um automóvel, é especificada em Ampére-hora (Ah).

Uma bateria de 12 V e 100 Ah fornece 12 J para cada coulomb de carga que flui através dela.

Se um gerador, de resistência interna desprezível, que fornece uma potência elétrica média igual a 600 W, fosse conectado aos terminais da bateria descrita, quanto tempo ele levaria para recarregá-la completamente?

- A) 0.5 h
- B) 2 h
- C) 12 h
- D) 50 h
- E) 100 h

**Questão 292 (2017.2)**

Um estudante construiu um densímetro, esquematizado na figura, utilizando um canudinho e massa de modelar. O instrumento foi calibrado com duas marcas de flutuação, utilizando água (marca A) e etanol (marca B) como referências.



Em seguida o densímetro foi usado para avaliar cinco amostras: vinagre, leite integral, gasolina (sem álcool anidro), soro fisiológico e álcool comercial (92,8 °GL).

Que amostra apresentará marca de flutuação entre os limites A e B?

- A) Vinagre.
- B) Gasolina.
- C) Leite integral.
- D) Soro fisiológico.
- E) Álcool comercial.

---

**Questão 293 (2017.2)**

As lâmpadas econômicas transformam 80% da energia elétrica consumida em luz e dissipam os 20% restantes em forma de calor. Já as incandescentes transformam 20% da energia elétrica consumida em luz e dissipam o restante em forma de calor. Assim, quando duas dessas lâmpadas possuem luminosidades equivalentes, a econômica apresenta uma potência igual a um quarto da potência da incandescente.

Quando uma lâmpada incandescente de 60 W é substituída por uma econômica de mesma luminosidade, deixa-se de transferir para o ambiente, a cada segundo, uma quantidade de calor, em joule, igual a:

- A) 3.
- B) 12.
- C) 15.
- D) 45.
- E) 48.



**Questão 294 (2017.2)**

Uma lâmpada é conectada a duas pilhas de tensão nominal 1,5 V, ligadas em série. Um voltímetro, utilizado para medir a diferença de potencial na lâmpada, fornece uma leitura de 2,78 V e um amperímetro indica que a corrente no circuito é de 94,2 mA.

O valor da resistência interna das pilhas é mais próximo de:

- A) 0,021  $\Omega$
- B) 0,22  $\Omega$
- C) 0,26  $\Omega$
- D) 2,3  $\Omega$
- E) 29  $\Omega$

**Questão 295 (2017.2)**

O aproveitamento da luz solar como fonte de energia renovável tem aumentado significativamente nos últimos anos. Uma das aplicações é o aquecimento de água ( $\rho_{\text{água}} = 1 \text{ kg/L}$ ) para uso residencial. Em um local, a intensidade da radiação solar efetivamente captada por um painel solar com área de  $1 \text{ m}^2$  é de  $0,03 \text{ kW/m}^2$  o valor do calor específico da água é igual  $4,2 \text{ kJ/(kg } ^\circ\text{C)}$ .

Nessa situação, em quanto tempo é possível aquecer 1 litro de água de  $20 \text{ } ^\circ\text{C}$  até  $70 \text{ } ^\circ\text{C}$ ?

- A) 490 s
- B) 2800 s
- C) 6300 s
- D) 7000 s
- E) 9800 s

**Questão 296 (2017.2)**

A aquisição de um telescópio deve levar em consideração diversos fatores, entre os quais estão o aumento angular, a resolução ou poder de separação e a magnitude limite. O aumento angular informa quantas vezes mais próximo de nós percebemos o objeto observado e é calculado como sendo a razão entre as distâncias focais da objetiva ( $F_1$ ) e da ocular ( $F_2$ ). A resolução do telescópio ( $P$ ) informa o menor ângulo que deve existir entre dois pontos observados para que seja possível distingui-los. A magnitude limite ( $M$ ) indica o menor brilho que um telescópio pode captar. Os valores numéricos de  $P$  e  $M$  são calculados pelas expressões:

$$P = \frac{12}{D} \text{ e } M = 7,1 + 5(\log D)$$

Em que  $D$  é o valor numérico do diâmetro da objetiva do telescópio, expresso em centímetro.

(Disponível em: [www.telescopioastronomicos.com.br](http://www.telescopioastronomicos.com.br). Acesso em: 13 maio 2013 - adaptado)

Ao realizar a observação de um planeta distante e de baixa luminosidade, não se obteve uma imagem nítida. Para melhorar a qualidade dessa observação, os valores de  $D$ ,  $F_1$ , e  $F_2$  devem ser, respectivamente,

- A) aumentado, aumentado e diminuído.
- B) aumentado, diminuído e aumentado.
- C) aumentado, diminuído e diminuído.
- D) diminuído, aumentado e aumentado.
- E) diminuído, aumentado e diminuído.

**Questão 297 (2017.2)**

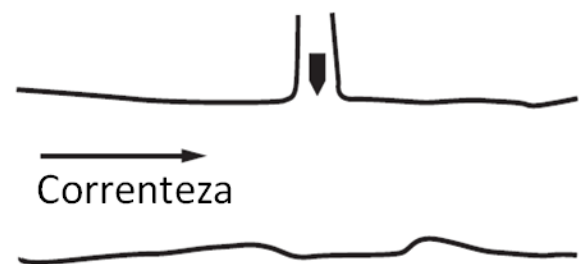
As especificações de um chuveiro elétrico são: potência de 4000 W, consumo máximo mensal de 21,6 kWh e vazão máxima de 3 L/min. Em um mês, durante os banhos, esse chuveiro foi usado com vazão máxima, consumindo o valor máximo de energia especificado. O calor específico da água é de  $4200 \text{ J/(kg } ^\circ\text{C)}$  e sua densidade é igual a  $1 \text{ kg/L}$ .

A variação da temperatura da água usada nesses banhos foi mais próxima de

- A)  $16 \text{ } ^\circ\text{C}$ .
- B)  $19 \text{ } ^\circ\text{C}$ .
- C)  $37 \text{ } ^\circ\text{C}$ .
- D)  $57 \text{ } ^\circ\text{C}$ .
- E)  $60 \text{ } ^\circ\text{C}$ .

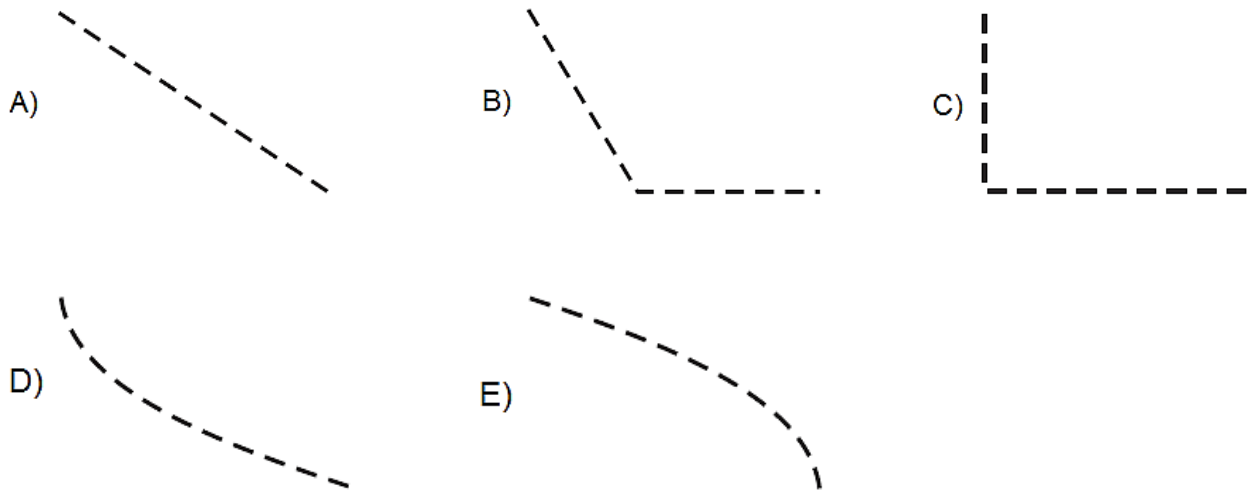
**Questão 298 (2017.2)**

Um longo trecho retilíneo de um rio tem um afluente perpendicular em sua margem esquerda, conforme mostra a figura.



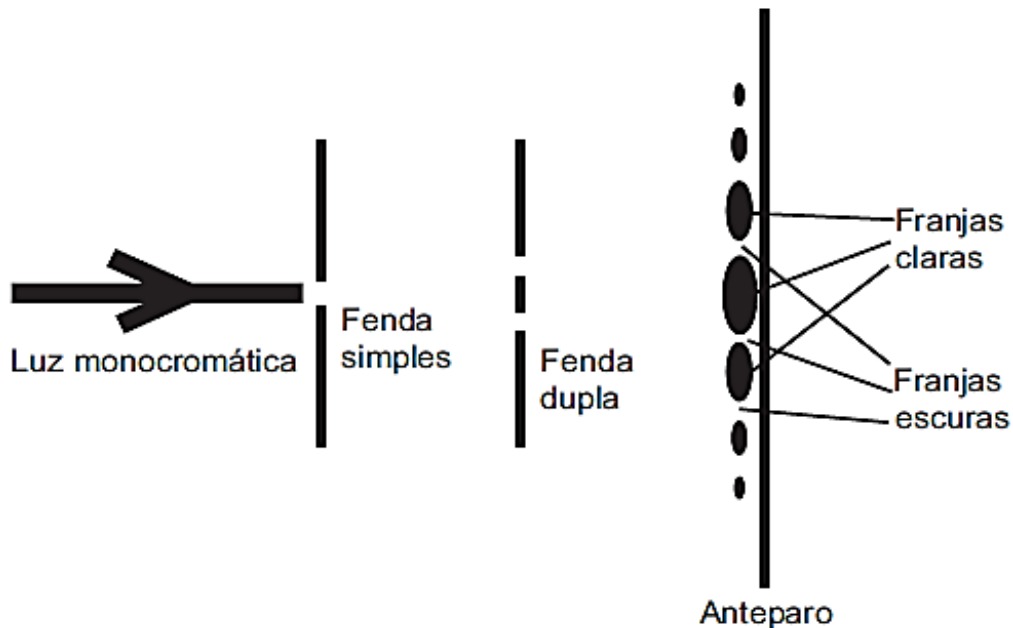
Observando de cima, um barco trafega com velocidade constante pelo afluente para entrar no rio. Sabe-se que a velocidade da correnteza desse rio varia uniformemente, sendo muito pequena junto à margem e máxima no meio. O barco entra no rio e é arrastado lateralmente pela correnteza, mas o navegador procura mantê-lo sempre na direção perpendicular à correnteza do rio e o motor acionado com a mesma potência.

Pelas condições descritas, a trajetória que representa o movimento seguido pelo barco é:



**Questão 299 (2017.2)**

O debate a respeito da natureza da luz perdurou por séculos, oscilando entre a teoria corpuscular e a teoria ondulatória. No início do século XIX, Thomas Young, com a finalidade de auxiliar na discussão, realizou o experimento apresentado de forma simplificada na figura. Nele, um feixe de luz monocromática passa por dois anteparos com fendas muito pequenas. No primeiro anteparo há uma fenda e no segundo, duas fendas. Após passar pelo segundo conjunto de fendas, a luz forma um padrão com franjas claras e escuras.



(SILVA, F. W. O. A evolução da teoria ondulatória da luz e os livros didáticos. Revista Brasileira de Ensino de Física, n. 1, 2007 - adaptado)

Com esse experimento, Young forneceu fortes argumentos para uma interpretação a respeito da natureza da luz, baseada em uma teoria:

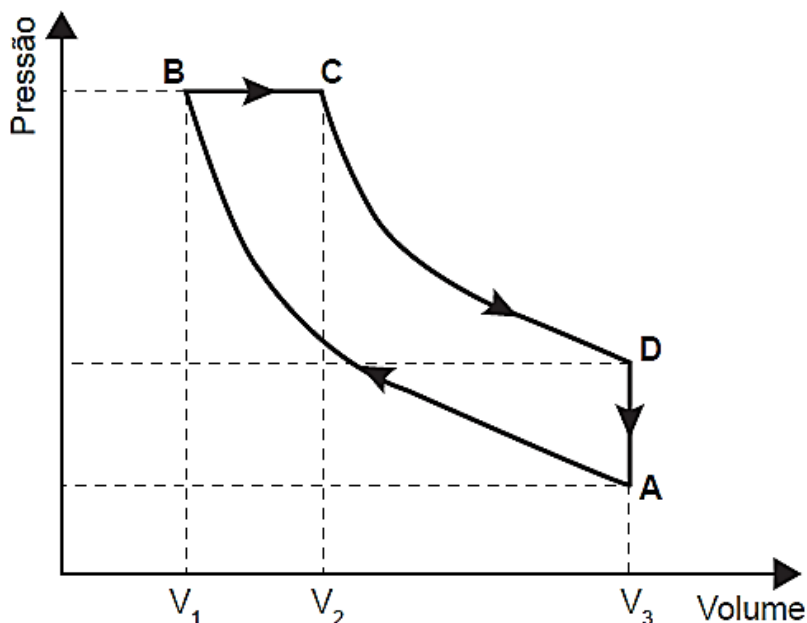
- A) corpuscular, justificada pelo fato de, no experimento, a luz sofrer dispersão e refração.
- B) corpuscular, justificada pelo fato de, no experimento, a luz sofrer dispersão e reflexão.
- C) ondulatória, justificada pelo fato de, no experimento, a luz sofrer difração e polarização.
- D) ondulatória, justificada pelo fato de, no experimento, a luz sofrer interferência e reflexão.
- E) ondulatória, justificada pelo fato de, no experimento, a luz sofrer difração e interferência.





**Questão 300 (2017.2)**

Rudolf Diesel patenteou um motor a combustão interna de elevada eficiência, cujo ciclo está esquematizado no diagrama pressão x volume. O ciclo Diesel é composto por quatro etapas, duas das quais são transformações adiabáticas. O motor de Diesel é caracterizado pela compressão de ar apenas, com a injeção do combustível no final.



No ciclo Diesel, o calor é absorvido em:

- A)  $A \rightarrow B$  e  $C \rightarrow D$ , pois em ambos ocorre realização de trabalho.
- B)  $A \rightarrow B$  e  $B \rightarrow C$ , pois em ambos ocorre elevação da temperatura.
- C)  $C \rightarrow D$ , pois representa uma expansão adiabática e o sistema realiza trabalho.
- D)  $A \rightarrow B$ , pois representa uma compressão adiabática em que ocorre elevação da temperatura.
- E)  $B \rightarrow C$ , pois representa expansão isobárica em que o sistema realiza trabalho e a temperatura se eleva.

**Questão 301 (2017.2)**

A figura mostra a bateria de um computador portátil, a qual necessita de uma corrente elétrica de 2 A para funcionar corretamente.



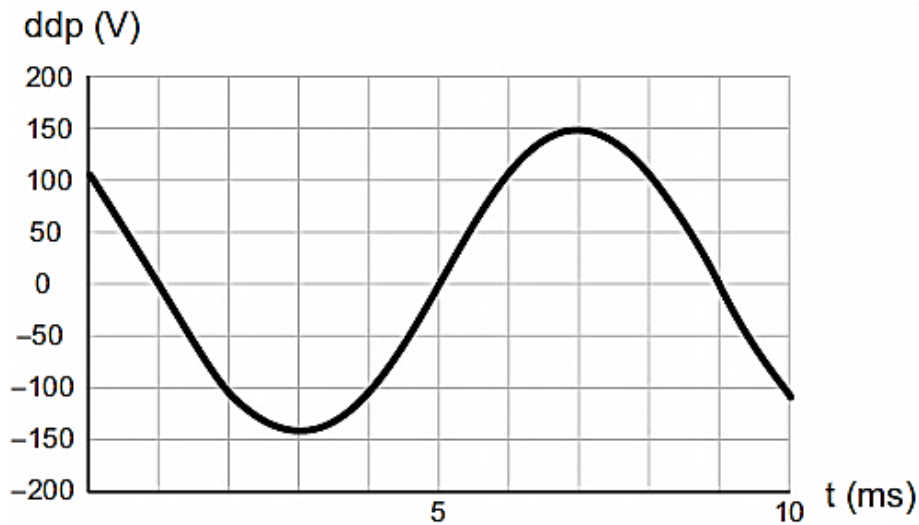
Quando a bateria está completamente carregada, o tempo máximo, em minuto, que esse notebook pode ser usado antes que ela "descarregue" completamente é

- A) 24,4.
- B) 36,7.
- C) 132.
- D) 333.
- E) 528.



**Questão 302 (2017.2)**

O osciloscópio é um instrumento que permite observar uma diferença de potencial (ddp) em um circuito elétrico em função do tempo ou em função de outra ddp. A leitura do sinal é feita em uma tela sob a forma de um gráfico tensão x tempo.



(BOMFIM, M. Disponível em: [www.ufpr.br](http://www.ufpr.br). Acesso em: 14 ago. 2012 - adaptado)

A frequência de oscilação do circuito elétrico estudado é mais próxima de:

- A) 300 Hz.
- B) 250 Hz.
- C) 200 Hz.
- D) 150 Hz.
- E) 125 Hz.

---

**Questão 303 (2018.1)**

As pessoas que utilizam objetos cujo princípio de funcionamento é o mesmo do das alavancas aplicam uma força, chamada de força potente, em um dado ponto da barra, para superar ou equilibrar uma segunda força, chamada de resistente, em outro ponto da barra. Por causa das diferentes distâncias entre os pontos de aplicação das forças, potente e resistente, os seus efeitos também são diferentes. A figura mostra alguns exemplos desses objetos.



Em qual dos objetos a força potente é maior que a força resistente?

- A) Pinça.
- B) Alicate.
- C) Quebra-nozes.
- D) Carrinho de mão.
- E) Abridor de garrafa.



**Questão 304 (2018.1)**

A tecnologia de comunicação da etiqueta RFID (chamada de etiqueta inteligente) é usada há anos para rastrear gado, vagões de trem, bagagem aérea e carros nos pedágios. Um modelo mais barato dessas etiquetas pode funcionar sem baterias e é constituído por três componentes: um microprocessador de silício; uma bobina de metal, feita de cobre ou de alumínio, que é enrolada em um padrão circular; e um encapsulador, que é um material de vidro ou polímero envolvendo o microprocessador e a bobina. Na presença de um campo de radiofrequência gerado pelo leitor, a etiqueta transmite sinais. A distância de leitura é determinada pelo tamanho da bobina e pela potência da onda de rádio emitida pelo leitor.

(Disponível em: <http://eletronicos.hsw.uol.com.br>. Acesso em: 27 fev. 2012 - adaptado)

A etiqueta funciona sem pilhas porque o campo:

- A) elétrico da onda de rádio agita elétrons da bobina.
- B) elétrico da onda de rádio cria uma tensão na bobina.
- C) magnético da onda de rádio induz corrente na bobina.
- D) magnético da onda de rádio aquece os fios da bobina.
- E) magnético da onda de rádio diminui a ressonância no interior da bobina.

**Questão 305 (2018.1)**

O sonorizador é um dispositivo físico implantado sobre a superfície de uma rodovia de modo que provoque uma trepidação e ruído quando da passagem de um veículo sobre ele, alertando para uma situação atípica à frente, como obras, pedágios ou travessia de pedestres. Ao passar sobre os sonorizadores, a suspensão do veículo sofre vibrações que produzem ondas sonoras, resultando em um barulho peculiar. Considere um veículo que passe com velocidade constante igual a 108 km/h sobre um sonorizador cujas faixas são separadas por uma distância de 8 cm.

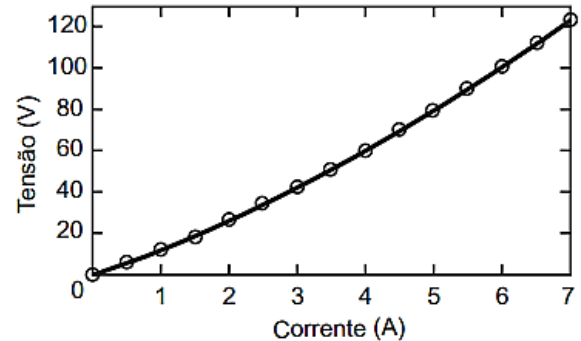
(Disponível em: [www.denatran.gov.br](http://www.denatran.gov.br). Acesso em: 2 set. 2015 adaptado)

A frequência da vibração do automóvel percebida pelo condutor durante a passagem nesse sonorizador é mais próxima de:

- A) 8,6 hertz.
- B) 13,5 hertz.
- C) 375 hertz.
- D) 1350 hertz.
- E) 4860 hertz.

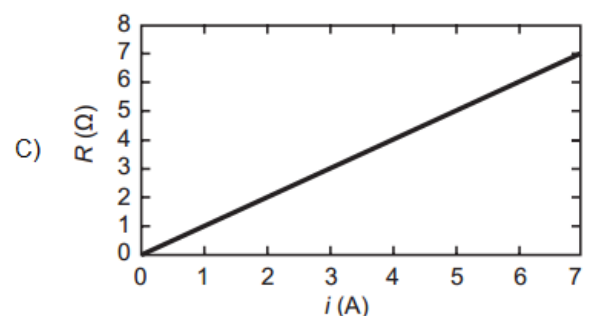
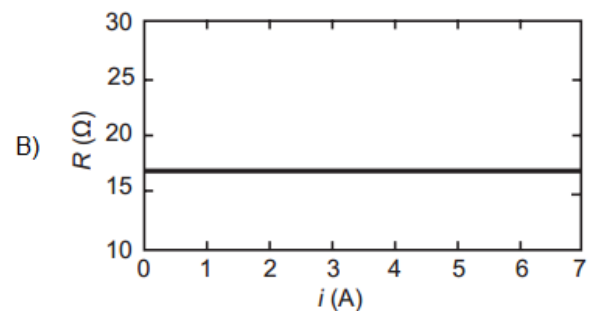
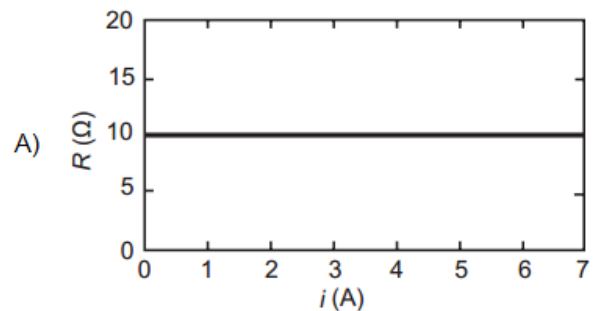
**Questão 306 (2018.1)**

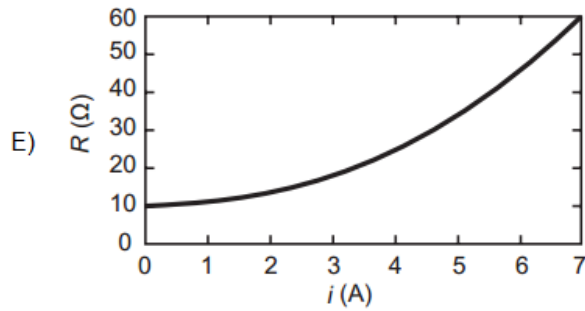
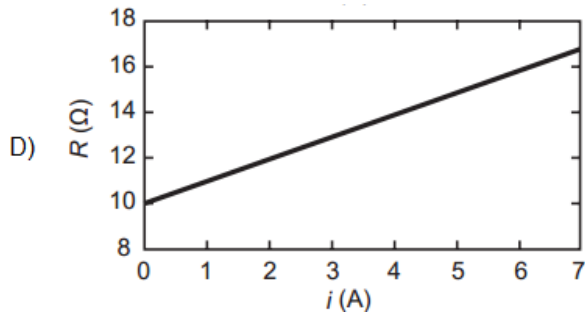
Ao pesquisar um resistor feito de um novo tipo de material, um cientista observou o comportamento mostrado no gráfico tensão *versus* corrente.



Após a análise do gráfico, ele concluiu que a tensão em função da corrente é dada pela equação  $V = 10i + i^2$ .

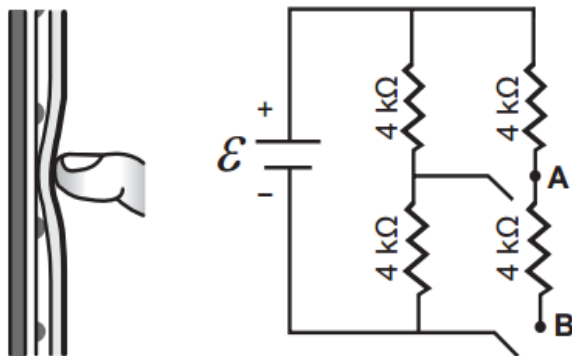
O gráfico da resistência elétrica ( $R$ ) do resistor em função da corrente ( $i$ ) é: D)





**Questão 307 (2018.1)**

Muitos *smartphones* e *tablets* não precisam mais de teclas, uma vez que todos os comandos podem ser dados ao se pressionar a própria tela. Inicialmente essa tecnologia foi proporcionada por meio das telas resistivas, formadas basicamente por duas camadas de material condutor transparente que não se encostam até que alguém as pressione, modificando a resistência total do circuito de acordo com o ponto onde ocorre o toque. A imagem é uma simplificação do circuito formado pelas placas, em que **A** e **B** representam pontos onde o circuito pode ser fechado por meio do toque.



Qual é a resistência equivalente no circuito provocada por um toque que fecha o circuito no ponto A?

- A) 1,3 k $\Omega$
- B) 4,0 k $\Omega$
- C) 6,0 k $\Omega$
- D) 6,7 k $\Omega$
- E) 12,0 k $\Omega$

**Questão 308 (2018.1)**

Alguns peixes, como o poraquê, a enguia-elétrica da Amazônia, podem produzir uma corrente elétrica quando se encontram em perigo. Um poraquê de 1 metro de comprimento, em perigo, produz uma corrente em torno de 2 amperes e uma voltagem de 600 volts.

O quadro apresenta a potência aproximada de equipamentos elétricos.

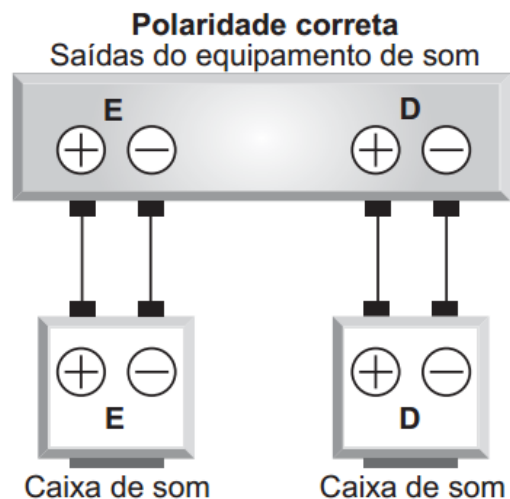
Equipamento elétrico	Potência aproximada (watt)
Exaustor	150
Computador	300
Aspirador de pó	600
Churrasqueira elétrica	1 200
Secadora de roupas	3 600

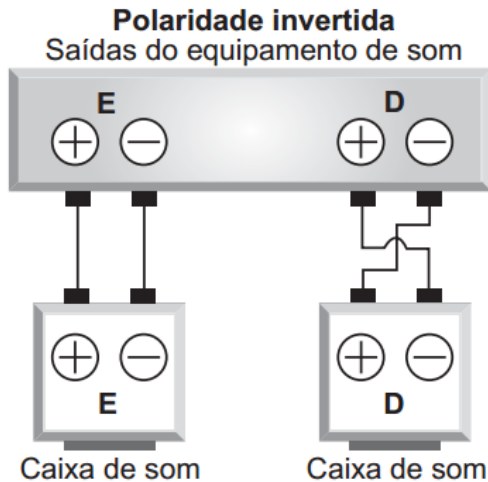
O equipamento elétrico que tem potência similar àquela produzida por esse peixe em perigo é o(a)

- A) exaustor.
- B) computador.
- C) aspirador de pó.
- D) churrasqueira elétrica.
- E) secadora de roupas.

**Questão 309 (2018.1)**

Nos manuais de instalação de equipamentos de som há o alerta aos usuários para que observem a correta polaridade dos fios ao realizarem as conexões das caixas de som. As figuras ilustram o esquema de conexão das caixas de som de um equipamento de som mono, no qual os alto-falantes emitem as mesmas ondas. No primeiro caso, a ligação obedece às especificações do fabricante e no segundo mostra uma ligação na qual a polaridade está invertida.





O que ocorre com os alto-falantes **E** e **D** se forem conectados de acordo com o segundo esquema?

- A) O alto-falante **E** funciona normalmente e o **D** entra em curto-circuito e não emite som.
- B) O alto-falante **E** emite ondas sonoras com frequências ligeiramente diferentes do alto-falante **D** provocando o fenômeno de batimento.
- C) O alto-falante **E** emite ondas sonoras com frequências e fases diferentes do alto-falante **D** provocando o fenômeno conhecido como ruído.
- D) O alto-falante **E** emite ondas sonoras que apresentam um lapso de tempo em relação às emitidas pelo alto-falante **D** provocando o fenômeno de reverberação.
- E) O alto-falante **E** emite ondas sonoras em oposição de fase às emitidas pelo alto-falante **D** provocando o fenômeno de interferência destrutiva nos pontos equidistantes aos alto-falantes.

**Questão 310 (2018.1)**

Visando a melhoria estética de um veículo, o vendedor de uma loja sugere ao consumidor que ele troque as rodas de seu automóvel de aro 15 polegadas para aro 17 polegadas, o que corresponde a um diâmetro maior do conjunto roda e pneu.

Duas consequências provocadas por essa troca de aro são:

- A) Elevar a posição do centro de massa do veículo tornando-o mais instável e aumentar a velocidade do automóvel em relação à indicada no velocímetro.
- B) Abaixar a posição do centro de massa do veículo tornando-o mais instável e diminuir a velocidade do automóvel em relação à indicada no velocímetro.
- C) Elevar a posição do centro de massa do veículo tornando-o mais estável e aumentar a velocidade do automóvel em relação à indicada no velocímetro.

D) Abaixar a posição do centro de massa do veículo tornando-o mais estável e diminuir a velocidade do automóvel em relação à indicada no velocímetro.

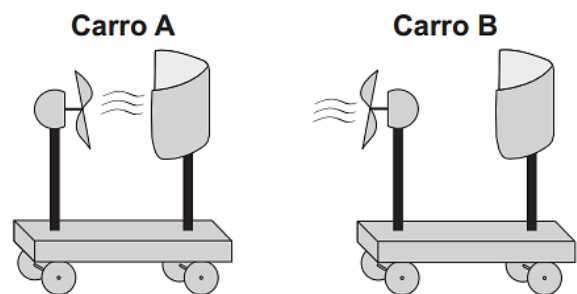
E) Elevar a posição do centro de massa do veículo tornando-o mais estável e diminuir a velocidade do automóvel em relação à indicada no velocímetro.

**Questão 311 (2018.1)**

Em desenhos animados é comum vermos a personagem tentando impulsionar um barco soprando ar contra a vela para compensar a falta de vento. Algumas vezes usam o próprio fôlego, foles ou ventiladores.

Estudantes de um laboratório didático resolveram investigar essa possibilidade. Para isso, usaram dois pequenos carros de plástico, **A** e **B**, instalaram sobre estes pequenas ventoinhas e fixaram verticalmente uma cartolina de curvatura parabólica para desempenhar uma função análoga à vela de um barco. No carro **B** inverteu-se o sentido da ventoinha e manteve-se a vela, a fim de manter as características físicas do barco, massa e formato da cartolina. As figuras representam os carros produzidos. A montagem do carro **A** busca simular a situação dos desenhos animados, pois a ventoinha está direcionada para a vela.

Com os carros orientados de acordo com as figuras, os estudantes ligaram as ventoinhas, aguardaram o fluxo de ar ficar permanente e determinaram os módulos das velocidades médias dos carros **A** ( $V_A$ ) e **B** ( $V_B$ ) para o mesmo intervalo de tempo.



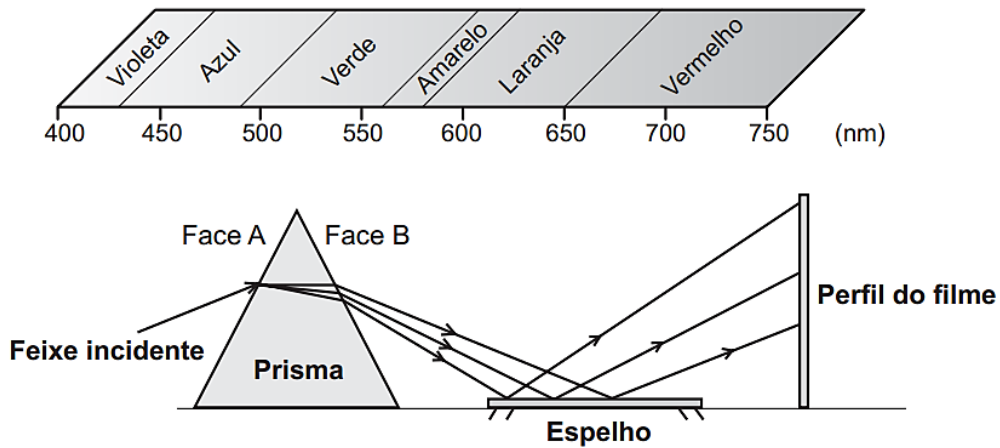
A respeito das intensidades das velocidades médias e do sentido de movimento do carro **A**, os estudantes observaram que:

- A)  $V_A = 0$ ;  $V_B > 0$ ; o carro **A** não se move.
- B)  $0 < V_A < V_B$ ; o carro **A** se move para a direita.
- C)  $0 < V_A < V_B$ ; o carro **A** se move para a esquerda.
- D)  $0 < V_B < V_A$ ; o carro **A** se move para a direita.
- E)  $0 < V_B < V_A$ ; o carro **A** se move para a esquerda.



**Questão 312 (2018.1)**

A figura representa um prisma óptico, constituído de um material transparente, cujo índice de refração é crescente com a frequência da luz que sobre ele incide. Um feixe luminoso, composto por luzes vermelha, azul e verde, incide na face A, emerge na face B e, após ser refletido por um espelho. Incide num filme para fotografia colorida, revelando três pontos.

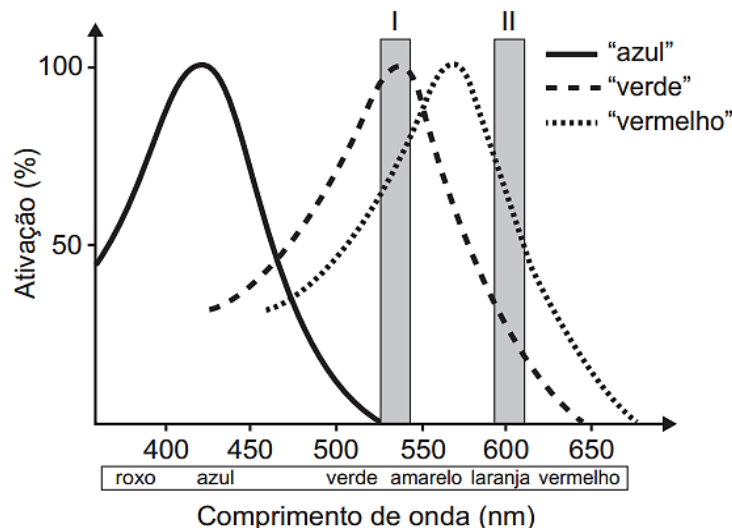


Observando os pontos luminosos revelados no filme, de baixo para cima, constatam-se as seguintes cores:

- A) Vermelha, verde, azul.
- B) Verde, vermelha, azul.
- C) Azul, verde, vermelha.
- D) Verde, azul, vermelha.
- E) Azul, vermelha, verde.

**Questão 313 (2018.1)**

Muitos primatas, incluindo nós humanos, possuem visão tricromática: têm três pigmentos visuais na retina sensíveis à luz de uma determinada faixa de comprimentos de onda. Informalmente, embora os pigmentos em si não possuam cor, estes são conhecidos como pigmentos “azul”, “verde” e “vermelho” e estão associados à cor que causa grande excitação (ativação). A sensação que temos ao observar um objeto colorido decorre da ativação relativa dos três pigmentos. Ou seja, se estimulássemos a retina com uma luz na faixa de 530 nm (retângulo I no gráfico), não excitaríamos o pigmento “azul”, o pigmento “verde” seria ativado ao máximo e o “vermelho” seria ativado em aproximadamente 75%, e isso nos daria a sensação de ver uma cor amarelada. Já uma luz na faixa de comprimento de onda de 600 nm (retângulo II) estimularia o pigmento “verde” um pouco e o “vermelho” em cerca de 75%, e isso nos daria a sensação de ver laranja-avermelhado. No entanto, há características genéticas presentes em alguns indivíduos, conhecidas coletivamente como Daltonismo, em que um ou mais pigmentos não funcionam perfeitamente.



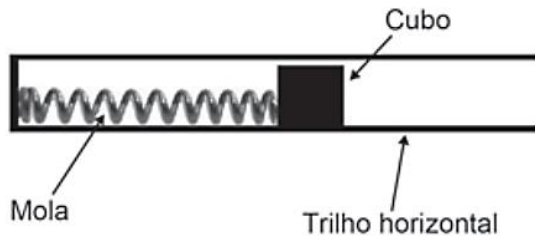


Caso estimulássemos a retina de um indivíduo com essa característica, que não possuísse o pigmento conhecido como “verde”, com as luzes de 530 nm e 600 nm na mesma intensidade luminosa, esse indivíduo seria incapaz de:

- A) Identificar o comprimento de onda do amarelo, uma vez que não possui o pigmento “verde”.
- B) ver o estímulo de comprimento de onda laranja, pois não haveria estimulação de um pigmento visual.
- C) detectar ambos os comprimentos de onda, uma vez que a estimulação dos pigmentos estaria prejudicada.
- D) visualizar o estímulo do comprimento de onda roxo, já que este se encontra na outra ponta do espectro.
- E) distinguir os dois comprimentos de onda, pois ambos estimulam o pigmento “vermelho” na mesma intensidade.

**Questão 314 (2018.1)**

Um projetista deseja construir um brinquedo que lance um pequeno cubo ao longo de um trilho horizontal, e o dispositivo precisa oferecer a opção de mudar a velocidade de lançamento. Para isso, ele utiliza uma mola e um trilho onde o atrito pode ser desprezado, conforme a figura.



Para que a velocidade de lançamento do cubo seja aumentada quatro vezes, o projetista deve:

- A) manter a mesma mola e aumentar duas vezes a sua deformação.
- B) manter a mesma mola e aumentar quatro vezes a sua deformação.
- C) manter a mesma mola e aumentar dezesseis vezes a sua deformação.
- D) trocar a mola por outra de constante elástica duas vezes maior e manter a deformação.
- E) trocar a mola por outra de constante elástica quatro vezes maior e manter a deformação.

**Questão 315 (2018.1)**

Talvez você já tenha bebido suco usando dois canudinhos iguais. Entretanto, pode-se verificar que, se colocar um canudo imerso no suco e outro do lado de fora do líquido, fazendo a sucção simultaneamente em ambos, você terá dificuldade em bebê-lo.

Essa dificuldade ocorre porque o(a):

- A) força necessária para a sucção do ar e do suco simultaneamente dobra de valor
- B) densidade do ar é menor que a do suco, portanto, o volume de ar aspirado é muito maior que o volume de suco.
- C) velocidade com que o suco sobe deve ser constante nos dois canudos, o que é impossível com um dos canudos de fora.
- D) peso da coluna de suco é consideravelmente maior que o peso da coluna de ar, o que dificulta a sucção do líquido.
- E) pressão no interior da boca assume praticamente o mesmo valor daquela que atua sobre o suco.

**Questão 316 (2018.2)**

Para que se faça a reciclagem das latas de alumínio são necessárias algumas ações, dentre elas:

- 1) recolher as latas e separá-las de outros materiais diferentes do alumínio por catação;
- 2) colocar as latas em uma máquina que separa as mais leves das mais pesadas por meio de um intenso jato de ar;
- 3) retirar, por ação magnética, os objetos restantes que contêm ferro em sua composição.

As ações indicadas possuem em comum o fato de

- A) exigirem o fornecimento de calor.
- B) fazerem uso da energia luminosa.
- C) necessitarem da ação humana direta.
- D) serem relacionadas a uma corrente elétrica.
- E) ocorrerem sob a realização de trabalho de uma força.

**Questão 317 (2018.2)**

Um carrinho de brinquedo funciona por fricção. A ser forçado a girar suas rodas para trás, contra uma superfície rugosa, uma mola acumula energia potencial elástica. Ao soltar o brinquedo, ele se movimenta sozinho para frente e sem deslizar.

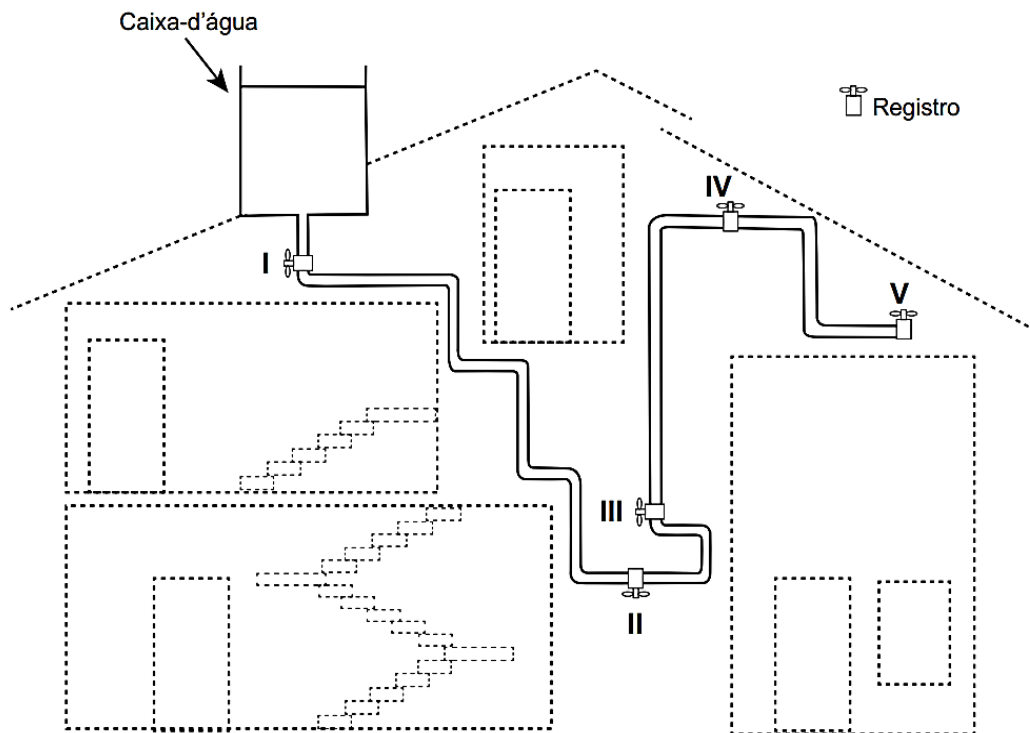
Quando o carrinho se movimenta sozinho, sem deslizar, a energia potencial elástica é convertida em energia cinética pela ação da força de atrito:

- A) dinâmico na roda, devido ao eixo.
- B) estático na roda, devido à superfície rugosa.
- C) estático na superfície rugosa, devido à roda.
- D) dinâmico na superfície rugosa, devido à roda.
- E) dinâmico na roda, devido à superfície rugosa.



**Questão 318 (2018.2)**

A figura apresenta o esquema do encanamento de uma casa onde se detectou a presença de vazamento de água em um dos registros. Ao estudar o problema, o morador concluiu que o vazamento está ocorrendo no registro submetido à maior pressão hidrostática.



Em qual registro ocorria o vazamento?

- A) I
- B) II
- C) III
- D) IV
- E) V

**Questão 319 (2018.2)**

Ao dimensionar circuitos elétricos residenciais, é recomendado utilizar adequadamente bitolas dos fios condutores e disjuntores, de acordo com a intensidade de corrente elétrica demandada. Esse procedimento é recomendado para evitar acidentes na rede elétrica. No quadro é especificada a associação para três circuitos distintos de uma residência, relacionando tensão no circuito, bitolas de fios condutores e a intensidade de corrente elétrica máxima suportada pelo disjuntor.

Dimensionamento — Circuito residencial				
Identificação	Tensão (volt)	Bitola do fio (mm <sup>2</sup> )	Disjuntor máximo (A)	Equipamento a ser ligado (W)
Circuito 1	110	2,5	20	4 200
Circuito 2	220	2,5	20	4 200
Circuito 3	220	6,0	35	6 600

Com base no dimensionamento do circuito residencial, em qual(is) do(s) circuito(s) o(s) equipamento(s) é(estão) ligado(s) adequadamente?

- A) Apenas no Circuito 1.
- B) Apenas no Circuito 2.
- C) Apenas no Circuito 3.
- D) Apenas nos Circuitos 1 e 2.
- E) Apenas nos Circuitos 2 e 3.





**Questão 320 (2018.2)**

Dois jarras idênticas foram pintadas, uma de branco e a outra de preto, e colocadas cheias de água na geladeira. No dia seguinte, com a água a 8 °C, foram retiradas da geladeira e foi medido o tempo decorrido para que a água, em cada uma delas, atingisse a temperatura ambiente. Em seguida, a água das duas jarras foi aquecida até 90 °C e novamente foi medido o tempo decorrido para que a água nas jarras atingisse a temperatura ambiente.

Qual jarra demorou menos tempo para chegar à temperatura ambiente nessas duas situações?

- A) A jarra preta demorou menos tempo nas duas situações.
- B) A jarra branca demorou menos tempo nas duas situações.
- C) As jarras demoraram o mesmo tempo, já que são feitas do mesmo material.
- D) A jarra preta demorou menos tempo na primeira situação e a branca, na segunda.
- E) A jarra branca demorou menos tempo na primeira situação e a preta, na segunda.

**Questão 321 (2018.2)**

Com o avanço das multifunções dos dispositivos eletrônicos portáteis, como os *smartphones*, o gerenciamento da duração da bateria desses equipamentos torna-se cada vez mais crítico. O manual de um telefone celular diz que a quantidade de carga fornecida pela sua bateria é de 1500 mAh.

A quantidade de carga fornecida por essa bateria, em coulomb, é de:

- A) 90.
- B) 1500.
- C) 5400.
- D) 90000.
- E) 5400000.

**Questão 322 (2018.2)**

Em uma manhã ensolarada, uma jovem vai até um parque para acampar e ler. Ela monta sua barraca próxima de seu carro, de uma árvore e de um quiosque de madeira. Durante sua leitura, a jovem não percebe a aproximação de uma tempestade com muitos relâmpagos.

A melhor maneira de essa jovem se proteger dos relâmpagos é:

- A) entrar no carro.
- B) entrar na barraca.
- C) entrar no quiosque.
- D) abrir um guarda-chuva.
- E) ficar embaixo da árvore.

**Questão 323 (2018.2)**

O princípio básico de produção de imagens em equipamentos de ultrassonografia é a produção de ecos. O princípio pulso-eco refere-se à emissão de um pulso curto de ultrassom que atravessa os tecidos do corpo. No processo de interação entre o som e órgãos ou tecidos, uma das grandezas relevantes é a impedância acústica, relacionada à resistência do meio à passagem do som, definida pelo produto da densidade ( $\rho$ ) do material pela velocidade ( $v$ ) do som nesse meio. Quanto maior a diferença de impedância acústica entre duas estruturas, maior será a intensidade de reflexão do pulso e mais facilmente será possível diferenciá-las. A tabela mostra os diferentes valores de densidade e velocidade para alguns órgãos ou tecidos.

Estruturas	$\rho \left( \frac{\text{kg}}{\text{m}^3} \right)$	$v \left( \frac{\text{m}}{\text{s}} \right)$
Cérebro	1 020	1 530
Músculo	1 040	1 580
Gordura	920	1 450
Osso	1 900	4 040

(CAVALCANTE, M. A.; PEÇANHA, R.: LEITE, V. F. Princípios básicos de imagens ultrassônicas e a determinação da velocidade do som no ar através do eco. Física na Escola, n. 1, 2012 - adaptado)

Em uma imagem de ultrassom, as estruturas mais facilmente diferenciáveis são:

- A) osso e gordura.
- B) cérebro e osso.
- C) gordura e cérebro.
- D) músculo e cérebro.
- E) gordura e músculo.

**Questão 324 (2018.2)**

Baterias de lítio, utilizadas em dispositivos eletrônicos portáteis, são constituídas de células individuais com ddp de 3,6 V. É comum os fabricantes de computadores utilizarem as células individuais para a obtenção de baterias de 10,8 V ou 14,4 V. No entanto, fazem a propaganda de seus produtos fornecendo a informação do número de células da bateria e sua capacidade de carga em mAh, por exemplo, 4400 mAh.

(Disponível em: [www.laptopbattery.net](http://www.laptopbattery.net). Acesso em: 15 nov. 2011 - adaptado)

Dentre as baterias de 10,8 V e 14,4 V, constituídas por 12 células individuais, qual possui maior capacidade de carga?

- A) A bateria de 10,8 V, porque possui combinações em paralelo de 4 conjuntos com 3 células em série.



- B) A bateria de 14,4 V, porque possui combinações em paralelo de 3 conjuntos com 4 células em série.
- C) A bateria de 14,4 V, porque possui combinações em série de 3 conjuntos com 4 células em paralelo.
- D) A bateria de 10,8 V, porque possui combinações em série de 4 conjuntos com 3 células em paralelo.
- E) A bateria de 10,8 V, porque possui combinações em série de 3 conjuntos com 4 células em série.

**Questão 325 (2018.2)**

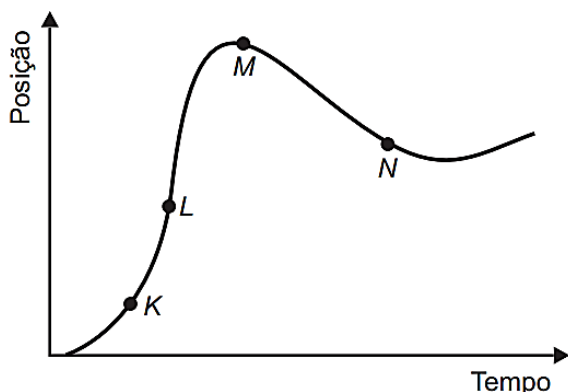
Com um dedo, um garoto pressiona contra a parede duas moedas, de R\$ 0,10 e R\$ 1,00, uma sobre a outra, mantendo-as paradas. Em contato com o dedo está a moeda de R\$ 0,10 e contra a parede está a de R\$ 1,00. O peso da moeda de R\$ 0,10 é 0,05 N e o da de R\$ 1,00 é 0,09 N. A força de atrito exercida pela parede é suficiente para impedir que as moedas caiam.

Qual é a força de atrito entre a parede e a moeda de R\$ 1,00?

- A) 0,04 N  
B) 0,05 N  
C) 0,07 N  
D) 0,09 N  
E) 0,14 N

**Questão 326 (2018.2)**

Um piloto testa um carro em uma reta longa de um autódromo. A posição do carro nessa reta, em função do tempo, está representada no gráfico.



Os pontos em que a velocidade do carro é menor e maior são, respectivamente,

- A) K e M.  
B) N e K.  
C) M e L.  
D) N e L.  
E) N e M.

**Questão 327 (2018.2)**

Ao soltar um martelo e uma pena na Lua em 1973 o astronauta David Scott confirmou que ambos atingiram juntos a superfície. O cientista italiano Galileu Galilei (1564-1642), um dos maiores pensadores de todos os tempos, previu que, se minimizarmos a resistência do ar, os corpos chegariam juntos à superfície.

(OLIVEIRA, A. A influência do olhar. Disponível em: [www.cienciahoje.org.br](http://www.cienciahoje.org.br). Acesso em: 15 ago. 2016 - adaptado)

Na demonstração, o astronauta deixou cair em um mesmo instante e de uma mesma altura um martelo de 1,32 kg e uma pena de 30 g. Durante a queda no vácuo, esses objetos apresentam iguais:

- A) inércias.  
B) impulsos.  
C) trabalhos.  
D) acelerações.  
E) energias potenciais.

**Questão 328 (2018.2)**

Alguns modelos mais modernos de fones de ouvido contam com uma fonte de energia elétrica para poderem funcionar. Esses novos fones têm um recurso, denominado “Cancelador de Ruídos Ativo”, constituído de um circuito eletrônico que gera um sinal sonoro semelhante ao sinal externo de frequência fixa. No entanto, para que o cancelamento seja realizado, o sinal sonoro produzido pelo circuito precisa apresentar simultaneamente características específicas bem determinadas.

Quais são as características do sinal gerado pelo circuito desse tipo de fone de ouvido?

- A) Sinal com mesma amplitude, mesma frequência e diferença de fase igual a  $90^\circ$  em relação ao sinal externo.
- B) Sinal com mesma amplitude, mesma frequência e diferença de fase igual a  $180^\circ$  em relação ao sinal externo.
- C) Sinal com mesma amplitude, mesma frequência e diferença de fase igual a  $45^\circ$  em relação ao sinal externo.
- D) Sinal de amplitude maior, mesma frequência e diferença de fase igual a  $90^\circ$  em relação ao sinal externo.
- E) Sinal com mesma amplitude, mesma frequência e mesma fase do sinal externo.

**Questão 329 (2018.2)**

Para preparar uma sopa instantânea, uma pessoa aquece em um forno micro-ondas 500 g de água em uma tigela de vidro de 300 g. A temperatura inicial da tigela e da água era de  $6^\circ\text{C}$ .



Com o forno de micro-ondas funcionando a uma potência de 800 W, a tigela e a água atingiram a temperatura de 40°C em 2,5 min. Considere que os calores específicos do vidro e da sopa são, respectivamente, 0,2 cal/g·°C e 1,0 cal/g·°C, e que 1 cal = 4,2 J.

Que percentual aproximado da potência usada pelo micro-ondas é efetivamente convertido em calor para o aquecimento?

- A) 11,8%
- B) 45,0%
- C) 57,1%
- D) 66,7%
- E) 78,4%

## GABARITO

1	B
2	C
3	B
4	D
5	D
6	E
7	C
8	D
9	E
10	E
11	E
12	C
13	E
14	D
15	E
16	B
17	E
18	E
19	E
20	D
21	E
22	D
23	A
24	D
25	D
26	E
27	A
28	D
29	D
30	B
31	B
32	B
33	C

34	D
35	C
36	A
37	A
38	D
39	C
40	C
41	D
42	B
43	A
44	C
45	A
46	C
47	E
48	C
49	A
50	D
51	D
52	B
53	E
54	B
55	A
56	E
57	D
58	D
59	A
60	C
61	C
62	E
63	E
64	E
65	D
66	C

67	E
68	C
69	E
70	B
71	B
72	E
73	D
74	C
75	A
76	E
77	C
78	E
79	D
80	B
81	D
82	D
83	B
84	A
85	C
86	A
87	C
88	B
89	B
90	E
91	C
92	D
93	A
94	D
95	C
96	A
97	C
98	E
99	A

100	E
101	B
102	D
103	C
104	C
105	E
106	C
107	C
108	E
109	A
110	D
111	A
112	B
113	B
114	D
115	C
116	C
117	E
118	B
119	B
120	C
121	C
122	D
123	D
124	E
125	D
126	E
127	E
128	A
129	A
130	B
131	E
132	E



133	A
134	C
135	C
136	A
137	E
138	E
139	C
140	D
141	A
142	D
143	A
144	B
145	C
146	B
147	E
148	D
149	B
150	B
151	B
152	D
153	B
154	E
155	E
156	E
157	B
158	D
159	B
160	D
161	E
162	C
163	A
164	D
165	C
166	C
167	E
168	C
169	A
170	B
171	E
172	C
173	A
174	A
175	E
176	A
177	C

178	A
179	D
180	B
181	A
182	B
183	C
184	D
185	A
186	B
187	E
188	B
189	E
190	E
191	A
192	B
193	E
194	A
195	B
196	C
197	E
198	B
199	E
200	C
201	C
202	B
203	C
204	D
205	A
206	B
207	C
208	D
209	B
210	E
211	B
212	D
213	B
214	A
215	E
216	B
217	D
218	C
219	C
220	C
221	C
222	D

223	B
224	D
225	C
226	A
227	A
228	D
229	A
230	D
231	D
232	C
233	A
234	D
235	A
236	B
237	B
238	C
239	B
240	A
241	C
242	C
243	B
244	A
245	C
246	A
247	D
248	D
249	B
250	E
251	C
252	C
253	D
254	B
255	E
256	D
257	E
258	A
259	B
260	C
261	D
262	B
263	C
264	B
265	E
266	D
267	A

268	C
269	E
270	C
271	B
272	C
273	C
274	D
275	A
276	E
277	E
278	A
279	C
280	D
281	B
282	E
283	A
284	C
285	B
286	D
287	E
288	D
289	C
290	B
291	B
292	E
293	D
294	D
295	D
296	A
297	B
298	D
299	E
300	E
301	C
302	E
303	A
304	C
305	C
306	D
307	C
308	D
309	E
310	A
311	B
312	A



313	E
314	B
315	E
316	E
317	B

318	B
319	E
320	A
321	C
322	A

323	A
324	A
325	E
326	C
327	D

328	B
329	D



**Cadernos Enem 2019**

E-mail: [novocadernoenem@gmail.com](mailto:novocadernoenem@gmail.com)  
Site: [www.novocadernoenem.blogspot.com](http://www.novocadernoenem.blogspot.com)

**Reclamações, sugestões, elogios...  
Entre em contato com a gente!**